

Türkçe testi 7 sorudan oluşmaktadır.

.....

Bugün bir başka aydınlık yeryüzü,  
Bir başka ağaçların, evlerin yüzü.  
Bugün çocuklar güzel.  
Bugün sokaklar güzel...  
Elimizden tutan her el  
Daha sağlam  
Daha mavi gökyüzü;  
Bayraklar daha yakın.  
Bakin: geçiyor yarının büyükleri;  
Şarkılar tutuyor gökleri.

İlk üç soruyu yukarıdaki metne göre cevaplayınız.

1. Yukarıdaki şiire en uygun başlık aşağıdakilerden hangisi olabilir?

- A) Gökyüzü                      B) 23 Nisan  
C) İlkbahar                      D) Çocuklar

2. Şiirde aşağıdaki ifadelerin hangisinden bahsedilmiştir?

- A) Güven                      B) Özlem  
C) Şefkat                      D) Hırs

3. Şiir kimler için yazılmıştır?

- A) Yetişkinler                      B) Öğrenciler  
C) Gençler                      D) Çocuklar

4. Aşağıdakilerden hangisi deyimlerin bir özelliği değildir?

- A) Deyimler tek sözcüklü olabilir.  
B) Deyimler konuşma süresini kısaltır.  
C) Deyimler, olaylara etkileyici bir anlam kazandırır.  
D) Deyimler, çoğunlukla gerçek anlamları dışında kullanılırlar.

5. "Pencerenin dışındaki rüzgarın uğultusundan uyukum kaçtı." cümlesindeki altı çizili sözcüğün yerine aşağıdakilerden hangisi getirilirse cümlenin anlamında bir değişiklik olmaz?

- A) ağaç                      B) yağmur                      C) yel                      D) soğuk

6. Aşağıdaki cümlelerin hangisinde uçmak sözcüğü gerçek anlamda kullanılmıştır?

- A) Ağaçta kuşlar cıvıldaşıp kanatları uçmak ister.  
B) Maske fiyatları bir anda uçtu.  
C) Zümra, sevinçten havalara uçtu.  
D) Melih köpeği görünce uçup gitti.

7. "Ordular( ) ilk hedefiniz Akdeniz( )dir( ) ileri( )" Cümlesindeki ayraç içlerine uygun noktalama hangi şıkta doğru verilmiştir?

- A) (.) (') (.) (.)                      B) (!) (') (.) (!)  
C) (!) (') (!) (.)                      D) (.) (') (.) (!)

Fen Bilimleri testi 6 sorudan oluşmaktadır.

8. Aşağıdaki ifadelerden hangisi yanlıştır?

- A) Kayaçlar bir veya birden fazla mineralin bir araya gelmesiyle oluşur.
- B) Ekonomik değeri olan kayaçlara mineral denir.
- C) Madenler işlenerek birçok araç gereç ve eşyanın yapımında kullanılır.
- D) Fosillerin birçoğu ya deniz hayvanlarına ya da suya yakın yerlerde yaşayan hayvanlara aittir.

9. Yandaki şekle göre verilenlerden hangisi doğrudur?



- A) Şekil, gece ve gündüzün oluşumunu modellemektedir.
- B) 1 numaralı gök cismi ışık kaynağımız Ay'dır.
- C) 2 numaralı kısımda yaz mevsimi yaşanmaktadır.
- D) Şekil, mevsimlerin oluşumuyla ilgilidir.

10. Mevsimlerde sıcaklık farkının olmasının başlıca nedeni nedir?

- A) Dünya'nın kendi etrafında dönmesi
- B) Ay'ın Dünya etrafında dönmesi
- C) Güneş ışınlarının Dünya'ya geliş açısı
- D) Dünya'nın Güneş'e olan mesafesi

11.



Et, süt, yumurta, balık gibi hayvansal besinlerde ve nohut, mercimek, fasulye gibi bitkisel besinlerde bol miktarda bulunurlar.

Yukarıda verilen bilgi ile hangi tür besin içeriği örneklendirilmiştir?

- A) Proteinler
- B) Karbonhidratlar
- C) Vitaminler
- D) Mineraller

12. Aşağıda verilen hangi ifade besinleri tüketirken dikkat etmemiz gereken bir nokta değildir?

- A) Sucuk, salam ve pastırma gibi et ürünlerini çiğ olarak tüketmemeliyiz.
- B) Çiğ tükettiğimiz sebze ve meyveleri bol su ile yıkamalıyız.
- C) Son tüketim tarihi geçmemiş besin maddelerini tercih etmeliyiz.
- D) Dengeli beslenmek için devamlı aynı tür besinleri tüketmeliyiz.

13.



Yukarıdaki şekilde, belirtilen mıknatıslarla donatılan oyuncak arabalar hangi yöne giderler?

- A)
- B)
- C)
- D)

Matematik testi 8 sorudan oluşmaktadır.

14. "Kırk bin kırk sekiz" sayısının hangi basamaklarındaki sayılar aynıdır?

- A) Binler ve onlar basamağı  
B) On binler ve yüzler basamağı  
C) Binler ve birler basamağı  
D) On binler ve onlar basamağı

15. En yakın yüzlüğe yuvarlandığında 1500 olan en büyük doğal sayı kaçtır?

- A) 1549  
B) 1450  
C) 1550  
D) 1501

16. 

Yukarıdaki rakamları birer kere kullanarak yazılabilecek en küçük 6 basamaklı çift doğal sayı aşağıdakilerden hangisidir?

- A) 204796  
B) 204679  
C) 246790  
D) 206794

17. 

8	13	10	15	12	18	14
---	----	----	----	----	----	----

Yukarıdaki örüntüde kuralı bozan sayı hangisidir?

- A) 8  
B) 14  
C) 18  
D) 15

18.  $847 + 786 = ? - 2375$

Yukarıdaki eşitliğin sağlanması için ? olan yere hangi sayı yazılmalıdır?

- A) 3998  
B) 3908  
C) 4018  
D) 4008

19. Okulumuzdaki erkek öğrencilerin sayısı kız öğrencilerin sayısından 47 fazladır. Kız öğrencilerin sayısı 649 olduğuna göre, okulumuzdaki öğrenci sayısı kaçtır?

- A) 1345  
B) 1251  
C) 696  
D) 602

20. Aşağıdaki çarpma işlemlerinden hangisi yanlıştır?

- A)  $7 \times 1000 = 7\ 000$   
B)  $8100 \times 10 = 81\ 000$   
C)  $11 \times 100 = 11\ 100$   
D)  $376 \times 1000 = 376\ 000$

21. Fatih, 6 yaşındadır. Babasının yaşı Fatih'in yaşının 7 katıdır. Kaç yıl sonra Fatih ve babasının yaşları toplamı 64 olur?

- A) 8  
B) 9  
C) 10  
D) 11

Sosyal Bilgiler testi 6 sorudan oluşmaktadır.

22.  Aşağıdaki bilgilerden hangisi yeni kimlik kartlarında yoktur?

- A) İmza  
B) Baba adı  
C) Verilen makam  
D) Kadınların kimlik kartı rengi pembe dir

23. Aşağıdaki ifadelerden hangisi yanlıştır?

- A) Herkesin kendine özgü yeteneği vardır.  
B) Kronolojide olayların geçtiği tarihleri bilmenin bir önemi yoktur.  
C) Sözlü tarih, olayların tanığı olan kişilerle yapılan söyleşilere dayanılarak yazılır.  
D) Aslanlarla ilgili belgeselleri kaçırmamaya çalışmak bir ilgidir.




24. "Her millet; dili, gelenek ve görenekleri, millî kıyafetleri, bayramları, inançları, ahlaki değerleri ve sanat anlayışı ile başka milletlerden ayrılır."

Buna göre, aşağıdakilerden hangisi Türk Milletini diğer milletlerden ayıran kültürel öğelerden biri değildir?

- A) Evlenen kızların gelinlik giymesi  
B) Bayramlarda büyüklerin ellerinin öpülmesi  
C) Dokuma sanatı  
D) Kolbastı, horon gibi yöresel oyunlar

25. Aşağıdaki yön bulma yöntemlerinden hangisi yanlış ifade edilmiştir?

- A) Kutup yıldız → Yüzümüzü Kutup Yıldızına döndüğümüzde önümüz kuzeyi, arkamız güneyi, sağımız doğuyu, solumuz ise batıyı gösterir.  
B) Yosunlar → Ağaç gövdelerinin, taşların, kayaların yosunlu tarafı kuzeyi gösterir.  
C) Karıncalar → Karınca yuvalarının açık olan ağız kuzey yönüne bakar.  
D) Pusula → Pusula yatay tutulduğunda ortasındaki renkli çubuk kuzeyi gösterir.

26.  Çevremizde gördüğümüz her şey beşeri unsurdur  
 Kroki çizimlerde ölçek kullanılmaz.  
 İnsanlar türkü, şarkı, hikaye ve destanlarla yaşadığı yerin özelliklerini anlatmışlardır.

Yukarıdaki ifadelerden hangileri doğrudur?

- A) Hepsi  
B)    
C)   
D)  

- 27 Aşağıdaki ifadelerden hangisi deprem sırasında alınması gereken bir önlemdir?

- A) Acil durum planı hazırlamak  
B) Deprem çantası hazırlamak  
C) Devrilebilecek mobilyaların duvara sabitlenmesini sağlamak  
D) Evdeyse pencere ve kapılardan uzak durmak

Trafik Güvenliği testi 7 sorudan oluşmaktadır.




28. "Kara yolları üzerinde yayaaların, araçların ve hayvanların hâl ve hareketlerine ..... denir"

Yukarıdaki ifadede boş bırakılan yere yazılabilecek en uygun sözcük hangisidir?

- A) trafik B) oyun  
C) ulaşım D) trafik işaretleri

29. Aşağıdakilerden hangisi trafik kazalarının nedenlerinden biri değildir?

- A) Yayaaların trafik kurallarına uymaması  
B) Olumsuz iklim koşulları  
C) Yol ve araç kusurları  
D) Yaya kaldırımının olmadığı yerde yolun sol tarafından yürünmesi

30.  Bireylerin hatalı davranışlarını azaltmak  
 Bilinçli ve sorumlu davranmanın gerekliliğini öğrenmek  
 Trafik kazalarının sayısını azaltmak

Yukarıdaki ifadelerden hangileri trafik eğitiminin amaçlarını oluşturur?

- A)   B)     
C)  D)  

31. Trafik işaretlerine ve işaret levhalarına zarar verenleri hangi numaradan şikayet edebiliriz?

- A) 112 B) 122  
C) 155 D) 110

32. Toplu taşıma ●

Yaya kaldırımı ●

Üst geçit ●

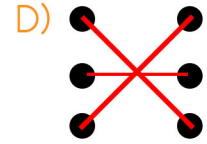
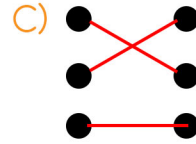
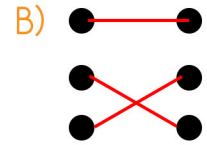
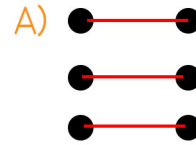
● Çok sayıda insanın seyahat ihtiyacının aynı anda karşılanmasıdır.

● Yolun üstünden geçilen köprüdür.

● Yayaaların kullanması için ayrılmış alandır.

Yukarıda trafik kavramları ve açıklamaları verilmiştir.

Trafik kavramları ve açıklamaları eşleştirildiğinde doğru eşleştirme aşağıdakilerden hangisi olur?



33.



Yandaki trafik işaret levhası ile ilgili verilen bilgilerden hangisi yanlıştır?

- A) Bu işaret levhasının bulunduğu yerde çocukların geçebileceği belirtilir.  
B) Bu işaret levhası ileride yaya geçidi olduğu uyarısında bulunur.  
C) Bu işaret levhasını gören sürücüler yavaşlamalıdır.  
D) Bu işaret levhası "Tehlik Uyarı İşaretleri" grubundandır.

İnsan Hakları, Yurttaşlık ve Demokrasi testi 7 sorudan oluşmaktadır.

34. Aşağıdakilerden hangisi insanları diğer canlılardan ayıran bir özellik değildir?

- A) İnsan düşünen bir canlıdır.
- B) İnsan sosyal bir canlıdır.
- C) İnsan duyguları olan bir canlıdır.
- D) İnsan hareketli bir canlıdır.

35. Başkalarının yaşama şekline müdahale etmeden kendi yaşamımıza yön verme özgürlüğüne ..... denir.


Yukarıdaki ifadede boş bırakılan yeri en uygun hangi sözcükle doldurabiliriz?

- A) hak
- B) özgürlük
- C) sorumluluk
- D) eşitlik

36. Aşağıdakilerden hangisi temel haklarımızın özelliklerinden değildir?

- A) vazgeçilmez
- B) süresiz
- C) devredilmez
- D) dokunulmaz

37.



Yandaki görsel hangi temel hakkımızı ifade etmektedir?

- A) Eğitim hakkı
- B) Sağlık hakkı
- C) Seçme ve seçilme hakkı
- D) Özel yaşamın gizliliği

38. .... insanın verdiği kararların sonuçlarına katlanmasıdır.

Yukarıdaki ifadede boş bırakılan yeri en uygun hangi sözcükle doldurabiliriz?

- A) özgürlük
- B) adalet
- C) uzlaşma
- D) sorumluluk

39. Aşağıdakilerden hangisi insanın kendisine karşı sorumluluklarındandır?

- A) Aile bireylerine karşı saygı ve sevgi göstermek
- B) Arkadaşlarının sırrını başkalarıyla paylaşmamak
- C) Hayvanlara kötü davranmamak
- D) Zamanını verimli kullanmak

40. Hak ve özgürlüklerimiz ihlal edildiği zaman ilk yapmamız gereken şey nedir?

- A) Yasal yollara başvurmalıyız.
- B) Karşı tarafla anlaşmaya çalışmalıyız.
- C) Öfke ile karşılık vermeliyiz.
- D) Önemsememeliyiz.