


## Tartma

1.  $5t\ 60kg = 560kg$  ①  $6080mg = 6g\ 80mg$  ②

$5kg\ 30g = 5030g$  ③  $9g\ 50mg = 9050mg$  ④

Yukarıdaki dönüştürmelerden hangisi yanlıştır?

- A) 1 B) 2 C) 3 D) 4

2.  "Yan taraftaki muzun kütlesi 1kg 250g'dan fazla, 2kg'dan azdır."

Yukarıdaki bilgiye göre muzun kütlesi hangi seçenekteki kütle olabilir?

- A) Bir buçuk kilogram B) 2kg 150g
- 
- C) 1kg 220g D) 1150g

3.  $2070\ kg = 2t\ 7kg$   
① ② ③ ④


Yukarıda verilen dönüştürmede bir yanlışlık yapılmıştır. Hangi seçenekteki değişikliği yaparsak bu hatayı düzeltebiliriz?

- A) ① 2070'deki 0'i silerek.
- 
- B) ② kg yerine t yazarak.
- 
- C) ③ 2t yerine 20t yazarak.
- 
- D) ④ 7kg yerine 70kg yazarak.

4. I.  $7t\ 7kg = 7007kg$   
II.  $2800g = 2kg\ 800g$   
III.  $7kg\ 30g = 730g$   
IV.  $90g\ 8mg = 9008mg$


Yukarıdaki dönüştürmelerden kaç tanesi doğrudur?

- A) 4 B) 3 C) 2 D) 1




Bir yük treninin her vagonuna 3000kg kömür yüklenecek sefere çıkıyor. Trenin 5 vagonu olduğuna göre bir seferde kaç ton kömür taşımış olur?

- A) 1500t B) 150t C) 15t D) 1t 500kg

6.  Bir fırıncı 10kg unun 7kg 80gramı ile ekmek yapmıştır. Geriye kaç gram un kalmıştır?

- A) 3920g B) 2920g C) 2200g D) 3200g

7.  Bir kuruyemişiçi 8kg fıstığından ilk gün 3kg 500g, ikinci gün 4kg 500g satmıştır. Geriye ne kadar fıstığı kalmıştır?

- A) Kalmamıştır. B) 500g
- 
- C) 1kg 500g D) 1kg

**Tartma**

8. 8kg leblebi 100 gramlık poşetlere konulmuştur. Buna göre kaç poşet kullanılmıştır?  
A) 800 B) 8000 C) 8 D) 80
9. Bir kilogramı 5TL olan kirazdan 3kg, beş yüz gramı 4TL olan erikten 4kg alınır. Satıcıya kaç TL verilir?  
A) 31TL B) 47TL C) 41TL D) 37TL
10. Bir kasap 75kg etin önce 36kg'ını, sonra 25kg 300gramını satıyor. Geriye ne kadar eti kalmıştır?  
A) 13kg 700g B) 14kg 300g  
C) 14kg D) 14kg 700g
11. 250 kilogramı 100TL olan kömürün 2 tonu kaç TL'dir?  
A) 2000TL B) 400TL  
C) 1000TL D) 800TL
12. 4 tonu 400TL'ye satılan kömürün 500 kilogramı kaç TL'dir?  
A) 50TL B) 100TL  
C) 200TL D) 25TL
13. Bir lokantada bir yılda 1t 200kg patates tüketilmiştir. Buna göre, bu lokantada aylık ne kadar patates tüketilmektedir.  
A) 50kg B) 200kg  
C) 100kg D) 20kg
14. Bir koli içinde 2 düzine makarna vardır. Bir makarna 120 gram olduğuna göre 2 koli makarnanın kütlesi ne kadardır?  
A) 2kg 880g B) 2400g  
C) 5760g D) 4kg 800g
15. Bir çiftçi, ürettiği 4t 400kg buğdayı 40 kg'lık çuvallara dolduruyor. Bir kamyon bir seferde 55 çuval buğday taşıyabildiğine göre kamyon buğdayın tamamını kaç seferde taşıyabilir?  
A) 1 B) 2  
C) 3 D) 4
16. Ahmet'in kütlesi 48kg, Mehmet'in kütlesi Ahmet'ten 13kg daha fazla, Elif'in kütlesi Mehmet'ten 18kg daha az olduğuna göre üçünün kütleleri toplamı kaç kg'dır?  
A) 188kg B) 152kg  
C) 43kg D) 79kg