

## Genel Trafik Güvenliği Soruları

1. Trafikte sorumluluğu olmayan hangisidir?

- A) sürücü B) yolcu C) yaya D) hayvan

2. Aşağıdaki trafik kazalarının hangisinde kusur en fazla sürücüye aittir?

- A) Otomobilin yaya geçidinden geçen yayaya çarpması.  
B) Aracın, kayganlaşan yolda direğe çarpması.  
C) Otomobilin kırmızı ışıkta geçen yayaya çarpması.  
D) Freni bozulan aracın diğer araca çarpması.

3. Hangisi trafik kazalarına neden olan faktörlerden değildir?

- A) Uykulu araç kullanmak  
B) Hız limitlerine uymamak  
C) Çok hızlı gidebilen bir araç kullanmak  
D) Trafiğe açık alanda oyun oynamak

4. Aşağıdaki ışıklı trafik işaret cihazıyla ilgili verilen bilgilerden hangisi yanlıştır?

- A) Araçlara kırmızı ışık yanarken trafik polisi sürücülere geç diyorsa geçilir.  
B) Araçlara kırmızı ışık yandığında yayalar bekler.  
C) Yayalara yeşil ışık yandığında araçlar bekler.  
D) Yeşilden sonra yanan sarı ışık, yolun trafiğe kapanmak üzere olduğunu bildirir.

5. Trafikte yürüyerek hareket edenlere ....., otomobil, tren, gemi, uçak gibi taşıma araçlarına ....., yaya yolu ayrılmamış kara yolunda, taşıt yolu kenarında kalan yaya, hayvan ve zorunlu hâllerde de araçların faydalanabileceği kısma ..... denir.

Yukarıda boş bırakılan alanlara sırasıyla hangileri getirilmelidir?

- A) yaya - taşıt - yaya geçidi  
B) yolcu - taşıt - yaya geçidi  
C) yaya - taşıt - banket  
D) yolcu - taşıt - kaldırım

6. Aşağıdakilerden hangisi trafik işaret levhalarını kullanma amaçlarından biri değildir?

- A) Tamir etme B) Bilgilendirme  
C) Uyarma D) Yasaklama

7.



Yandaki trafik işaret levhasının anlamı nedir?

- A) Bisiklet girebilir. B) Mecburi bisiklet yolu.  
C) Bisiklet giremez. D) Bisikletsiz girilmez.

8.

Aşağıdaki trafik işaret levhalarını gruplayacak olsak hangisi grup dışı kalır?

- A)  B)  C)  D) 

## Genel Trafik Güvenliği Soruları

9. Trafik işaret ve işaret levhalarına zarar vermek .....

Yukarıdaki ifadeyi hangi sözcük grubuyla tamamlayamayız?

- A) ülke ekonomisine zarar verir.
- B) can ve mal güvenliğini tehlikeye düşürür.
- C) yaya ve sürücülerin bilgilenmesine engel olur.
- D) vatandaşlık görevidir.

10. Aşağıdaki ifadelerden hangisi doğrudur?

- A) Gidiş yönümüze göre yaya kaldırımının sağ tarafından yürümeliyiz.
- B) Yaya kaldırımalarında bisiklet, scooter, paten, kaykay vb. araçlar kullanabiliriz.
- C) Banketten yürürken gidiş yönümüze göre sağ taraftaki banketten yürümeliyiz.
- D) Yaya kaldırımının olmadığı yollarda kara yolunun kenarında bulunan park alanlarını kullanmalıyız.

11. Güvenli geçiş yerlerinin olmadığı yerlerde karşıdan karşıya nasıl geçilir?

- A) Önce sağ tarafa, sonra sol tarafa bakmalı, tekrar sağ tarafa bakıp geçmeliyiz.
- B) Koşarak geçmeliyiz.
- C) Önce sol tarafa, sonra sağ tarafa bakmalı, tekrar sol tarafa bakıp geçmeliyiz.
- D) Hiçbir tarafa bakmadan hızlı adımlarla geçmeliyiz.

12. Kara yollarında yol ve trafik güvenliğinin sağlanması için; yol çizgileri, trafik işaret levhaları, ışıklı işaret cihazları, alt ve üst geçitler ile aydınlatma cihazları vardır. Böyle yollara ..... denir.

Yukarıdaki ifadeyi en uygun hangi sözcükle tamamlayabiliriz?

- A) ekonomik yollar
- B) güvenli yollar
- C) işlek yollar
- D) kaliteli yollar

13.

-  Kask
-  Dizlik
-  Eldiven
-  Maske

Yukarıdakilerden hangileri bisiklet, scooter, kaykay, paten ve kızak gibi motorsuz taşıtları kullanmadan önce alınması gereken güvenlik önlemlerindendir?

- A) Hepsi
- B)  
- C)   
- D)   

14.










Bisikleti bir ulaşım aracı olarak kullanabilmek için en az kaç yaşında olmak gerekiyor?

- A) 18
- B) 15
- C) 13
- D) 11

15.

-  Maliyet
-  Süre
-  Yolcu Sayısı
-  Güvenlik

Yukarıdakilerden hangileri bir yere giderken belirlediğimiz ulaşım araçları etmenlerindendir?

- A) Hepsi
- B)   
- C)   
- D)   

## Genel Trafik Güvenliği Soruları

16. Aşağıdaki hangi aracın geçiş üstünlüğü yoktur?

- A) Ambulans B) Otomobil  
C) İtfaiye D) Polis arabası

17. Geçiş üstünlüğü olan araçlar hangi durumlarda geçiş hakkını kullanırlar?

- A) Görev halindeyken.  
B) Her zaman.  
C) Sadece gündüz vaktinde.  
D) Sadece mesai saatleri içinde.

18. Yapım ve bakımından sorumlu olduğu kara yollarında trafik güvenliğini sağlamak için gerekli düzenleme ve işaretlemeleri yapan kurum hangisidir?

- A) Emniyet Genel Müdürlüğü  
B) Sağlık Bakanlığı  
C) Karayolları Genel Müdürlüğü  
D) Sürücü Kursu

19. Aşağıda verilen trafikle ilgili meslekler ve açıklamalarının hangisinde yanlışlık yapılmıştır?

- A) Şoför: Mesleği araç kullanmak olan kişi.  
B) Makinist: Lokomotif ve vapur kullanan kişi.  
C) Pilot: Uçak, helikopter kullanan ve yöneten kimse  
D) Vatman: Gemi kullanan kişi

20. Aşağıdakilerden hangisi kişisel aracımız yerine toplu taşıma araçlarını tercih etme sebeplerimizden biri değildir?

- A) Maliyet B) Çevre kirliliği  
C) Sosyalleşme D) Trafik yoğunluğu

21.  Toplu taşıma araçlarına duraklarda inilip binilmeli.  
 Toplu taşıma aracına arka kapıdan binilip ön kapıdan inilmeli.  
 Aynı kapıdan binilen ve inilen toplu taşıma araçlarında, taşıttan inen yolculara öncelik verilmeli.

Yukarıdaki ifadelerin yanlarındaki kutuya doğru için "D", yanlış için "Y" yazdığımızda hangi seçenek doğru olur?

- A)  D  D  D  Y  
 D  Y  Y  Y  
 D  D  Y  Y

22. "Güneş altında park edilen araçtaki çakmak patlıyor ve yangın çıkıyor."

Yukarıdaki olayda en büyük kusur hangisindedir?

- A) Sürücü B) Güneş  
C) Çakmak üreticisi D) Araba üreticisi

23. Aşağıdaki ifadelerden hangisi yanlıştır?

- A) Emniyet kemeri takmak trafik kazasını önler.  
B) Okul servis araçlarında ayakta yolculuk yapılmamalıdır.  
C) Pencerelerden dışarıya el, kol, kafa çıkarılmamalıdır.  
D) On yaşından küçük çocuklar ön koltukta yolculuk yapmamalıdır.