

Türkçe : 10 sorudan oluşmaktadır.

1.



kelek

kelime

kelebek

Yukarıda, altlarındaki sözcüklerin alfabetik sıralamasına göre hızları olan arabalar vardır.

Alfabetik sıralamaya göre sonda olan sözcüğün arabası en hızlıdır.

Ahmet hız yapmayı sevmediğine göre hangi arabayı tercih etmelidir?

A)



B)



C)



2.

Derin

•

Boy

•

Ham

•

Süratli

•

Hızlı

•

Siğ

•

En

•

Olgun

•

Yukarıdaki tabloda zıt anlamlı sözcükler eşleştirildiğinde hangi iki sözcük açta kalır?

A) Hızlı / Süratli

B) Derin / Siğ

C) En / Boy

3.

Kokudan evde bir pasta yapıldığını anladı.

Şemsiyesini unutan Elif, yağmurdan sırlıklam oldu.

Tahtadan yapılmış oyuncak, hayallere dalmasını sağladı.

Yukarıdaki cümlelerin hangisinde bir soyut ve bir somut kelime aynı cümlede kullanılmıştır?

A)

B)

C)

4.

"Bir elin nesi var, iki elin sesi var" atasözünü tek sözcükle açıklamak istesek hangi seçenek doğru olur?

A) Dostluk

B) İş birliği

C) Gürültü

5.

Çöpleri yere atmak yanlış bir davranıştır.


Çoban salatası sovensiz olmaz.

Cumartesi günü tıraş günüdür.


Bu soruyu herkez doğru yapacaktır.

Yukarıdaki tabloda yazım yanlışı olan cümleleri boyadığımızda hangi seçeneği elde ederiz?


A)



B)



C)



## Türkçe : 10 sorudan oluşmaktadır.

6. Hafta sonu geldi(1) ve piknik için malzemeleri(2) arabaya yerleştirdik(3) Kedimiz Mirnav(4) ı da getirmeye karar verdik(5) Yol boyunca konuşa(6) konuşa gittik(7) Vardığımızda hemen yiyecekleri(8) mangalı ve örtüleri arabadan indirdik(9) Günümüzün mükemmel geçeceği hava durumu(10) ve yeşilliklerden belliydi(11)

Yukarıdaki metinde numaralandırılmış yerlerin hangilerinde bir noktalama işareti bulunmalıdır?

- A) (3) (4) (5) (7) (8) (9) (11)  
 B) (1) (3) (5) (6) (7) (8) (9) (11)  
 C) (2) (3) (4) (5) (7) (9) (10) (11)

7. Aşağıdaki cümlelerin hangisinde yanlış bir noktalama işareti kullanılmıştır?

- A) Akşam oldu mu eve gelin?  
 B) Ne zaman tükenecek bu yollar, arabacı?  
 C) Görevli memur yaklaştı:  
 – Adınız?

8. ✨ Asla söylemem sevdiğimi.  
 ✨ Seni görmesin gözüm.  
 ✨ Neden sormuyorsun halimi hatrımı?  
 ✨ Gözlerim göremiyor eskisi gibi.

Yukarıdaki cümlelerin kaç tanesi kurallı bir cümle değildir?

- A) 4      B) 3      C) 2

9. ✓ Şu kitap benim, bu kimin?  
 1                      2

- ✓ Doğru seçenekleri sen işaretle, sonra  bana  getir.  
 3                      4

Yukarıdaki cümlelerde sayı ile işaretlenmiş hangi sözcükler bir ismin yerine kullanılmıştır?

- A) 1 - 2 - 3 - 4      B) 2 - 3 - 4  
 C) 2 - 3

10.

Kök halindeki sözcüklere "**basit sözcük**", eklendiği sözcüğün anlamını değiştiren bir ek aldığında yeni oluşan sözcüklere "**türemiş sözcük**", iki ya da daha çok sözcüğün birleşmesiyle oluşan yeni anlamdaki sözcüklere "**birleşik sözcük**" denir.

Yukarıdaki bilgiye göre hangi tür sözcükler verilen kutularda en fazladır?

- A) Basit sözcük      B) Türemiş sözcük  
 C) Birleşik Sözcük

Matematik : 10 sorudan oluşmaktadır.

$$\begin{array}{r} 11. \quad \begin{array}{r} aaa \quad bbb \\ + aaa \quad + bbb \\ \hline bbb \quad ccc \end{array} \end{array}$$

Yukarıdaki işlem sırasına göre  $a + b + c$  en az kaç olabilir?

- A) 7      B) 8      C) 9

$$12. \quad 21 - 24 - 25 - 32$$

Dört arkadaşın Elif, Ceylan, Nuri ve Ali'nin fındık sayıları yukarıda karışık olarak verilmiştir. Ali'nin fındık sayısı Ceylan'dan 4 fazladır. Nuri'nin fındık sayısı 30'a yuvarlanan bir sayı olduğuna göre Elif'in fındık sayısı kaçtır?

- A) 21      B) 24      C) 32

13. Bir haftadaki gün sayısı ile bir yıldaki ay sayısını çarpıp elde ettiğimiz sonucun birler ve onlar basamağındaki rakamların toplamı kaçtır?


- A) 84      B) 12      C) 6

14. 68 kalem 5 kişiye paylaşılacak isteniyor. Yapılacak işlemde bölünen, bölen, bölüm ve kalanın toplamı kaçtır?



- A) 89      B) 86      C) 21

15. 3/A sınıfında 40 öğrenci vardır. Bu öğrencilerin 10'u kız, geri kalanı erkektir. Sınıfta sadece erkeklerin  $\frac{1}{2}$ 'si gözlüklüdür. Bu sınıfta gözlük kullanmayan kaç öğrenci vardır?

- A) 15      B) 20      C) 25



Yukarıdaki kutuların içindeki noktalar belirli bir kurala göre dizilmiştir. Buna göre sıradaki noktalı kutu hangi seçenekte verilmiştir?



Matematik : 10 sorudan oluşmaktadır.



A



B

İki araç A şehrinden ve B şehrinden aynı anda karşılıklı yola çıkmışlardır. A'dan hareket eden araç 295 km, B'den hareket eden araç 105 km yol gidince karşılaşıyorlar.

Buna göre A şehrinden hareket eden bir araç, B şehrine gidip tekrar A şehrine döndüğünde kaç km yol gitmiş olur?

A) 800 km

B) 400 km

C) 600 km

18. Uzun kenarı 6m, kısa kenarı 3m olan halının kenarının ortasından kısa kenarı 20cm, uzun kenarı 30cm olan bir parça kesilince halının çevresinde nasıl bir değişim olur?

A) Artar.

B) Azalır.

C) Değişim olmaz.

19.  $A > 328 + 226$

Yukarıdaki karşılaştırmaya göre "A" yerine yazılabilecek rakamları farklı en küçük doğal sayı kaçtır?

A) 567

B) 555

C) 576

20. 

Yukarıdaki cetvele göre kalemin boyu ile silginin boyu toplam kaç cm'dir?




A) 8cm

B) 9cm

C) 7cm

Fen Bilimleri : 10 sorudan oluşmaktadır.

21.

Dünya'mızın en sıcak katmanıdır. Yapısında erimiş kayaların oluşturduğu magma bulunur. Dünya'nın yüzeyini oluşturan katmandır. 

Yukarıda bilgileri verilen katmanlar hangi seçenekte verilmiştir?

- A)  İç çekirdek      B)  Manto  
 Manto                       İç çekirdek  
 Yer kabuğu                       Yer kabuğu
- C)  İç çekirdek  
 Manto  
 Dış çekirdek

22.

bulma	izleme	unutma
hatırlama	anlama	korkma




Yukarıdaki eylemlerden bazılarında duyu organları etkin kullanılmaktadır. Bu eylemleri boyadığımızda hangi seçenek doğru olur?

- A) 











      B) 

- C) 

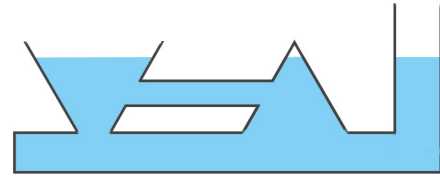

23.

Bize doğru gelen topa vurduğumuzda  hareketi yapar.Yaya geçidi levhasını gören araçlar  hareketi yapar."Hacıyatmaz" adı verilen oyuncaklar  hareketi yapar.

Yukarıdaki cümlelerde sembollere karşılık gelen hareket özellikleri hangileridir?

- A)  → sallanma      B)  → yön değiştirme  
 → yavaşlama                       → yavaşlama  
 → dönme                                       → sallanma
- C)  → dönme  
 → hızlanma  
 → sallanma

24.



Yukarıdaki birbirine bağlı kaplar su ile dolduruluyor. Buna göre kaptaki su ile ilgili aşağıdaki ifadelerden hangisine ulaşamaz?

- A) Su akışkandır.  
B) Su buharlaşarak gaz haline geçer.  
C) Su bulunduğu kabın şeklini alır.

## Fen Bilimleri : 10 sorudan oluşmaktadır.

Doğal Işık Kaynakları	Yapay Işık Kaynakları
1. Yıldız	a. Gaz lambası
2. Ateş böceği	b. Mürekkep balığı
3. Araç farı	c. Meşale

Yukarıdaki tabloda, doğal ve yapay ışık kaynakları gruplandırılırken hata yapılmıştır. Buna göre hangi iki kavramın yeri değiştirilirse hata düzelir?

- A) 3 - b      B) 3 - c      C) 2 - b

26. Sesin şiddeti artıyorsa .....

Yukarıdaki cümleyi hangisi ile tamamlayamayız?

- A) ses daha kolay duyulur.  
B) sesin kaynağına yaklaşıyoruzdur.  
C) sesi duymakta zorlanıyoruz.

27.  Cansız varlıklar dışarıdan bir etki olmadan da hareket edebilirler.  
 Canlı varlıkların yaşayabilmeleri için hava, su ve besine ihtiyaçları vardır.  
 Her canlı bir varlıktır ama her varlık bir canlı değildir.

Yukarıdaki ifadelerden doğru olanlara "D", yanlış olanlara "Y" yazdığımızda hangi seçenek doğru olur?

- A)  Y      B)  Y      C)  D  
 D       D       D  
 Y       D       Y

28.  Basketbol sahası  
 Nehir  
 Meyve bahçesi

Yukarıdaki varlıklardan kaç tanesi doğal çevrede yer alır?

- A) 1      B) 2      C) 3

29.  Isınma       El feneri  
 Aydınlanma       Kombi  
 Soğutma       Buzdolabı





Yukarıda verilen araçlar, kullanım amaçlarına göre sınıflandırıldığında hangi seçenek doğru olur?

- A)  Isınma →  El feneri  
 Aydınlanma →  Kombi  
 Soğutma →  Buzdolabı
- B)  Isınma →  El feneri  
 Aydınlanma →  Kombi  
 Soğutma →  Buzdolabı
- C)  Isınma →  Buzdolabı  
 Aydınlanma →  El feneri  
 Soğutma →  Kombi

30. Aşağıdaki ifadelerden hangisi yanlıştır?

- A) Bütün elektrikli araçların kaynağı ayındır.  
B) Batarya, birçok pilin bir araya getirilmesiyle oluşturulur.  
C) Elektrik sınırlı ve maliyeti yüksek olan bir kaynaktır.

Hayat Bilgisi : 10 sorudan oluşmaktadır.

31.  Kaynaşırız.  
 Sorumluluklarımızı daha kolay yaparız.  
 Öz güvenimiz artar.  
 Toplumsal olaylara karşı duyarlılığımız artar.

Yukarıdakilerden hangileri okulun ve kulüp çalışmalarının bireylere sağladığı faydalardan biridir?

- A)    B)   C) Hepsi

32. 1. Küçülen okul üniforması yerine yeni üniforma  
 2. Evde olduğu halde yeni boya kalemi  
 3. Ekmek  
 4. Çikolata  
 5. Süt

Yukarıda verilen bir ailenin alışveriş listesini, ihtiyaç ve istekler olarak gruplayacak olsak hangi seçenek doğru olur?

- A) İhtiyaçlar İstekler B) İhtiyaçlar İstekler  
 1 2 3 1  
 3 4 5 2  
 5 4
- C) İhtiyaçlar İstekler  
 3 1  
 2  
 4  
 5

33. ① Yiyecekleri satın alırken kokusuna, rengine ve şekline dikkat eder.  
 ② Ambalajlı olarak satın alınan ürünlerdeki son kullanma tarihlerine dikkat eder.  
 ③ Satın alınan ürün bozuk çıkarsa çöpe atar.

Yukarıdakilerden hangileri bilinçli tüketicinin özelliklerinden biridir?

- A) 1 ve 2 B) 1 ve 3 C) Hepsi

34. Bulaşıcı hastalık yapan mikroplar ① A) BUNSA  
 Aşırı beslenmeden dolayı ortaya çıkan bir hastalık ② B) ÜSVİR  
 Kirli ellerin temizliğinde kullanılır ③ C) TEZİEBO

Yukarıda harfleri karışık verilen sözcüklerle açıklamalarını eşleştirdiğimizde doğru seçenek hangisi olur?

- A) 1 - A B) 1 - B C) 1 - C  
 2 - C 2 - C 2 - B  
 3 - B 3 - A 3 - A




35. Aşağıdaki trafik işaret levhalarından hangisi sürücülerini ve yayaları tehlikeli durumlara karşı uyarır?

- A)  B)  C) 

## Hayat Bilgisi : 10 sorudan oluşmaktadır.

36. Deprem çantası hazırlanmalıdır.	Hayat üçgeni oluşturulmalıdır.
Bina terk edilip güvenli bir yere gidilmelidir.	Asansör ve merdiven kullanılmamalıdır.

Yukarıdaki tabloda, deprem sırasında alınması gereken önlemleri boyadığımızda hangi seçenek oluşur?



37. ★ Kurtuluş Savaşı

■ 15 Temmuz Demokrasi ve Milli Birlik Günü

● 23 Nisan Ulusal Egemenlik ve Çocuk Bayramı

Yukarıdaki ifadelerden hangileri milli birlik ve beraberliğimizi simgeleyen olaylardır?

A) ★ ■

B) ★ ●

C) ★ ■ ●

38. ✓ 29 Ekim 1923'te ilan edildi.

✓ Yönetim biçimi değişti.

✓ Atatürk ilk cumhurbaşkanı seçildi.


Yukarıdaki bilgiler Atatürk zamanında getirilen hangi yeniliğe aittir?

A) Cumhuriyetin ilanı

B) Yeni Türk harflerinin kabulü

C) TBMM'nin açılması

39.



Güneşin battığı yöne sırtımızı verdiğimizde sağa açılmış kolumuz hangi yönü gösterir?

A) Doğu

B) Güney

C) Kuzey

40.

Seçeneklerde verilen, insanların doğal unsurlar üzerinde yaptıkları olumsuz değişimleri "hava, toprak veya su kirliliği" olarak grupladığımızda hangisi tek kalır?

A) Tarım ilaçları ve gübreleri

B) Ev ve fabrika bacalarından çıkan duman

C) Isınmak için kömür kullanmak