

- 1) Atatürk'ün sözünü okuyunuz. Sözle ilişkili olan atasözünü içeren şıkkı işaretleyiniz.



Çalışmadan, öğrenmeden,

yorulmadan rahat yaşamanın

yollarını alışkanlık haline getirmiş

milletler; ewela haysiyetlerini, sonra

hürriyetlerini ve daha sonra da istikballerini



kaybetmeye mahkumdurlar.

- A) Bedava sirke baldan tatlıdır.
B) İşleyen demir pas tutmaz.
C) Dost kara günde belli olur.

- 2) ☆ bahçe 😊 bahçıvan
☑ bahar ❤️ bahane

Her biri bir şekil ile eşleştirilen kelimelerin sözlük sırasına göre doğru dizilişi aşağıdakilerden hangisidir?

- A) 1- 😊 2- ☑ 3- ❤️ 4- ☆
B) 1- ☆ 2- 😊 3- ☑ 4- ❤️
C) 1- ❤️ 2- ☑ 3- ☆ 4- 😊
- 3) Aşağıda resimler içeren şıklardan hangisi eş sesli (sesteş) kelimelere örnektir?



- 4) Aşağıdaki cümlelerden hangisi farklı bir ifade bildirmektedir?

- A) Kötü haberi duyunca çok üzüldüm.
B) Babamın tayini Ankara'ya çıkmış.
C) Dayım bana bilgisayar alacaktı.

- 5) Emre () Ayşe ve Aslı yemeklerini yediler mi ()

Yukarıdaki cümlede hangi noktalama işaretini kullanamayız?

- A) Soru İşareti B) Virgül C) Nokta

- 6) Aşağıdaki cümleleri olayların oluş sırasına göre sıralarsak hangisi 2. (ikinci) sırada yer alır?

- A) 23 Nisan 1920'de TBMM açıldı.
B) Atatürk 19 Mayıs 1919'da Samsun'a çıktı.
C) 29 Ekim 1923'te cumhuriyet ilan edildi.

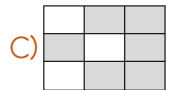
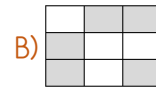
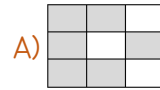
- 7) Aşağıdaki cümlelerin hangisinde varlığın özelliğini bildiren sözcük kullanılmamıştır?

- A) Komşumuzun bahçesinde sarı güller var.
B) Bu evin nasıl yapıldığına şahidim.
C) Annemin yaptığı pastayı çok beğendi.

- 8)

fermuvar	eşek	çiftçi
astronot	ahçı	maydonoz
elektrik	şöför	yalnız

Yukarıdaki kelimelerden doğru yazılanları boyarsak ortaya nasıl bir şekil çıkar?



- 9) Aşağıdaki cümlelerin hangisinde nesnel bir yargı vardır?

- A) Nüfusça en kalabalık ilimiz İstanbul'dur.
B) Dünyanın en güzel yemeklerini annem yapar.
C) Mutlu olmanın tek koşulu zengin olmaktır.



















- 10) Çok çalışmıyordu karnesi kötü gelmedi.

Yukarıdaki cümlede hangi boş bırakılan yere aşağıdakilerden hangisi gelmelidir?

- A) çünkü B) fakat C) bundan dolayı


- 11) 509 →  956 → 
 175 →  428 → 
 530 →  914 → 

Yukarıda her sayı bir meyve ile eşleştirilmiştir. Buna göre bu sayıların küçükten büyüğe doğru sıralanışı aşağıdakilerden hangisidir?

- A)  -  -  -  -  - 
 B)  -  -  -  -  - 
 C)  -  -  -  -  - 

- 12) 3, 0, 5, 8 rakamlarını birer kez kullanarak yazılabilecek üç basamaklı en büyük sayı ile en küçük sayının farkı kaçtır?

- A) 548 B) 818 C) 503



Yukarıdaki iki ayrı örüntünün kuralına göre S ve Y yerine sırayla hangi sayılar yazılmalıdır?

- A) 35-60 B) 40-60 C) 36-58

- 14) Bir bakkal içinde 15 yumurta bulunan kolilerden 14 tane alıyor. Yumurtaların 153 tanesini sattığına göre bakkalda kaç yumurta kalmıştır?

- A) 47 B) 57 C) 67

- 15)  342 → 400 543 → 600
 165 → 200 870 → 800

Serhat dört adet sayıyı en yakın yüzlüklerine yuvarlarken kaç tane hata yapmıştır?

- A) 1 B) 2 C) 3

- 16) Saat 09.20'de Balıkesir'den hareket eden bir otobüs 2 saat 35 dakika sonra Çanakkale'ye varmıştır.

Buna göre otobüs Çanakkale'ye vardığında saat kaç gösterir?

- A) 10.55 B) 11.45 C) 11.55

- 17) Eda, Ali ve Sena kumbaralarındaki paralarıyla alakalı şu ipuçlarını veriyorlar:

Eda : Benim param en büyük kâğıt paradan 45 lira azdır.

Ali : Benim param en küçük kâğıt paranın 23 katıdır.

Sena: Benim paramın 28 lira eksiği 107 liradır.

Buna göre Eda, Ali ve Sena'nın para miktarları hangi seçenekte doğru verilmiştir?

	Eda	Ali	Sena
A)	135 ₺	125 ₺	115 ₺
B)	155 ₺	115 ₺	135 ₺
C)	155 ₺	125 ₺	135 ₺

- 18) Kilogramı 46 liradan 4 kilo fındık ve kilogramı 130 liradan yarım kilo pastırma alan Yasemin kasiyere 300 lira verdiğiğine göre para üstü kaç lira alacaktır?

- A) 41 ₺ B) 51 ₺ C) 61 ₺

- 19) Bir terzi 9 m kumaşın 264 santimetresi ile etek, kalan kumaşın çeyreği ile de gömlek diyor.

Buna göre geriye kalan kumaş kaç santimetredir?

- A) 477 cm B) 467 cm C) 457 cm

- 20) Dikdörtgen şeklindeki tarlanın kısa kenarı 46 m, uzun kenarı ise kısa kenarının 3 katından 7 m eksiktir.

Buna göre bu tarlanın çevresi kaç metredir?

- A) 262 m B) 314 m C) 354 m

21) Aşağıdaki davranışlardan hangisi nezaket kurallarına zıt bir davranıştır?

- A) Bize yardım eden kişiye teşekkür etmemek.
- B) Hasta olan kişinin yanında uzun süre durmamak.
- C) Yemekte başkasının önünden yemek yememek.

22)



Ümit saklambaç oynarken hiç ebe olmak istemiyor, kendisi veya başkası ebe olduğu zaman da oyunun kurallarına uymuyordu.

Buna göre arkadaşlarının Ümit'e nasıl davranması gerekir?

- A) Ümit'i bir daha hiçbir oyuna almamalıdır.
- B) Ümit'e kuralları hatırlatıp nazikçe uymalıdır.
- C) Ümit'e küsüp bir daha onunla konuşmamalıdır.

23) Aşağıdakilerden hangisi kaynakların bilinçli kullanımına örnek verilemez?

- A) Gereksiz ise ışıkları kapatmak.
- B) Diş fırçalarken suyu az açık bırakmak.
- C) Annemizin yiyebileceğimiz kadar yemek yapması.

24)



Yukarıda resimleri verilen teknolojik ürünlerden hangileri iletişim alanında kullanılmaktadır?

- A) II, III, VI
- B) I, III, IV
- C) I, III, V

25) Gıda maddesi satın alacak bilinçli bir tüketici aşağıdakilerden hangisini yapar?

- A) Ürünlerin taze olmasına dikkat eder.
- B) Ürünün son kullanma tarihine dikkat etmez.
- C) Aynı poşete hem gıda hem temizlik ürünü koyar.

26)



Yukarıdaki gıda ürünlerinden kaç tanesi sağlıksızdır?

- A) 3
- B) 4
- C) 5

27)

- ✚ Ormanları korumak ve çoğaltmak.
- ✚ Dere yataklarına yerleşime izin vermemek
- ✚ Kanalizasyon sistemlerini etkin hale getirmek.
- ✚ Erken uyarı sistemi kurmaktır.

Yukarıda madde halinde verilen önlemler hangi doğal afetin zararlarını önlemeye yöneliktir?

- A) Deprem
- B) Çığ
- C) Sel

28)

1	Kaymakam
2	Belediye Başkanı
3	Muhtar

Yukarıdaki yöneticilerden hangisi ilçe yönetiminde en yetkili kişidir?

- A) 1
- B) 2
- C) 3

29) Yaz tatilinde Edirne'ye gitmeyi düşünen Serap, Edirne'de bulunan tarihi ve turistik yerleri gezecektir.

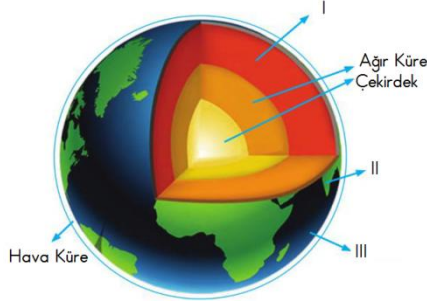
Buna göre aşağıdaki yerlerden hangisi Serap'ın Edirne'de gezebileceği bir yerdir?

- A) Peri Bacaları
- B) Sümela Manastırı
- C) Selimiye Camii

30) Gündüz vakti kaybolmuş biri yön bulmak için aşağıdaki yöntemlerden hangisini kullanamaz?

- A) Müslümanların mezar taşları
- B) Kutup Yıldızı
- C) Karınca yuvalarının ağız

31)



Dünyanın katmanlarından verilmeyenlerin isimleri hangi şıkta doğru olarak verilmiştir?

	I	II	III
A)	Taş Küre	Su Küre	Magma
B)	Su Küre	Magma	Taş Küre
C)	Magma	Taş Küre	Su Küre

32)




Ömründe ilk kez Lilyum çiçeği gören Mert, çiçeğin kokusunun da daha önceden okuduğu gibi çok güzel olduğunu tecrübe etmiş oldu.

Buna göre Mert hangi duyu organlarını kullanmış oldu?

A) dil - kulak B) göz - burun C) burun -dil

33)



Yukarıdaki varlıklardan hangileri dışarıdan bir etki olmadan hareket edebilirler?

A) II, III, V B) I, III, IV C) II, IV, VI

34) Aşağıdaki cümlelerden hangisi diğerlerinden farklı bir hareket türüne örnektir?

A) Kırmızı ışığa yaklaşan arabanın hareketi.
B) Köpeğin kovaladığı kedinin hareketi.
C) Kalkışa başlayan uçağın hareketi.

35) Aşağıdaki örneklerden hangisi maddenin hal değişimine örnek olarak verilemez?

A) Yoldaki su birikintisinin sıcakta, zamanla yok olması.
B) Islak zemine konulan peçetenin suyu emmesi.
C) Islak olan çamaşırın güneşte kuruması.

36)

Yapay Işık Kaynakları		
Ampul	Meşale	Şimşek
1	2	3
Fener	Güneş	Mum
4	5	6

Tabloda yapılan iki hata aşağıdakilerden hangisidir?

A) 3, 5 B) 2, 6 C) 2, 3

37) Sesle ilgili aşağıdaki bilgilerden hangisi yanlıştır?

A) Sesin şiddeti kaynaktan uzaklaştıkça azalır.
B) İnsanlar doğadaki tüm sesleri işitebilirler.
C) Her sesin mutlaka bir kaynağı vardır.

38) → Yer değiştirebilirler.
→ Boşaltım yapabilirler.
→ Canlı varlıklardır.

Aşağıdaki varlıkların hangisi yukarıdaki özelliklerin tümüne sahip değildir?



39) Aşağıdaki şıklardan hangisinde temizlik alanında kullanılan teknolojik araçlar doğru verilmiştir.

A) Elektrikli Süpürge – Çamaşır Makinesi
B) Bulaşık Makinesi – Buzdolabı
C) Televizyon – Bulaşık Makinesi

40) Biten pilleri bir kutuda biriktiren bir kişi bu pilleri ne yapmalıdır?

A) Kutuyla beraber çöpe atmalıdır.
B) Pilleri toprağa gömmelidir.
C) Geri dönüşüm kutularına atmalıdır.

CEVAP ANAHTARI

Türkçe

1. B
2. C
3. B
4. A
5. C
6. A
7. C
8. B
9. A
10. B

Matematik

11. B
12. A
13. C
14. B
15. C
16. C
17. B
18. B
19. A
20. C

Hayat Bilgisi

21. A
22. B
23. B
24. C
25. A
26. B
27. C
28. A
29. C
30. B

Fen Bilimleri

31. C
32. B
33. C
34. A
35. B
36. A
37. B
38. C
39. A
40. C