

Nasrettin Hoca bir gün evine dönerken taşa takılmış ve su birikintisine düşmüş. Hoca'yı bu halde gören bir adam:

-Oldu mu Hoca, bir karış suda yüzülür mü? Madem yüzecektin, derede yüzseydin, demiş.

Bunun üzerine Hoca:

-Derede herkes yüzer, önemli olan böyle sığ suda yüzmek, demiş.

1. ve 2. Soruları metne göre cevaplayınız.


1) Metne göre aşağıdakilerden hangisi Nasrettin Hoca'nın özelliği değildir?

A) Hazırcevap B) Komik C) Sınırlı

2) Metinde geçen " sığ " kelimesinin zıt anlamlısı aşağıdakilerden hangisidir?

A) derin B) yüzey C) üst

3)



Elif yukarıdaki meyvelerden 2 heceli olanları alacaktır.

Buna göre Elif hangi numaralı meyveleri almalıdır?

A) 2, 3, 4 B) 1, 5, 6 C) 3, 4, 5

4)



o-to-mob-il

kam-yo-net

bis-ik-let

Yukarıdaki araç anahtarı sadece ismi doğru hecelenmiş aracı açabiliyor. Buna göre anahtar hangi araca aittir?

A)



B)



C)



5) Aşağıdaki kelimelerden hangileri eş anlamlı değildir?

A) doktor - hekim

B) yakın - uzak

C) temiz - pak

6)



1



2



3

Yukarıdaki hayvanların adlarını sözlük sırasına göre sıralarsak hangisi sonda yer alır?

A) 2

B) 3

C) 1

7) "Yüz" kelimesi aşağıdaki cümlelerin hangisinde farklı bir anlamda kullanılmıştır?

A) Mutlu olduğu yüzünden okunuyordu.

B) Kumbaramda yüz lira para birikmiş.

C) Annem yüzüme güneş kremi sürdü.

- 8) Manavdan armut aldın mı ()
Yaşasın () denize gidiyoruz ()

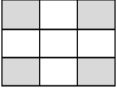
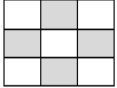
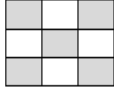
Ahmet, yukarıdaki cümlelerde verilmeyen noktalama işaretlerini yazarken, hangi işareti kullanmayacaktır?

- A) Nokta B) Virgül C) Ünlem

9)





eczane	ahtobot	dinozor
beyenmek	yalnız	eşşek
şoför	gaste	prences

Yukarıdaki kelimelerden, yazılışları doğru olanları boyarsak ortaya nasıl bir şekil çıkar?



- A)  B)  C) 

- 10) Aşağıdaki cümlelerin hangisinde karşılaştırma yapılmamıştır?













- A) Yeni okulum eskisinden daha uzak.
B) Karşıdan karşıya geçerken dikkat et.
C) Babam benim kadar hızlı koşamaz.

- 11) 45 →  90 → 
76 →  38 → 

Yukarıda her sayı bir varlık ile eşleştirilmiştir. Buna göre bu sayıların küçükten büyüğe dizilişi aşağıdakilerden hangisidir?

- A)  -  -  - 
B)  -  -  - 
C)  -  -  - 

12)


					
					

Yukarıdaki iki ayrı örüntünün kurallarına göre E ve A'nın toplamı kaçtır?

- A) 97 B) 107 C) 117


- 13) 4 birlik ve 8 onluktan oluşan sayının onlar basamağını 2 azaltıp birler basamağını 3 artırırsak oluşan yeni sayı ile eski sayının farkı kaç olur?

- A) 17 B) 13 C) 23

- 14)  23 → 30 79 → 80
55 → 60 84 → 90

Sayıları en yakın onluklarına yuvarlayan Neşe, kaç tane hata yapmıştır?

- A) 1 B) 2 C) 3

- 15) 
23 ₺ 47 ₺ 54 ₺ 38 ₺




Yukarıdaki tabloya göre, 100 ₺ parası olan bir kişi hangi iki ürünü beraber alamaz?

- A) Kitap + Kazak
B) Çanta + Şort
C) Kazak + Çanta

- 16) Yeliz 24 yaşındadır. Annesinin yaşı ise Yeliz'in yaşının 3 katından 12 eksiktir. Buna göre Yeliz ile annesinin yaşlarının toplamının yarısı kaçtır?

- A) 42 B) 43 C) 44

- 17) Dikdörtgen prizmaya benzer eşya bulması gereken Şeyma, aşağıdakilerden hangisini kullanabilir?

- A)  B)  C) 


SPOR	KİŞİ SAYISI				
Futbol					
Basketbol					
Voleybol					
Not: Her bir top 2 kişiyi göstermektedir.					

Yukarıdaki grafik, bir sınıftaki öğrencilerin en çok hangi spor dalını sevdiğini göstermektedir. Buna göre aşağıdaki bilgilerden hangisi doğrudur?

- A) Bu sınıfta 16 öğrenci vardır.
B) Futbolu seven 8 öğrenci vardır.
C) Basketbol en sevilen spordur.

- 19) Kilogramı 7 lira olan muzdan 4 kg, kilogramı 9 lira olan armuttan 5 kg ve kilogramı 12 lira olan üzümünden 6kg alan Pinar kasiyere 200 ₺ uzattığına göre para üstü kaç ₺ alacaktır?

- A) 45 ₺ B) 50 ₺ C) 55 ₺

- 20)  
Dışarı Çıkış Eve Geliş

Yukarıda Tuğba'nın evden çıkış ve eve geliş saatleri gösterilmektedir. Buna göre Tuğba dışarıda ne kadar zaman geçirdi?

- A) 4 saat 30 dakika
B) 3 saat 30 dakika
C) 5 saat

21) Aşağıdakilerden hangisi fiziksel özellikle alakalı bir cümle değildir?

- A) Levent saygılı bir çocuktur.
- B) Esra'nın saçları kıvrıktır.
- C) Ferdi'nin mavi gözleri vardır.

22)



Yukarıdaki engelli birey için aşağıdaki cümlelerden hangisi yanlıştır?

- A) Engelli bireylere yardımcı olmalıyız.
- B) Onlarla dalga geçmemeliyiz.
- C) Onları görmezden gelmeliyiz.

23) Aşağıdaki eşyalardan hangisi kisisel bakım eşyasıdır?



24) Okulda arkadaşlarımızla oynarken kaçınmalıyız.

Yukarıdaki cümlede boş bırakılan yere aşağıdakilerden hangisi gelmelidir?

- A) Doğru davranış sergilemekten
- B) Zarar verici hareketlerden
- C) Öfkemizi kontrol etmekten

25) Aşağıdaki sebzelerden hangisi yaz mevsimi sebzesidir?

- A) Patlıcan
- B) Havuç
- C) Turp

26) Aşağıdakilerden hangisi sofrada uymamız gereken nezaket kurallarından değildir?

- A) Ağzımızı şapırdatmamalıyız.
- B) Yemeğimizi çabuk çabuk yemeliyiz.
- C) Yemekleri kendi önümüzden yemeliyiz.

27) Aşağıdakilerden hangisi "tutumlu olmak" ile alakalı doğru bilgidir.

- A) Gereksiz harcamadan uzak durmaktır.
- B) Tutumlu olan hiç para harcamaz.
- C) İstekler ihtiyaçlardan daha önemlidir.

28) Aşağıdaki gıdalardan hangisi sağlığımıza zarar verir?



29)

Feribot	Zeplin	Şilep
Tramvay	Vapur	Yelkenli

Yukarıdaki araçlardan kaç tanesi deniz yolu taşıdır?

- A) 3
- B) 4
- C) 5

30) Aşağıdakilerden hangisi milli bayram günlerimizden biri değildir?

- A) 23 Nisan
- B) 19 Mayıs
- C) 10 Kasım

CEVAP ANAHTARI

TÜRKÇE

1. C
2. A
3. B
4. A
5. B
6. C
7. B
8. A
9. C
10. B

MATEMATİK

11. B
12. C
13. A
14. B
15. C
16. A
17. B
18. B
19. C
20. A

HAYAT BİLGİSİ

21. A
22. C
23. C
24. B
25. A
26. B
27. A
28. A
29. B
30. C