

Bir gün Temel bir ayakkabıcıya gider ve istediği ayakkabıyı alır. Parasını verir, tam dışarı çıkacakken ayakkabıcı seslenir:

- Ayakkabı yeni olduğu için ilk hafta ayağını sıkabilir, der.

Bunun üzerine Temel:

- Ben de bir hafta giymem, der.

1. ve 2. Soruları metne göre cevaplayınız.

1) Metne göre aşağıdaki sorulardan hangisinin cevabı yoktur?

- A) Temel nereye gitmiştir?
B) Aldığı ayakkabı ne renktir?
C) Ayakkabı neden ayağını sıkabilir?

2) Metinde geçen kelimelerden hangisinin zıt anlamı yoktur?







- A) para B) yeni C) ilk

		
1 eşeg	4 dakika	7 çikolata
2 eşsek	5 dakika	8 çukulata
3 eşek	6 dakiga	9 çukulata

Resimleri verilen varlıkların adlarının doğru yazıldığı rakamlar aşağıdakilerden hangisidir?

- A) 2, 4, 8 B) 3, 5, 7 C) 1, 6, 9










4) Aşağıdaki eşleştirmelerden hangisinde meyvelerin harf sayıları eşit değildir?

- A)  → 
- B)  → 
- C)  → 

5)  ödevini  yapar

 Gizem

Yukarıda karışık olarak verilmiş kelimelerden kurallı bir cümle kurmak istersek şekilleri nasıl dizmeliyiz?

- A)  -  - 
- B)  -  - 
- C)  -  - 

6) Aşağıdaki kelime gruplarından hangisi cümle değildir?

- A) Manavdan aldığım domates
B) Pazar günü düğüne gittik
C) Annem pasta yapmış

7) orhan dün doktora gitmiş?

Yukarıdaki cümlede kaç tane hata vardır?

- A) 1 B) 2 C) 3

8)



Yukarıdaki arı sadece eş anlamı olan kelimeyi içeren çiçeğe konmaktadır. Buna göre arı, hangi kelimenin olduğu çiçeğe konmayacaktır?

- A) kedi B) rüya C) sene

9) Dün Elazığ'da deprem oldu.

Yukarıdaki cümlede aşağıdaki sorulardan hangisinin cevabı yoktur?


- A) Nerede?
B) Nasıl?
C) Ne zaman?

10) Babam gitti mi bilmiyorum ()

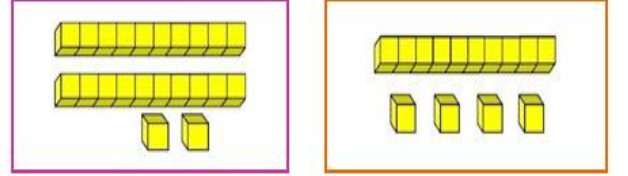
Yukarıdaki cümlenin sonuna hangi noktalama işareti konulmalıdır?

- A) Soru İşareti B) Ünlem C) Nokta

11) Aşağıdaki nesnelere hangisinin sayısı en azdır?



12)



Yukarıda onluk ve birlik blokları verilen sayıların toplamı aşağıdakilerden hangisidir?

- A) 63 B) 36 C) 66

13) Benim 18 tane şekerim, kardeşimin ise 9 tane şekeri var. Şekerlerimizi birleştirip 7 tanesini yedik. Geriye kaç şekerimiz kaldı?

- A) 11 B) 20 C) 34


14) $\triangle + 6 = 15$
 $4 + \bullet = 11$
 $\blacksquare + 8 = 13$

Yukarıdaki topla işlemlerine göre

$\triangle + \bullet + \blacksquare$ kaçtır?

- A) 15 B) 17 C) 21


15)



Aşağıdaki saat okunuşlarından hangisi yukarıdaki saatlere ait değildir?

- A) Saat on iki
- B) Saat dört
- C) Saat sekiz buçuk

16)




Yukarıdaki resimle alakalı aşağıdaki bilgilerden hangisi doğrudur?

- A) Resimde 2 tane üçgen vardır.
- B) En fazla daire şekli vardır.
- C) Dört tane dikdörtgen vardır.

17) Aşağıdaki dizilimlerden hangisi kurallı bir örüntü değildir.

- A) A B C D A B C D
- B) ★ ☆ ☆ ★ ☆ ☆ ★ ☆
- C) - - + + - - + +

18)




Yukarıda ürünler ve fiyatları verilmiştir. Buna göre bir kalem ve bir oyuncak bebek alan kişi toplam kaç lira ödeyecektir?

- A) 30 lira
- B) 35 lira
- C) 40 lira

19) Bugün günlerden Perşembe ise 9 gün sonra günlerden ne olur?

- A) Cumartesi
- B) Cuma
- C) Perşembe

20)

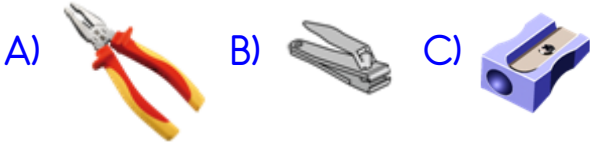



Yukarıdaki ürünlerden kaç tanesinin ölçüm birimi kilogram veya gramdır?

- A) 3
- B) 4
- C) 5

- 21) Nezaket ifadeleriyle alakalı aşağıdakilerden hangisi yanlıştır?
- A) Hastalara "kolay gelsin" deriz.
B) Başarılı olana "tebrikler" deriz.
C) Sabah insanlara "günaydın" deriz.

- 22) Aşağıdakilerden hangisi sınıfta kullandığımız eşyalardandır?



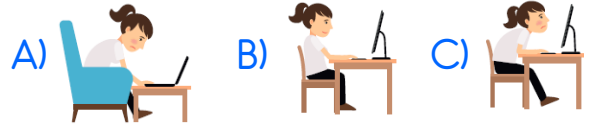
- 23)  Samet çok üzülmemektedir. Çünkü arkadaşları onu hiçbir oyuna almamaktadırlar.

Aşağıdaki sebeplerden hangisi arkadaşlarının Samet'i oyuna almama sebebi olabilir?

- A) Arkadaşları onu kıskanmaktadır.
B) Samet ödevlerini yapmıyordu.
C) Samet oyun kurallarına uymuyordu.
- 24) Aile üyeleriyle alakalı verilen bilgilerden hangisi yanlıştır?
- A) Annemizin kız kardeşi halamızdır.
B) Babamızın erkek kardeşi amcamızdır.
C) Kardeşimizin çocuğu yeğenimizdir.

- 25) Aşağıdaki bilgilerden hangisi yemekteki görgü kurallarındandır?
- A) Yemeği oturarak yememeliyiz.
B) Yemek yerken peçete kullanmalıyız.
C) Ağzımızı şapırdatmalıyız.

- 26) Aşağıdakilerden hangisi kitle iletişim araçlarının doğru kullanımındır?



- 27) Aşağıdaki levhalardan hangisi "yaya geçidi" levhasıdır?



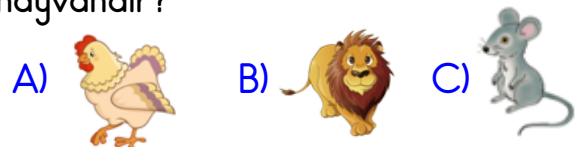
- 28) Aşağıdakilerden hangisi milli bayramlarımızdan biridir?

- A) Cumhuriyet Bayramı
B) Kurban Bayramı
C) Şeker Bayramı

- 29) Atatürk ile ilgili aşağıdaki bilgilerden hangisi yanlıştır?

- A) Kız kardeşi, Makbule Hanım'dır.
B) Atatürk İstanbul'da doğmuştur.
C) Anıtkabir Ankara'dadır.

- 30) Aşağıdakilerden hangisi evcil bir hayvandır?



CEVAP ANAHTARI

TÜRKÇE

1. B
2. A
3. B
4. C
5. C
6. A
7. B
8. A
9. B
10. C

MATEMATİK

11. C
12. B
13. B
14. C
15. A
16. A
17. B
18. C
19. A
20. B

HAYAT BİLGİSİ

21. A
22. C
23. C
24. A
25. B
26. B
27. C
28. A
29. B
30. A