


TARTMA



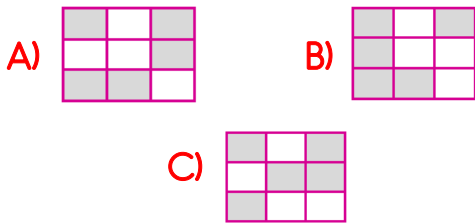
Tahterevallinin yukarıdaki durumuna göre, aşağıdaki bilgilerden hangisi doğrudur?

- A) Eda ile Ali'nin kiloları eşittir.
 B) Eda'nın kilosu Ali'den fazladır.
 C) Ali'nin kilosu Eda'dan fazladır.


2)

şeker	kola	armut
un	kolonya	parfüm
kavun	fındık	süt

Yukarıdaki varlıklardan kilogram veya gram ile ölçülenleri boyarsak ortaya nasıl bir şekil çıkar?



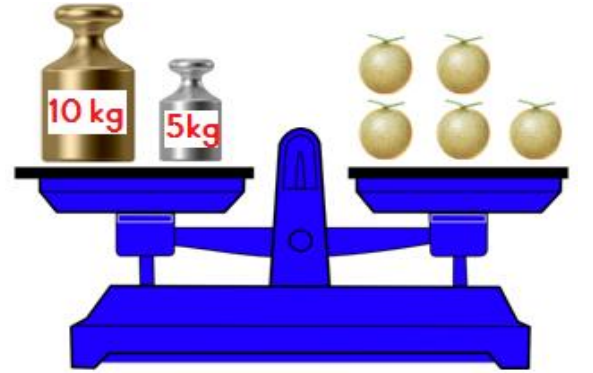
- 3) Aşağıdakilerden hangisinin kütlesi 10 kilogram olabilir?



- 4) Her gün çeyrek kilogram elma tüketen bir aile bir haftada kaç gram elma tüketir?

- A) 1500gr B) 1750gr C) 1800gr

5)



Her biri eşit ağırlıktaki kavunlar tartılmıştır. Buna göre 2 kavun kaç kilogramdır?

- A) 3 kg B) 5 kg C) 6 kg

- 6) Bir kilogram mısırı 5 liraya alan tüccar, aldığı mısırı 3 lira kar ile fabrikaya satıyor. Fabrikaya 57 kilogram mısır satan tüccar ne kadar para alacaktır?

- A) 285 lira alacaktır.
 B) 456 lira alacaktır.
 C) 171 lira alacaktır.

TARTMA

7) Serhat 100 gr pastırma almış ve 9 lira ödemiştir.
Buna göre Serhat 2kg pastırma alsaydı kaç lira ödeyecekti?

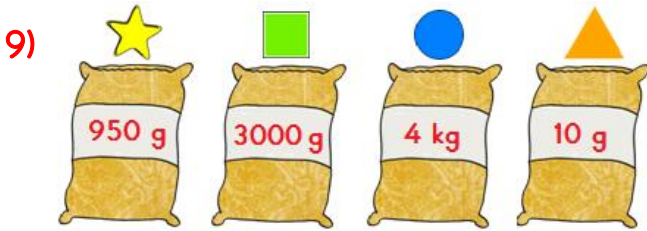
- A) 90 lira ödeyecekti.
B) 18 lira ödeyecekti.
C) 180 lira ödeyecekti.

8)

1 kg	=	2 çeyrek kg
2 kg	=	4 yarım kg
3 kg	=	12 çeyrek kg
4 kg	=	16 yarım kg

Yukarıdaki ağırlık dönüşüm tablosunda kaç tane hata yapılmıştır?

- A) 2 B) 3 C) 4



Her biri bir şekil ile eşleştirilen çuvalların, ağırlıklarının en ağırdan en hafife doğru sıralanışı hangisidir?

- A) ■ > ★ > ▲ > ●
B) ● > ■ > ★ > ▲
C) ▲ > ● > ■ > ★

10) Köylerindeki bağlarından 150 kg üzüm toplayan bir aile, topladıkları üzümün $\frac{4}{6}$ sı ile pekmez, geri kalanı ile de şıra yapacaklardır.

Buna göre şıra yapmak için kaç kg üzüm kullanacaklardır?

- A) 100 kg B) 50 kg C) 75 kg

11. ve 12. Soruları tabloya göre yanıtlayınız.

ÜRÜN ADI	FİYATI (KG)
Fındık	60 ₺
Ceviz	30 ₺
Badem	50 ₺
Leblebi	20 ₺

11) Yarım kilogram badem ve 250 gram fındık alan bir kişi kaç lira ödeyecekti?

- A) 40 ₺ B) 50 ₺ C) 60 ₺

12) Bir miktar leblebi ve bir miktar ceviz alan Serhat, toplam 160 lira ödeme yapmıştır.

Buna göre Serhat'ın aldığı miktarlar aşağıdakilerden hangisi olabilir?

- A) 1 kg leblebi - 5 kg ceviz
B) 3 kg leblebi - 3 kg ceviz
C) 2 kg leblebi - 4 kg ceviz