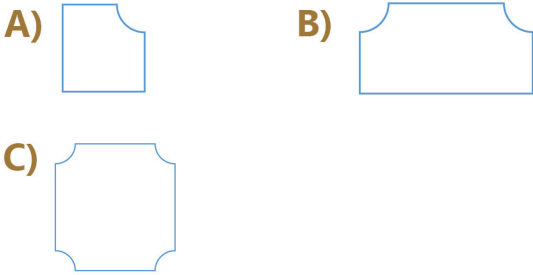
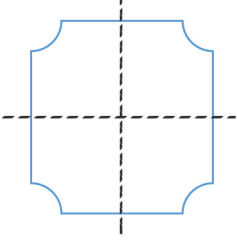


Kesirler (Bütün, Yarım, Çeyrek)

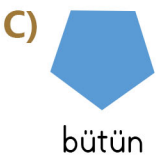
1. Aşağıdaki meyvelerden hangisi yarımı göstermektedir?



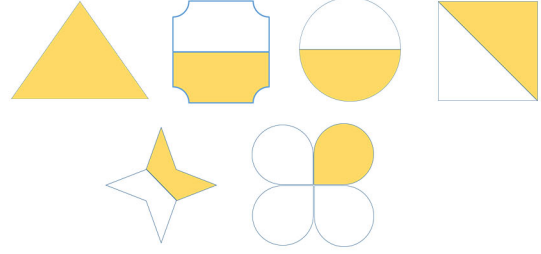
2. Yan taraftaki şeklin çeyreği hangi seçenekte verilmiştir?



3. Aşağıdaki şekillerde boyalı alanı gösteren hangi ifade hata yapılmıştır?




4.



Yukarıdaki şekillerin bütün, yarım ve çeyrek sayıları hangi seçenekte doğru verilmiştir?

	Bütün	Yarım	Çeyrek
A)	2	3	1
B)	1	4	1
C)	1	3	2

5.



Yukarıdaki çeyrek elmalar kaç bütün elma yapar?

A) 3 B) 6 C) 4

6.

10 tane , 5 tane olur.

Yukarıdaki boşlukları sırasıyla hangi sözcüklerle tamamlarsak doğru bir ifade olur?

A) bütün - yarım B) yarım - bütün
C) çeyrek - bütün


Kesirler (Bütün, Yarım, Çeyrek)

7. tane çeyrek , tane bütün olur.

Yukarıdaki boşlukları sırasıyla hangi sayılarla tamamlarsak doğru bir ifade olur?

- A) 8 - 2 B) 4 - 2
C) 3 - 6

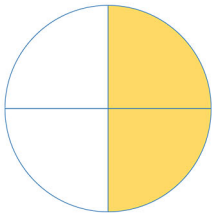
8.



Yukarıdaki çeyrek elmalar için aşağıdaki hangi ifadeyi söyleyemeyiz?

- A) Tümü 3 bütün elma yapar.
B) Tümü 6 yarım elma yapar.
C) Tümü 3 yarım ya da 2 bütün elma yapar.

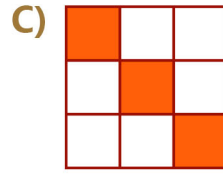
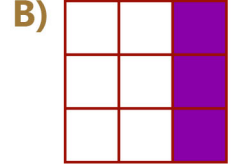
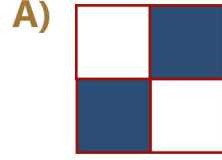
9.



Yandaki şekil için aşağıdaki ifadelerden hangisi doğrudur?

- A) Bir bütün 4 eş parçaya ayrılmış, 2 çeyreği boyanmış.
B) Bir bütün 2 eş parçaya bölünmüş, çeyreği boyanmış.
C) Bir bütün 4 eş parçaya bölünmüş, tamamı boyanmış.

10. Aşağıdaki şekillerden hangisinin yarısı boyanmıştır?



11.



Hüseyin 16 elmasının çeyreğini Elife verdi. Kendisine kaç elma kaldı?

- A) 14 B) 12 C) 8

12.

Babam 40TL para verdi. Yarısı ile kitap aldım. Kalanin çeyreği ile kalem aldım. Geriye kaç TL param kaldı?

- A) 10TL B) 30TL C) 15TL

13.

2 düzine kalemin çeyreği kaçtır?

- A) 5 B) 6 C) 12