


## Doğal Unsurlar

1)



Yandaki görselde  
hangi doğal  
unsurdan  
bahsedilmektedir?

- A) Yağmur B) Rüzgar C) Kar

2) Aşağıdakilerden hangisi doğal unsur  
değildir?

- A) Dağ B) Köprü C) Kar

3) Canlıların yaşamasını ve tarım yapılmasını  
sağlayan doğal unsur aşağıdakilerden  
hangisidir?

- A) Dağ  
B) Ova  
C) Toprak



4) Aşağıdakilerden hangisi yağmur için  
alınabilecek önlemlerden birisidir?

- A) Her zamanki kıyafetlerle dışarıya çıkmak  
B) Yanımıza şemsiye almak  
C) Dere kenarlarında yürümek

5) Dünyanın su ihtiyacını karşılar ve kış  
turizmi gelişir.

Yukarıda tanımı yapılan doğal unsur  
aşağıdakilerden hangisidir?

A)



B)



C)



6) Toprak oluşumunu, elektrik üretilmesini ve  
bitki tohumlarının yayılmasını sağlayan  
doğal unsur aşağıdakilerden hangisidir?


- A) Rüzgar  
B) Yağmur  
C) Kar

7) Verimli topraklar aşağıdakilerden hangisinin  
yakınında bulunur?


- A) Dağlık B) Çöl C) Akarsu

8) Aşağıdaki görsellerden hangisinde hayvancılık yapılabilir?

A)



B)



C)



9) Aşağıdakilerden hangisi bitkiler için zararlıdır?

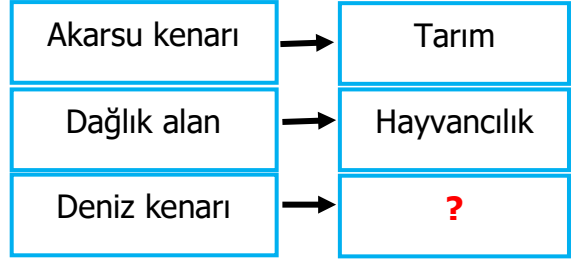
A) Yağmur    B) Rüzgar    C) Dolu

10) Aşağıdakilerden hangisi dağlık alanda yapılamaz?

A) Hayvancılık    B) Balıkçılık

C) Arıcılık

11)



? işareti yerine aşağıdakilerden hangisi getirilmelidir?

A) Arıcılık  
B) Ormancılık  
C) Balıkçılık

12) Dağlık alanlarda nüfus ve yerleşmenin az olmasının sebebi aşağıdakilerden hangisi olamaz?

A) Dağlık alanlarda tarım yapılamaması  
B) Dağlık alanlarda verimli toprakların olması  
C) Dağlık alanlara ulaşımın zor olması

13) Yağmurun az olması ..... sebep olur?

Noktalı bölüme aşağıdakilerden hangisi getirilmelidir?

A) Kuraklığa    B) Heyelana    C) Verime