


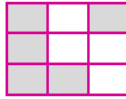
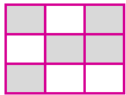
1) Aşağıdakilerden hangisi canlıların ortak özelliklerinden değildir?

- A) Tüm canlılar beslenirler.
- B) Tüm canlılar solunum yaparlar.
- C) Tüm canlılar konuşurlar.

2)

Robot	Kaktüs	Tahta
Ağaç	Şahin	Pencere
Kolye	Yastık	Bebek




Yukarıdaki varlıklardan cansız olanları boyarsak ortaya nasıl bir şekil çıkar?

- A) 
- B) 
- C) 

3)

- Erişkin oluncaya kadar büyür.
- Erişkin olduktan sonra büyümesi durur.
- Besinini diğer canlılardan sağlar.


Bu özellikler aşağıdaki hangi canlıya ait olabilir?

- A) 
- B) 
- C) 

4) Aşağıdakilerden hangisi bitki ve hayvanların ortak özelliklerindedir?

- A) Kendi besinini kendi yapar.
- B) Boşaltım yapar.
- C) Sinir sistemi vardır.

5)



Her biri bir harf ile eşleştirilen atıklardan hangi ikisi, doğada diğerlerinden daha uzun sürede yok olur?

- A) B ve D
- B) A ve D
- C) B ve C

6) Aşağıdakilerden hangisi doğal çevrenin kirlenmesine sebep olur?

- A) Bir şeyin yanarken ortaya çıkardığı dumanın havaya karışması.
- B) Sonbaharda ağaçların yapraklarının toprağa dökülmesi
- C) İnsanların yedikleri yiyeceklerin ambalajlarını yer atmaması.

7) Aşağıdaki atıklardan hangisi geri dönüştürülemez?

- A) Kullanılmış ders kitapları
- B) Plastik su şişeleri
- C) Çürümüş meyveler

8) Annem, biten salçanın ve ayçiçeği yağının teneke kutularını geri dönüşüm kutularına atmak istiyor.

Buna göre annem bu atıkları aşağıdaki kutulardan hangisine atmalıdır?



9)



Görsele göre aşağıdaki bilgilerden hangisi yanlıştır?

- A) Plastik ürünler geri dönüştürülebilir.
- B) Atık poşetleri toprağa gömmeliyiz.
- C) Geri dönüşümle doğamızı koruruz.

10)



İki tane yapay çevre örneği yazan Serhat'ın aklına üçüncüsü gelmemiştir.

Buna göre Serhat, 3 numaraya hangi örneği yazabilir?

- A) Dağlar
- B) Mağaralar
- C) Barajlar

11) Aşağıdakilerden hangisi çevreyi korumak için alınan önlemlerden değildir?

- A) Güneş enerjisini kullanmak.
- B) Kömür sobası kullanmak.
- C) Ormanları çoğaltmak.

12) Aşağıdakilerden hangisi doğal çevreye örnektir?

- A) Pamukkale Travertenleri
- B) Darıca Hayvanat Bahçesi
- C) Hasan Uğurlu Barajı