

✚ Kâğıt ve madeni paraların miktarlarını altlarına yapıştırınız.



10 Lira

50 Kuruş

100 Lira

1 Kuruş

5 Lira

10 Kuruş

1 Lira

200 Lira



5 Kuruş

50 Lira

25 Kuruş

20 Lira

Değeri fazla olan paranın kutusunu mora, az olanı sarıya boyayınız.



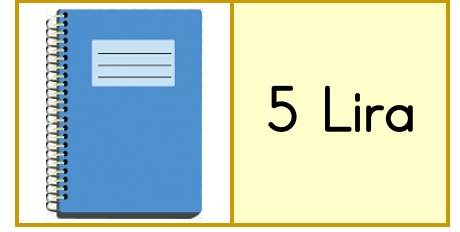


Paralarla miktarlarını eşleştiriniz.



32 Lira	40 Lira	52 Lira	2 Lira	11 Lira	26 Lira
---------	---------	---------	--------	---------	---------



✚ Tablodaki nesnelerin satış fiyatlarına göre problemleri çözünüz.



**Soru-1)** Pınar, defter ve taç aldı. Kaç Lira ödeme yapması gerekir?



Çözüm:

**Soru-2)** Faruk, kalem ve açacak aldı. Kaç lira ödemesi gerekir?



Çözüm:

**Soru-3)** Esra'nın 10 lirası var. Dondurma alırsa geriye kaç lirası kalır?



Çözüm:

**Soru-4)** Serkan'ın 15 lirası var. Oyuncak araba ve açacak alırsa geriye kaç lirası kalır?



Çözüm:

**Soru-5)** Gamze'nin 50 lirası var. Kalem, taç ve açacak aldı. Geriye kaç lirası kaldı?



Çözüm:

**Soru-6)** Şenol, oyuncak araba, dondurma, defter ve kalem aldı. Toplam kaç lira ödemesi gerekir?



Çözüm: