



✚ Görsel ve harflerle ipucu verilen kelimeleri bulup karşlarına yazınız.



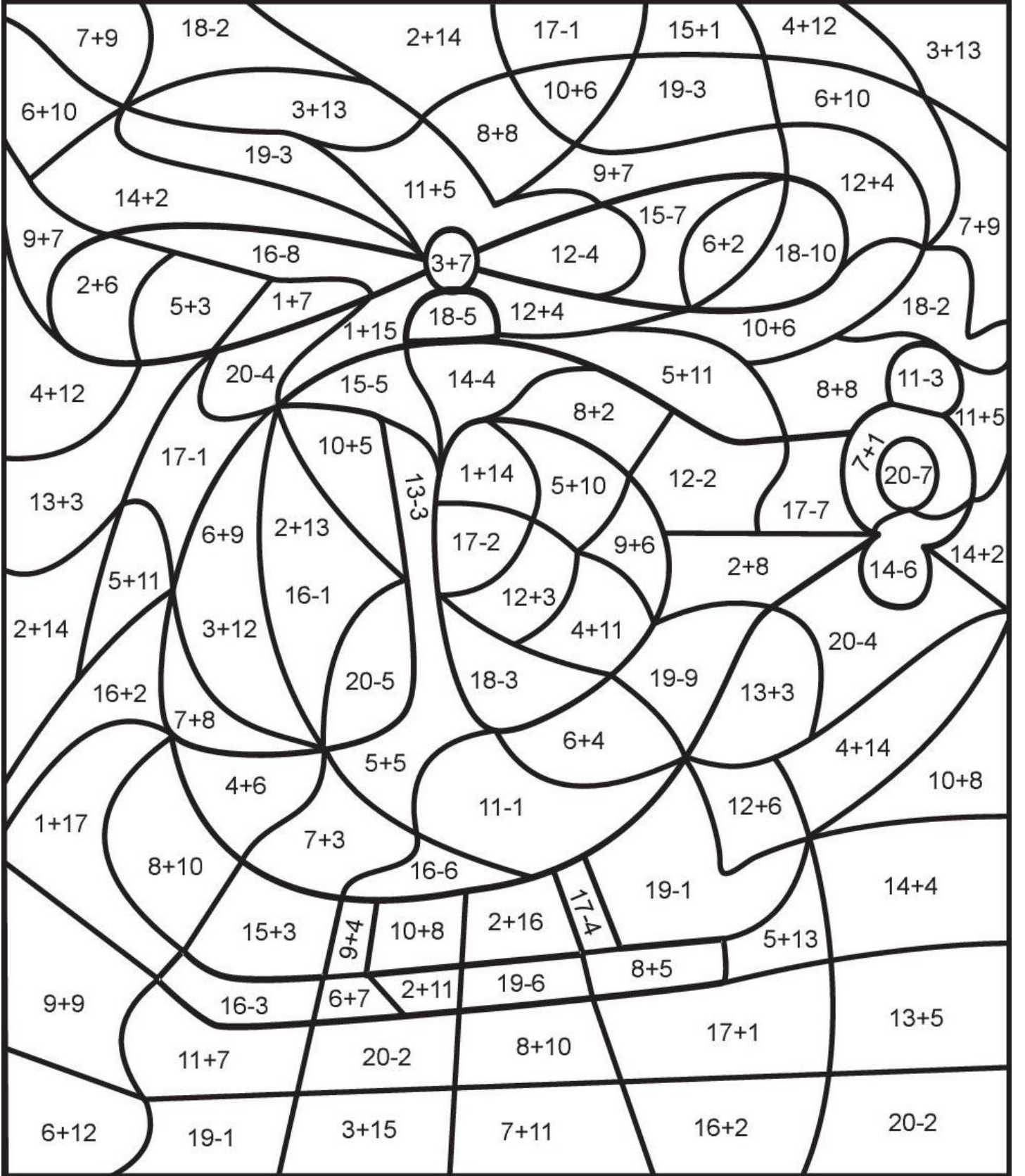
✚ İki resim arasındaki 10 farkı bulup kırmızı kalemle işaretleyiniz.



✚ Örnekteki gibi, kelimelerle ilgili etkinliği yapınız.

	Kelime	Harf Sayısı	Ünlü Harfler	Ünsüz Harfler
1	Parıltı	7 Harfli	a-ı-ı	p-r-l-t
2	Kahraman			
3	Salatalık			
4	Kibarlık			
5	Gürültü			
6	Pişmaniye			

🌈 Toplama ve çıkarma işlemlerinin sonuçlarına göre resmi boyayınız.



8 →	Sarı	10 →	Kırmızı	13 →	Turuncu
15 →	Yeşil	16 →	Açık Mavi	18 →	Koyu Mavi


✚ Verilen cümlelerle alakalı soruları cevaplayınız.

Arkadaşım Sabri köpekten çok korkar.	→ Arkadaşım neden korkar?	→	
	→ Kim köpekten korkar?	→	
Dün sabah bahçede yılan gördüm.	→ Bahçede ne gördüm?	→	
	→ Ne zaman yılan gördüm?	→	
Aykan pazarda taze marul bulamamış.	→ Kim marul bulamamış?	→	
	→ Nerede bulamamış?	→	
Annesi, Faruk'u suyu az açması konusunda uyardı.	→ Kim Faruk'u uyardı?	→	
	→ Annesi, onu hangi konuda uyardı?	→	

✚ Örnekteki gibi, verilen kelimeyle alakalı 2 adet kelime yazınız.

Organ	→	Akciğer	Kalp	Şehir	→		
Aylar	→			Ders	→		
Günler	→			Hayvan	→		
Sebze	→			Eşya	→		
Mevsim	→			Çiçek	→		

✚ Yanlış yazılmış kelimeleri kırmızıya, doğru yazılanları yeşile boya.



## VERİLEN PROBLEMLERİ ÇÖZÜNÜZ

Benim 12 bilyem vardı.  
Babam 8 tane daha  
verdi. Toplam kaç  
bilyem oldu?

Çözüm

Ayşe 11 yaşındadır. Abisi  
ondan 3 yaş büyüktür.  
Abisi kaç yaşındadır?

Çözüm

Bakkaldan 10 yumurta  
aldım. 3 tanesi yere  
düştü. Şimdi kaç  
yumurtam var?

Çözüm

## ONLUK VE BİRLİKLERİ VERİLEN SAYILARI YAZINIZ

Onluk	Birlik	Onluk	Birlik	Onluk	Birlik	Onluk	Birlik
6	1	5	9	4	0	3	7
[ ]		[ ]		[ ]		[ ]	

✚ Okunuşu verilen saatlere akrep ve yelkovan çiziniz



Saat beş buçuk



Saat on bir



Saat bir buçuk

✚ Toplama işlemlerindeki verilmeyen toplananları bulunuz.

$$3 + \square = 5$$

$$\square + 5 = 9$$

$$3 + \square = 6$$

$$\square + 8 = 12$$

$$4 + \square = 8$$

$$8 + \square = 9$$

$$\square + 6 = 11$$

$$7 + \square = 10$$

$$\square + 4 = 9$$

$$6 + \square = 12$$