


✚ Resme bakarak etkinlikleri yapınız.



EVET - HAYIR		DOĞRU - YANLIŞ	
Bu resimde köpek var mı?		Çocuklar piknik yapıyorlar.	
Resimde kısa saçlı kız var mı?		Resimde hiç kelebek yoktur.	
Gözlük takan çocuk var mı?		Erkek çocuk ayakta duruyor.	
Meyve suyu içen ayıcık var mı?		Resimde 3 kız ve 1 erkek var.	

SORU - CEVAP		BOYA	
Resimde kaç ayıcık var?		Piknik sepetini turuncuya boya.	
Çocuklar ne yapıyorlar?		Kızların saçlarını sarıya boya.	
Olay hangi mevsimde olabilir?		Papyonlu ayıcığı pembeye boya.	
Resimde kaç tane çiçek var?		Çimenlik alanı yeşile boya.	
Ayıcıklardan biri ne takmış?		Kalan yerleri istediğin renklerle boya.	

✚ Okları takip ederek işlemleri tamamlayıp, şifreyi bulunuz.

$20 - 8 = \square$	$9 + 5 = \square$	$8 + 8 = \square$
$\square - 5 = \square$	$\square - 6 = \square$	$\square - 7 = \square$
$\square + 3 = \mathbf{V}$	$\square + 4 = \mathbf{K}$	$\square + 9 = \mathbf{D}$
$17 - 5 = \square$	$7 + 7 = \square$	$10 + 10 = \square$
$\square - 6 = \square$	$\square - 5 = \square$	$\square - 9 = \square$
$\square + 10 = \mathbf{L}$	$\square + 6 = \mathbf{E}$	$\square + 3 = \mathbf{A}$



ŞİFRE →

15	10	18	15


12	14	16

✚ Geometrik şekilleri belirtilen renklerle boyayınız.

Üçgen → Sarı	Kare → Mavi	Dikdörtgen → Yeşil	Çember → Pembe
--------------	-------------	--------------------	----------------



✚ İki resim arasındaki 13 farkı bulup kırmızı kalemle işaretleyiniz.



✚ Kelimeleri eş anlamlıları ile aynı renge boyayınız.



✚ Cümleleri okuyunuz ve uygun cevaplar yazınız.

Bir kız ismi yazınız.	<input type="text"/>
Hangi mevsimde kar yağar?	<input type="text"/>
Tehlikeli bir şey yazınız.	<input type="text"/>
Camdan yapılmış bir eşya yaz.	<input type="text"/>
Annemizin kız kardeşi kimdir?	<input type="text"/>

Kırk yediden sonra kaç gelir?	<input type="text"/>
Yumuşak bir şey yaz.	<input type="text"/>
Hastalanınca nereye gideriz?	<input type="text"/>
En çok hangi günü seviyorsun?	<input type="text"/>
Kötü kokan bir şey yazınız.	<input type="text"/>

✚ Aşağıdaki iki işlemli problemleri çözünüz.

Soru 1) Ben 7 yaşımdayım. Abim benden 4 yaş büyüktür. Abimin yaşı ile benim yaşımlı toplayınız.

Çözüm:

Soru 2) 14 sayısına 8 ekleyiniz. Ardından bulduğunuz sayıdan kendi yaşımlı çıkarınız. Sonuç kaç oldu?

Çözüm:

Soru 3) Vazoya 10 tane gül, 6 tane papatya koydum. 8 tane çiçek kurudu. Vazoda kurumayan kaç çiçeğim var?

Çözüm:

Soru 4) 38 sayfalık kitaptan dün 9 sayfa bugün ise 7 sayfa okudum. Okumadığım kaç sayfa kaldı?

Çözüm:

✚ Kedilerin gösterdiği saate bakarak, saatlerin akrep ve yelkovanlarını çiziniz



RİTMİK SAY - YAZ							
Birer →	1	2					
İkişer →	2	4					
Beşer →	5	10					
Onar →	10	20					

GERİYE DOĞRU BİRER SAY							
32	31			28			25
24					19		
	15					10	
			5				1