



✚ Aşağıdaki hayvanların isimlerini altlarına yazınız.



✚ İki resim arasındaki 10 farkı bulup kırmızı kalemle işaretleyiniz.



✚ Karışık harflerle verilen gün isimlerini yazınız.

M-A-Ç-R-A-Ş-A-B →
A-R-Z-A-P →
R-İ-C-S-E-T-U-M-A →
U-A-C-M →

→
→
→
→

S-E-İ-P-R-T-A-A-Z →
A-L-I-S →
E-M-P-R-E-Ş-B-E →

→
→
→

✚ Verilen cümlelerle ilgili istenen bilgileri örnekteki gibi yazınız.

Cümleler		Harf Sayısı	Hece Sayısı	Kelime Sayısı
Kedi ağaca çıktı.	→	14	7	3
Çetin fırından ekmek aldı.	→			
Ayşe etek giymiş.	→			
Kitap okuyorum.	→			
Bitirdim.	→			

✚ Resme bakarak etkinlikleri yapınız.



EVET - HAYIR		DOĞRU - YANLIŞ	
Çocuklar kartopu mu oynuyorlar?		Resimde üç tane köpek var.	
Köpek kulübesi ağacın altında mı?		Çocuğun elinde telefon var.	
Resimde oyun parkı var mı?		Arı ağacın üstündedir.	
Resimde araba var mı?		Dağların üstünde kar var.	
Kızın elinde tavşan mı var?		Ağaçta sekiz meyve görünüyor.	

SORU - CEVAP		BOYA	
Yakındaki evde kaç pencere var?		Kızın eteğini mor renge boya.	
Erkeğin tişörtünde ne var?		Ağaçtaki meyveleri kırmızıya boya.	
Resimde kaç tane çocuk var?		Yakındaki evin çatısını kahverengiye boya.	
Uyuyan hayvanın ismi nedir?		Ağzında çubuk olan köpeği sarıya boya.	
Hava sıcak mı, soğuk mu?		Kalan yerleri istediğin gibi boyayabilirsin.	

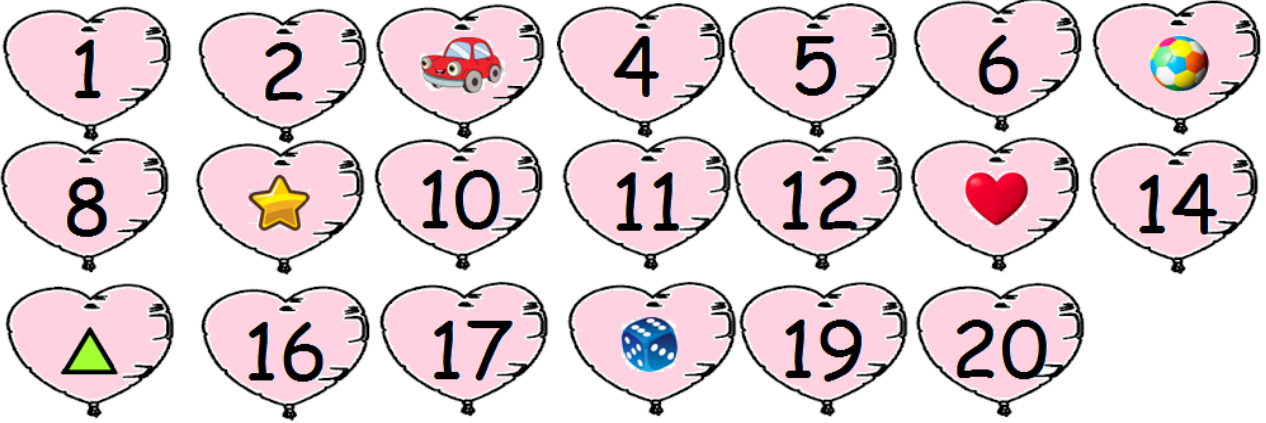
✚ Verilen tabloya bakarak kelimelerin zıt anlamlarını yazınız.



barış	iyi	kalın	sabah	tembel	geri	temiz
eski	uzun	zengin	sert	ucuz	küçük	yukarı

akşam	→	
aşağı	→	
ince	→	
kısa	→	
yumuşak	→	
çalışkan	→	
yeni	→	

pahalı	→	
fakir	→	
büyük	→	
kirli	→	
savaş	→	
ileri	→	
kötü	→	

✚ İpuçları verilen sayılarla ilgili işlemleri yapınız.




	+		=	
---	---	---	---	--

	-	2	=	
---	---	---	---	--

	-	6	=	
---	---	---	---	--

	+	5	=	
---	---	---	---	--

12	+		=	
----	---	---	---	--

	-		=	
---	---	---	---	--

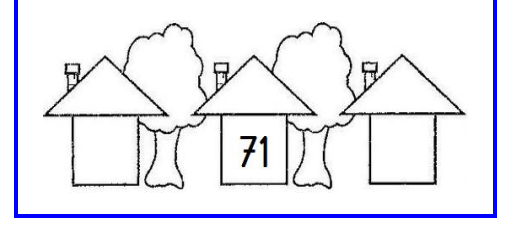

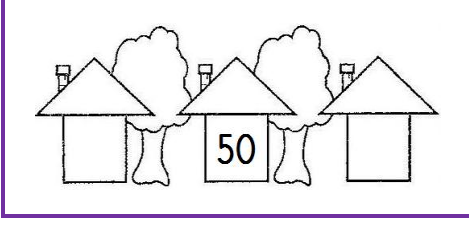
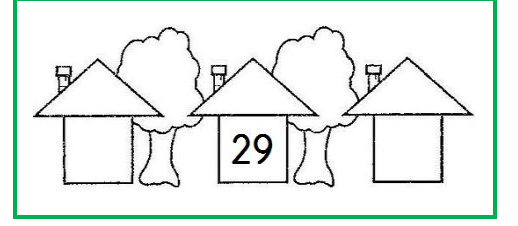


	-		=	
---	---	---	---	--

	+	8	=	
---	---	---	---	--

	+	10	=	
---	---	----	---	--

	-		=	
---	---	---	---	--

✚ Verilen sayıların öncesini ve sonrasını yazınız.



✚ Saatlerin okunuşlarını altlarına yazınız.



✚ Aşağıdaki iki işlemli problemleri çözünüz.

Soru 1) Annem doğum günüm için 7 balon, ablam ise 5 balon aldı. Balonları şişirirken 3 tanesi patladı. Geriye kaç balon kaldı?

Cözüm:

Soru 2) 8 liralık bisküvi ve 6 liralık çikolata alan Müge, bakkal amcaya 20 lira uzattı. Bakkal amca para üstü kaç lira verecek?

Cözüm:

✚ Geometrik şekillerin isimlerini altlarına yazınız.

