

✚ Resme bakarak etkinlikleri yapınız.




EVET - HAYIR		DOĞRU - YANLIŞ	
Saçlarını toplamamış kız var mı?		Resimde altı çocuk vardır.	
Duvarda bayrak var mı?		Resimde iki kişi gözlük takıyor.	
Gözlük takan kız öğrenci var mı?		Bütün çocuklar ayakta.	
Kitapların hepsi açık mı?		Çocuklar oyun oynuyorlar.	
Herkes öğretmeni dinliyor mu?		Bir çocuğun elinde kalem var.	

SORU - CEVAP		BOYA	
Öğretmen çocuklara ne okuyor?		Gözlüklü çocuğun kazağını kırmızıya boya.	
Resimde toplam kaç kişi var?		Kızların saçlarını sarıya boya.	
Çocuklar evde mi, sokakta mı?		Yıldızları turuncuya boya.	
Kaç öğrenci ayakta?		Öğretmenin saçını kahverengiye boya.	
Kaç tane kız öğrenci var?		Kalan yerleri istediğin renklerle boya.	

✚ Toplama ve çıkarma işlemlerinin sonuçlarına göre boyamanızı yapınız.

1 → Açık Mavi	2 → Sarı	3 → Pembe	4 → Açık Yeşil
5 → Kırmızı	6 → Mor	7 → Koyu Mavi	8 → Turuncu



✚ Aşağıdaki sayı etkinliklerinde istenenleri yapınız.

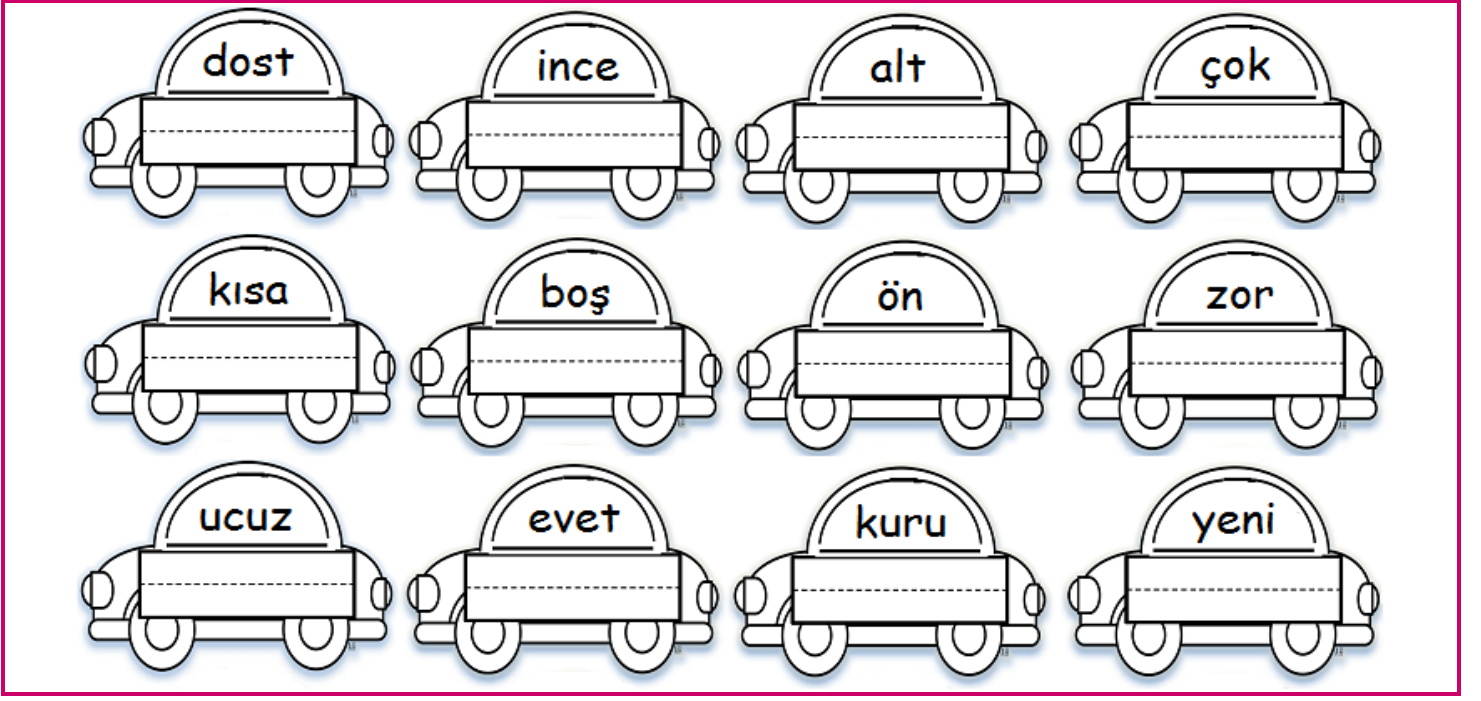
ÖNCESİ - SONRASI - ARASINI YAZ					
8	9	16		3	5
16	17	44		32	34
35	36	69		57	59
60	61	81		61	63

OKUNUŞU VERİLEN SAYIYI YAZ			
Yedi	→	Elli yedi	→
On üç	→	Altmış bir	→
Yirmi	→	Yetmiş üç	→
Otuz iki	→	Seksen	→


RİTMİK SAY - YAZ						
İkişer →	2	4				
Beşer →	5	10				
Onar →	10	20				

GERİYE DOĞRU BİRER SAY						
65				61		
57				52		
		47				42

✚ Verilen kelimelerin zıt anlamlarını altlarına yazınız.



✚ İki resim arasındaki 7 farkı bulup kırmızı kalemle işaretleyiniz.



✚ Karışık halde verilen kelimelerden anlamlı cümleler oluşturunuz.

gölde	balık	eniştem	tutuyor	→	
askerdi	Atatürk	başarılı	bir	→	
tatilde	Samsun'a	Ayhan	gidecek	→	

misin

eder

yardım

bana

→

✚ Aşağıdaki iki işlemli problemleri çözünüz.

**Soru 1)** 17 sayısının 5 fazlasını bulunuz. Ardından bulduğunuz sayıdan 9 çıkarınız. Sonuç kaç oldu?

**Cözüm:**

**Soru 2)** Leyla 12 boya kaleminden 4 tanesini kaybetti. Arkadaşı ona 6 boya kalemi verdi. Şimdi kaç boya kalemi var?

**Cözüm:**


**Soru 3)** Bir bahçede 13 elma, elmalardan 4 eksik armut ağacı vardır. Bu bahçede toplam kaç meyve ağacı vardır?

**Cözüm:**

**Soru 4)** Kumbaramda 25 lira para vardı. Ben 9 lirasını harcadım. Babam kumbarama 4 lira attı. Şimdi kaç liram var?

**Cözüm:**

✚ Paraların miktarlarını altlarına yazınız.



✚ Verilen saatlerin okunuşlarını altlarına yazınız.

