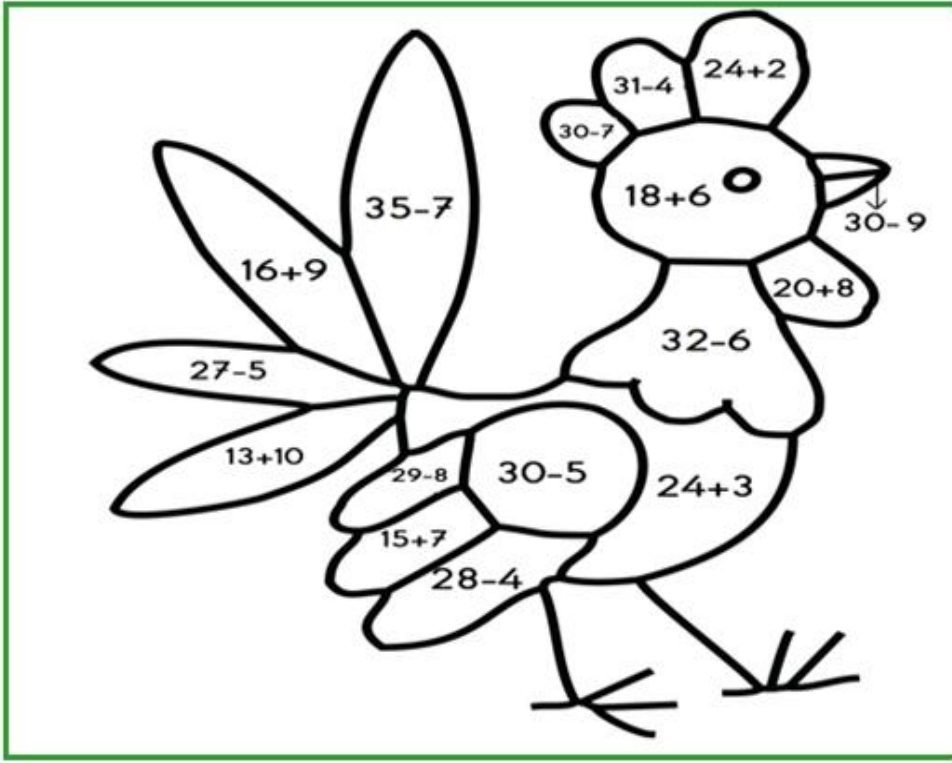


✚ Toplama ve çıkarma işlemlerinin sonuçlarına göre resmi boyayınız.



21	Kahverengi
22	Koyu Yeşil
23	Açık Mavi
24	Pembe
25	Mor
26	Kırmızı
27	Sarı
28	Turuncu

✚ Aşağıdaki metinleri okuyup istenen saatleri çiziniz.

Ayşe İstanbul'daki babaannesini ziyaret etti. Uçağı Samsun'dan saat 09.30'da havalandı. Uçak İstanbul'a saat 11.00'da indi. Ayşe babaannesini çok özlemişti.



Kalkış Saati	İniş Saati

Serhat bu sabah erken kalktı. Saat 07.30'da kahvaltısını yaptı. Sonra bahçede çalışan babasına yardıma koştu. Akşam saat 7'de akşam yemeğini yediler.




Kahvaltı	Akşam Yemeği



✚ Paraların miktarlarını altlarına yazınız.



✚ Çocukların gösterdiği kelimelerle zıt anlamlarını aynı renge boyayınız.



✚ İki resim arasındaki 12 farkı bulup kırmızı kalemle işaretleyiniz.



✚ Cümleleri okuyunuz ve uygun cevaplar yazınız.

Bir yılda kaç ay vardır?	<input type="text"/>
Çok ağır olan bir şey yaz.	<input type="text"/>
Ekşi bir meyve ismi yaz.	<input type="text"/>
Ağaçtan yapılan bir eşya yaz.	<input type="text"/>

Seksen beşten sonra kaç gelir?	<input type="text"/>
Hangi mevsimde çiçekler açar?	<input type="text"/>
Et satan kişiye ne denir?	<input type="text"/>
Denizde giden bir araç yaz.	<input type="text"/>

✚ Aşağıdaki iki işlemli problemleri çözünüz.

Benim 19 tane, kardeşimin ise 7 tane şekeri var. Şekerlerimizden 9 tanesini yersek geriye kaç tane kalır?

Çözüm


Ali'nin 14 lirası, Sema'nın ise Ali'den 6 lira az parası var. Paralarını birleştirirlerse toplam kaç lira olur?

Çözüm

Abim 38 boya kaleminin 8 tanesini bana 10 tanesini ablama verdi. Abimin kaç tane boya kalemi kaldı?

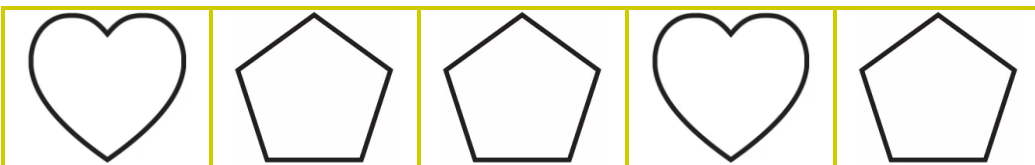

Çözüm

✚ Geometrik şekilleri belirtilen renklerle boyayınız.




Dikdörtgen →	Mavi
Çember →	Yeşil
Kare →	Turuncu
Üçgen →	Mor

✚ Örüntüleri inceleyiniz ve örüntü kuralına göre son kutuya gelecek şekli çiziniz.



✚ Resme bakarak sizden istenenleri yapınız.



Bütün masaları sarıya boy.	
Gözlük takan kızın hırkasını mora boy.	
Öndeki erkeğin hırkasını yeşile boy.	
Kalan yerleri istediğin gibi boy.	
Resimde kaç kişi var?	
Burası neresi olabilir?	
Herkes elini kaldırmış mı?	
Resimde kaç kitap var?	

✚ Verilen cümlelerle ilgili istenen bilgileri örnekteki gibi yazınız.

Cümleler		Harf Sayısı	Hece Sayısı	Kelime Sayısı
Sabah erken kalktım.	→	17	6	3
Ali sıcak çorba içemez.	→			
Ben yedi yaşındayım.	→			
Sokağa çıkma yasağı var.	→			
Televizyon bozuldu.	→			

✚ Alfabe eksik bırakılan harfleri yazıp ünlü harfleri maviye boyayınız.

→	a				d					h				k
l							s						y	

✚ Verilen kelimeleri alfabetik sıraya göre sıralayınız.

soba	1		pazar	1		şekil	1	
çuval	2		zurna	2		lüzum	2	
terlik	3		anten	3		bebek	3	
hazır	4		fener	4		önder	4	