
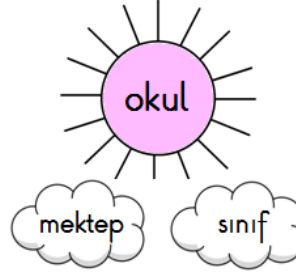
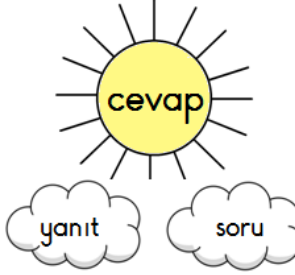
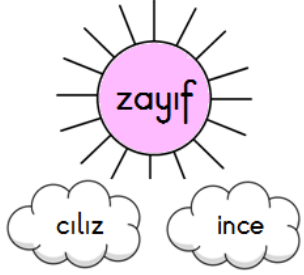
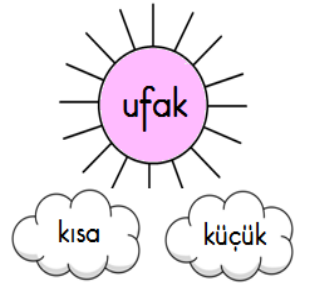
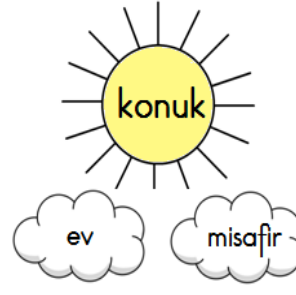
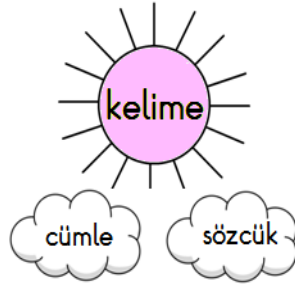
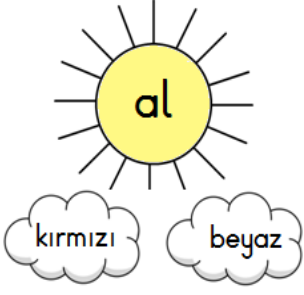


✚ Güneşlerdeki kelimelerin eş anlamlarını içeren bulutları boyayınız.



✚ İki resim arasındaki 8 farkı bulup kırmızı kalemle işaretleyiniz.



✚ Karışık halde verilen kelimelerden anlamlı cümleler oluşturunuz.

seviyorum anneme etmeyi yardım →

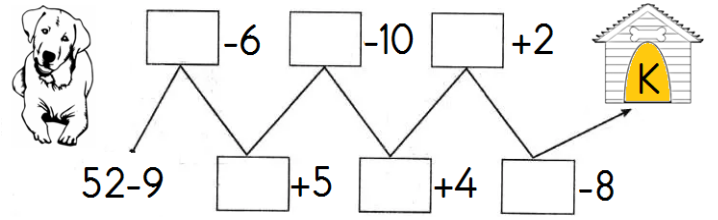
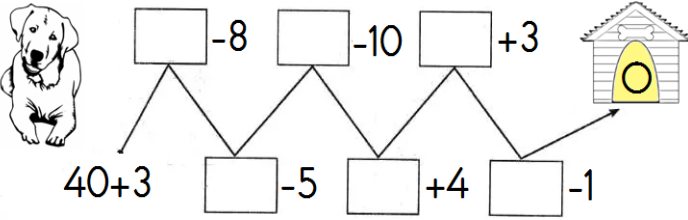
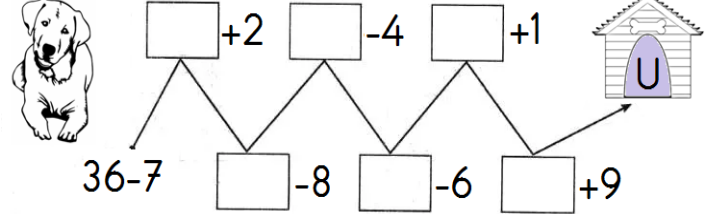
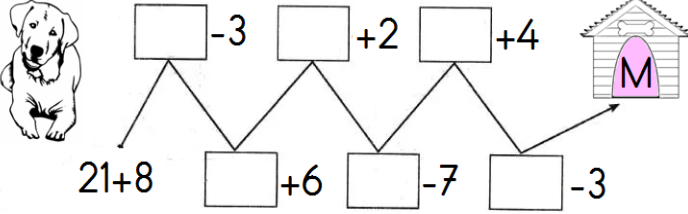
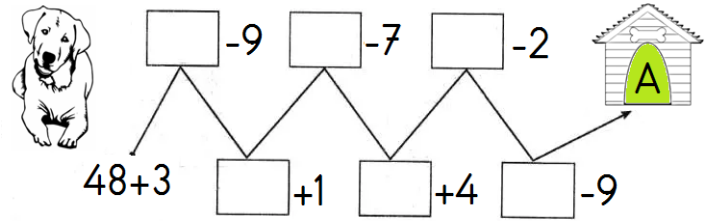
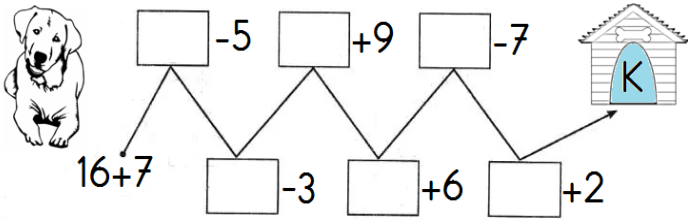
ettik dün ziyaret teyzemi →

telefonu suya düştü babamın →

masal ninem anlattı bize →

puding marketten aldım muzlu →

✚ İlk işlemlerin sonuçlarını yazarak işlemleri devam ettirip, şifreyi bulunuz.



ŞİFRE →

26	25	23	28	29	30

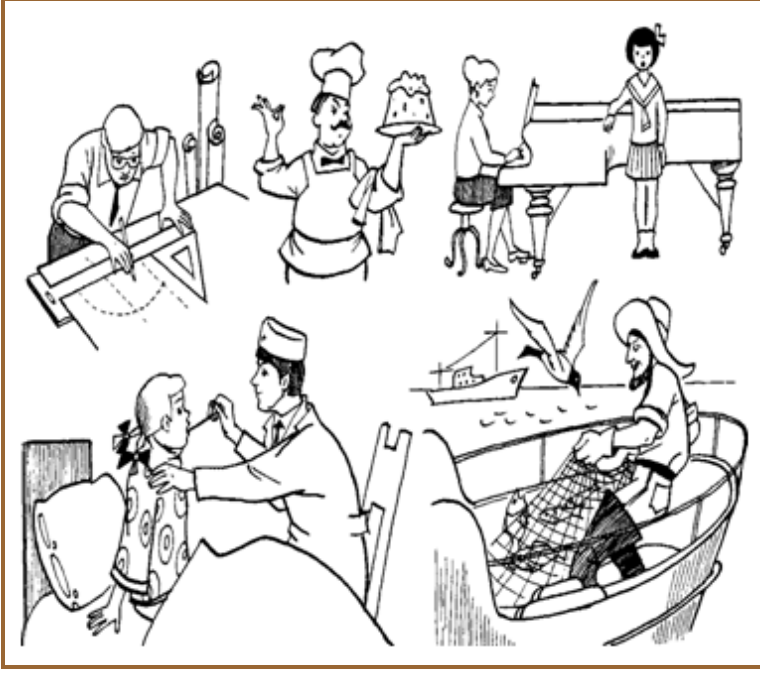
✚ Okunuşları verilen saatlerin akrep ve yelkovanlarını çiziniz.

Saat on buçuk	Saat dört	Saat iki buçuk	Saat yedi	Saat beş buçuk

✚ Örüntüleri inceleyiniz ve örüntü kuralına göre son kutuya gelecek şekli çiziniz.

						→	
						→	
						→	

✚ Resme bakarak sizden istenenleri yapınız.



Piyanoyu mor renge boya.

Yastığı ve yorganı turuncuya boya.

Balıkçının şapkasını koyu yeşile boya.

Doktorun önlüğünü açık maviye boya.

Aşçının elinde ne olabilir?

Bu resimde şoför var mı?

Resimde kaç kişi var?

Çizim yapan avukat mı?

✚ Resimlere bakarak doğru ifadeyi yeşil renkle boyayınız.



Usta olmuş  
Pasta yapmış.  
Hasta olmuş.




Piyano çalıyor.  
Gitar çalıyor.  
Davul çalıyor.



Televizyon  
Radyo  
Buzdolabı



Anne ve bebek  
Baba ve kızı  
Dede ve torun




Çöpçü  
Marangoz  
Elektrikçi



7 yapraklı çiçek  
9 yapraklı çiçek  
8 yapraklı çiçek



Askerler  
Öğretmenler  
Öğrenciler



Helikopter  
Tren  
Otobüs

✚ Belirtilen eklerle başlayan istenen sayıda harf içeren kelimeler yazınız.

2 harfli	3 harfli	4 harfli	5 harfli	6 harfli
e.....	t.....	so.....	der.....	pi.....
i.....	z.....	ke.....	sil.....	ka.....
o.....	b.....	pa.....	çor.....	ma.....

**Fiyatları verilen nesnelerle alakalı soruları çözüünüz.**



Dondurma, balon ve kalem alan Serhat'ın satıcıya kaç lira ödemesi gerekir?

**Çözüm**


Ayşe'nin 8 lirası var. Top almak isteyen Ayşe'nin kaç liraya daha ihtiyacı var?

**Çözüm**

20 lirası olan Yakup top ve dondurma alırsa geriye kaç lirası kalır?

**Çözüm**

**Onluk ve birlik bloklarıyla sayıları eşleştiriniz.**



61

79

35

94

46

**İkişer ikişer sayarak kutuların üzerine yazınız.**

