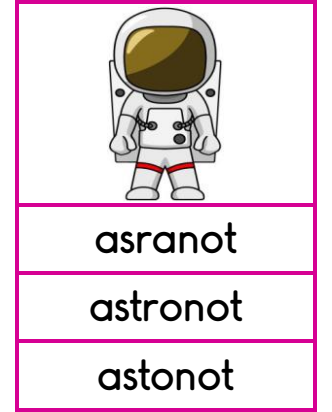
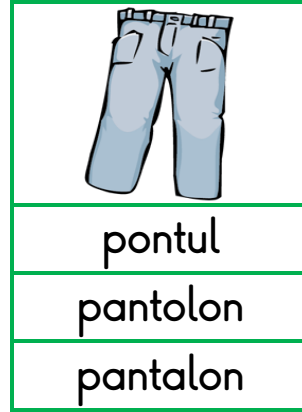
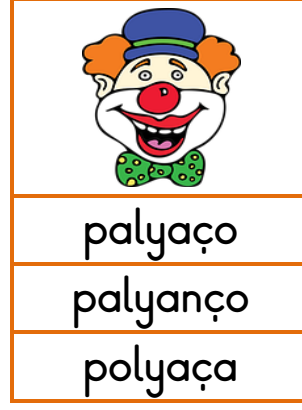
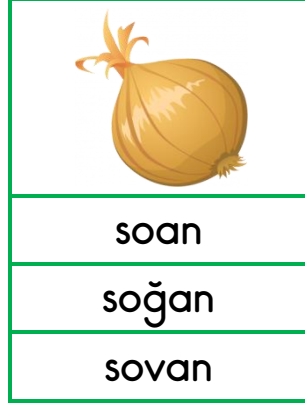


✚ Resimleri verilen kelimelerin doğru yazılışlarını yeşil renge boyayınız.



✚ Resme bakarak sizden istenenleri yapınız.



Annenin tişörtünü pembeye boya.	
Ablanın saçını sarıya boya.	
Babanın pantolonunu maviye boya.	
Kalan yerleri istediğin renklere boya.	
Aile kaç kişiden oluşuyor?	
En uzun kişi kimdir?	
Ailede kaç çocuk var?	
Gözlük takan var mı?	


✚ Alfabe de eksik bırakılan harfleri yazınız.

1	2	3	4	5	6	7	8	9	10	11	12	13	14	15
A						F							K	

16	17	18	19	20	21	22	23	24	25	26	27	28	29
	N						Ş						Z


✚ Trendeki bölümleri işlem sonuçlarına göre istenen renklerle boyayınız.

Sarı	Mavi	Pembe	Turuncu	Yeşil
$16+7$	$27+8$	$31-7$	$43+6$	$50-9$
$38-5$	$61-6$	$42+5$	$19-3$	$28+8$
$56+4$	$49+3$	$53+10$	$82+8$	$64-7$
$60-9$	$82-4$	$26-9$	$70-6$	$20+5$



✚ Geometrik şekilleri istenen renklerle boyayınız.

Üçgen	→ Turuncu	Kare	→ Pembe	Dikdörtgen	→ Mavi	Çember	→ Sarı
-------	-----------	------	---------	------------	--------	--------	--------



✚ Karışık harflerle verilen hayvanları yazıp bulmacada boyayınız.

AREF

IAY

AOBĞ

EÇKİ

EKİN

İKDE

RTKU

EVDE

EEKŞ

UĞKU

Z	B	O	Ğ	A	C	O	F	A	L
P	N	I	E	D	R	K	E	D	İ
E	Ş	E	K	Ö	Ç	Ğ	Ü	V	T
D	G	H	M	Ş	U	K	H	A	K
İ	N	E	K	B	R	U	E	N	E
Z	J	Ö	F	F	Z	Ğ	J	D	Ç
B	K	I	Y	A	Ş	U	L	N	İ
U	U	F	J	R	Ö	F	Ş	Z	Ğ
K	R	Z	L	E	N	D	E	V	E
P	T	İ	O	M	K	L	A	Y	İ



✚ Karışık halde verilen kelimelerden anlamlı cümleler oluşturunuz.

yaparım düzenli spor olarak



tabakta yemek Selim bırakmaz



evinin Şeyma temizledi önünü



✚ Verilen cümlelerle alakalı soruları cevaplayınız.

Ayhan büyüünce doktor olmak istiyormuş.



Kim doktor olmak istiyor?



Ne zaman olmak istiyor?



Leyla dün ormanda ceylan görmüş.



Leyla ne görmüş?



Nerede ceylan görmüş?



✚ Örüntü kurallarına göre son kutulara gelecek şekilleri çizin.

↓	↑	↓	↑	↓	↑	→	
A	B	C	A	B	C	→	
						→	

✚ Fiyatları verilen nesnelere alakalı soruları çözünüz.

	→			→	
	→			→	

Oyuncak bebek ve çikolata alan Serhat'ın satıcıya kaç lira ödemesi gerekir?

Çözüm

Seda'nın 10 lirası var. Tükenmez kalem almak isteyen Seda'nın kaç liraya daha ihtiyacı var?

Çözüm

20 lirası olan Tarık, meyve suyu alırsa geriye kaç lirası kalır?

Çözüm

✚ Üçer üçer sayarak kutuların üzerine yazınız.

3	6				18				30
		39							60