

✚ Aşağıdaki çocuklara, altlarındaki kutular kadar harf içeren isimler yazınız.



--	--	--	--



--	--	--



--	--	--	--



--	--	--	--	--	--



--	--	--	--	--	--

✚ Cümlelerin sonuna gelecek noktalama işaretlerini boyayınız.

Kitap okumayı çok seviyorum ( )



Eyvah, yine yağmur yağacak ( )



Bu adrese nasıl gidebilirim ( )



✚ Resimleri verilen kelimelerin doğru yazılışlarını yeşil renge boyayınız.



benmek

beyenmek

beğenmek



aktapot

ahtapot

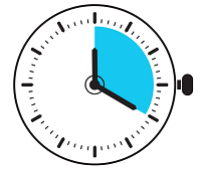
ahtobot



çikolata

çukulata

çukolata



dakka

dakika

daka



eşeg

eşşek

eşek



fermar

fermuar

fermuvar



gazete

gazte

gaste









sandöviç

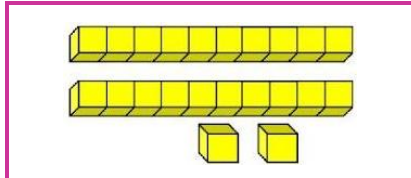
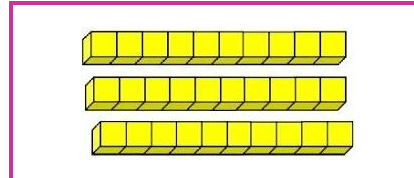
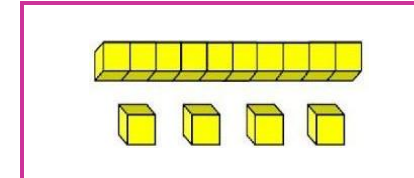









sandüviç

sandviç

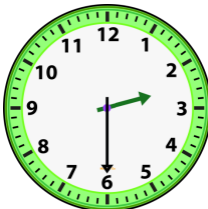


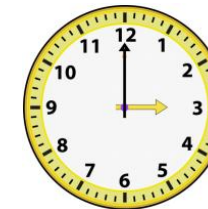
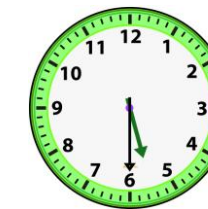
✚ Sonuçları, kalplerin içindeki sayılar olan işlemlerin kutularını boyayınız.

	$9 + 6$		$91 - 9$		$45 + 6$
	$24 - 7$		$76 + 5$		$60 - 7$
	$12 + 2$		$88 - 7$		$54 - 3$
	$20 - 5$		$73 + 8$		$48 + 4$
	$69 + 5$		$21 + 7$		$30 + 6$
	$77 - 3$		$33 - 6$		$42 - 8$
	$66 + 7$		$22 + 5$		$29 + 5$
	$80 - 8$		$30 - 4$		$32 + 3$









✚ Onluk ve birlik blokları verilen doğru sayıyı sarı renge boyayınız.


✚ Saatlerin okunuşlarını altlarına yazınız.

				
<input type="text"/>	<input type="text"/>	<input type="text"/>	<input type="text"/>	<input type="text"/>

✚ Verilen sayıdan itibaren ikiye ikiye sayıp yazınız.

							
--	---	---	---	---	--	---	---

# Resme bakarak sizden istenenleri yapınız.



Kamp evini turuncu renge boya.

Sandalyeleri mavi renge boya.

Masa örtüsünü sarı renge boya.

Kalan yerleri istediğin gibi boya.

Resimde kaç kişi var?

Baba elinde ne tutuyor?

Resimde hayvan var mı?

Masada kaç tabak var?

# Bilmeceleri okuyup ipucuna göre cevaplarını yazınız.

Suyu tuzlu içilmez.  
Dalgaları eksilmez.

Nedir?

► D.....

Her gün yeniden doğar.  
Dünyaya haber yayar.

Nedir?

► G.....

Bilgi verir herkese.  
En güzel dosttur bize.

Nedir?

► K.....

Bakınca görünürsün.  
Kaçınca silinirsin.

Nedir?

► A.....

Fini fini fincan.  
İçi dolu mercan.

Nedir?

► N.....

Su üşümüş ben olmuşum.  
Güneş çıkmış su olmuşum.

Nedir?

► B.....

# Her satırdaki farklı kelimeyi bulup boyayınız.

1 → İspanya → Çin → Samsun → Fransa → Norveç

2 → teyze → dede → anne → dayı → komşu

3 → serçe → tavuk → kartal → şahin → doğan

# Cümleleri okuyunuz ve uygun cevaplar yazınız.

Bir haftada kaç gün vardır?

Okul kelimesinin eş anlamı ne?

Rengi sarı olan bir meyve yaz.

Doksan birden sonra kaç gelir?

Ağır kelimesinin zıttı nedir?

Ekmek satılan yere ne denir?

✚ Aşağıdaki iki işlemleri çözünüz.

Benim 18 tane, kardeşimin ise 9 tane şekeri var. Şekerlerimizden 5 tanesini yersek geriye kaç tane kalır?

Çözüm

Ufuk'un 12 lirası, Sema'nın ise Ufuk'tan 7 lira az parası var. Paralarını birleştirirlerse toplam kaç lira olur?

Çözüm

Ablam 45 balonun 8 tanesini bana, 10 tanesini de arkadaşşıma verdi. Ablamın kaç tane balonu kaldı?

Çözüm

✚ İşlemleri inceleyip toplama (+) veya çıkarma (-) işareti koyunuz.

$$9 \text{ } \text{☁} \text{ } 4 = 5$$

$$20 \text{ } \text{☁} \text{ } 6 = 26$$

$$13 \text{ } \text{☁} \text{ } 8 = 21$$

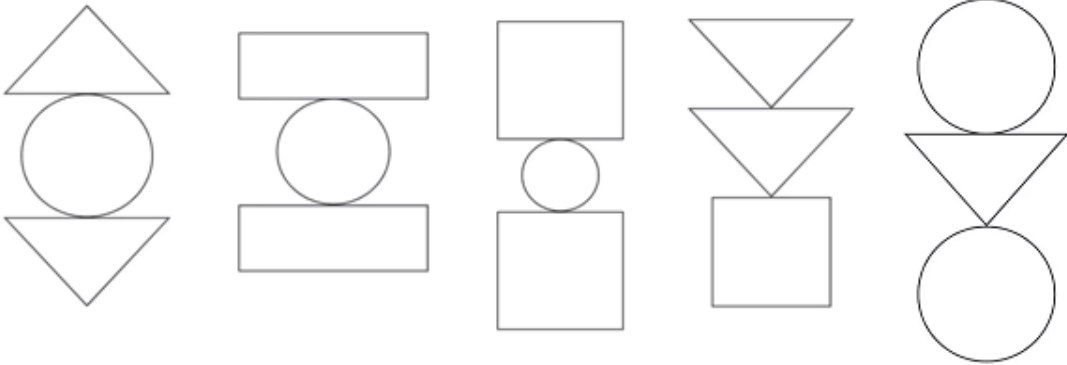
$$31 \text{ } \text{☁} \text{ } 9 = 40$$

$$42 \text{ } \text{☁} \text{ } 4 = 38$$

$$66 \text{ } \text{☁} \text{ } 7 = 59$$

✚ Geometrik şekilleri, istenen renklerle boyayınız.

Üçgen → Yeşil    Kare → Mavi    Dikdörtgen → Sarı    Çember → Turuncu



✚ Örüntü kurallarına göre son kutulara gelecek şekilleri çizin.

