

## Zaman Ölçme (Tam, Yarım ve Çeyrek Saatler)

1.

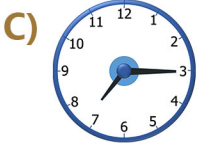
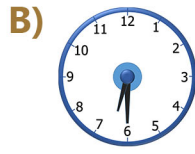
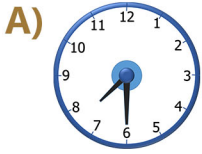


Yandaki saatin okunuşu aşağıdakilerden hangisidir?

- A) Saat on bir buçuk.  
 B) Saat on biri çeyrek geçiyor.  
 C) Saat on ikiye çeyrek var.

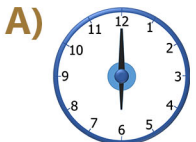
2.

"Saat yedi buçuk" ifadesini gösteren saat aşağıdakilerden hangisidir?




3.


Aşağıda verilen analog saat ve okunuşlarında yanlış olan hangisidir?



Saat altı buçuk



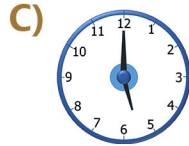

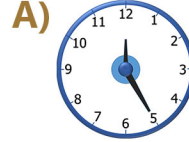
Saat dört buçuk



Saat ona çeyrek var.

4.

Yelkovanın 12, akrebin 5'i gösterdiği saat hangisidir?



5.



Yandaki analog saatin dijital gösterimi aşağıdakilerden hangisidir?



6.



Üstteki iki saat arasındaki zaman farkı hangi seçenekte doğru gösterilmiştir?

- A) Yarım saat      B) Bir saat  
 C) İki saat

## Zaman Ölçme (Tam, Yarım ve Çeyrek Saatler)

7.






Yandaki saatin 1 saat öncesi ve 1 saat sonrası aşağıdakilerden hangisi olabilir?

1 Saat Öncesi      1 Saat Sonrası

- A) 05.45      07.45  
 B) 06.45      07.45  
 C) 05.15      07.15




8.

Ayşe kitap okumaya başladığı zaman saat biri çeyrek geçiyordu. Okuması yarım saat sürdü. Buna göre Ayşe'nin okumayı bıraktığı zaman saat kaç gösteriyordu?

- A)       B)   
 C) 

9.




Aşağıdaki dijital saat ve okunuşlarından hangisi yanlıştır?

- A)       B)   
 Öğleden sonra üç çeyrek var.      Öğleden önce ona çeyrek var.  
 C) 


Öğleden önce dokuz buçuk

10.

Aşağıdaki saatlerden hangisi, analog saatte akrep ve yelkovanın üst üste geldiği anda oluşur?

- A)       B)   
 C) 

11.



Yandaki saat öğleden sonrası gösterdiğine göre saatle ilgili hangi bilgi doğrudur?

- A) Saat 17.15'tir.      B) Saat 05.15'tir.  
 C) Saat 17.30'dur.



12.

Akrep 8 ile 9 arasında ve yelkovan 6'nın üzerindeyken, akrep 9 ve yelkovan 12'nin üzerine geldiğinde kaç saat geçmiş olur?

- A) Yarım saat      B) Bir saat  
 C) Çeyrek saat

13.

Hüseyin sınıfa 15 dakika geç gelmiştir. Ders 08.30'da başladığına göre Hüseyin sınıfa geldiğinde saat kaçtı?

- A)       B)       C) 