

Türkçe (15), Hayat Bilgisi (15), Matematik (15) sorudan oluşmaktadır.

.....  
Seviyorsan canını,  
Vücuduna iyi bak.  
Kuvvetlendir kanını,  
İstersen çok yaşamak.

Vakitli yat, erken kalk,  
Çok dikkat et zamana.  
Ne güzeldir çalışmak,  
Dinçlik verir insana.

Sen yaşarsan bu vatan,  
Ancak yaşar, yükselir.  
Bunu bil, böyle inan,  
Varlık sağlıktan gelir.

Vehbi Cem AŞKUN

Altındaki iki soruyu, yukarıdaki şiire göre cevaplayınız.

1. Şiirin konusu nedir?

- A) Sağlık B) Vatan C) Zaman

2. Şiire göre vatanın geleceği neye bağlıdır?

- A) Zenginliğe B) Kişinin sağlıklı olmasına  
C) Güce

3. kelebek - karpuz - kiraz - kavun

Yukarıdaki sözcükler sözlük sırasına göre dizildiğinde hangi iki sözcük yan yana gelmez?

- A) karpuz-kavun B) kavun-kiraz  
C) kavun-kelebek

4. A) acemi → İşinde mesleğinde yeni olan kişi.  
B) şahit → Gördüğünü veya bildiğini anlatan kimse.  
C) cimri → Sadece kendini düşünen kimse.

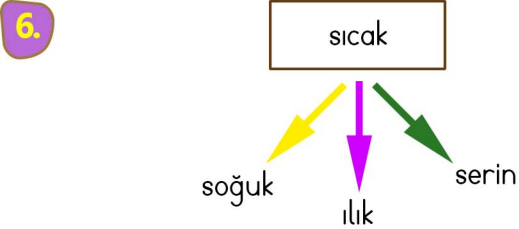
Yukarıdaki sözcük ve anlamları eşleştirmelerinden hangileri yanlıştır?

- A) A ve C B) B C) C

5. tören → merasim  
güç ↔ kuvvet

Yukarıdaki karşılıklı sözcüklerde bulunan anlam ilişkisi aşağıdaki hangi sözcük grubunda da vardır?

- A) masa ↔ örtü  
B) önder ↔ lider  
C) tutsak ↔ özgür



Hangi renk oku gösteren sözcük, sıcak sözcüğünün zıt anlamlısıdır?

- A) sarı B) mor C) yeşil

Türkçe (15), Hayat Bilgisi (15), Matematik (15) sorudan oluşmaktadır.

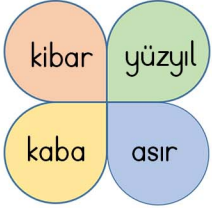
7.



Yukarıdaki görsellerde bulunan anlam ilişkisi, aşağıdaki sözcük gruplarının hangisinde de vardır?

- A) hızlı - yavaş      B) mektup - zarf  
C) yaşlı - ihtiyar

8.



Yan taraftaki görselden eş anlamlı sözcüklerin bulunduğu şekiller çıkarıldığında kalan şekillerin bulunduğu seçenek hangisidir?

- A)      B)      C)

9.

Yemekte ne yedin?  
Sinirlendim.  
Atatürk, yurdumuzu düşmanlardan

Yukarıdaki ifadelerden cümle olanları boyadığımızda hangi seçenek doğru olur?

- A)      B)      C)

10.

- çok (A)      biridir (B)      babam (C)  
zeki (D)

Yukarıdaki sözcüklerle kurallı ve anlamlı bir cümle yapıldığında 3. sözcük hangisi olur?

- A) A      B) B      C) D

11.

- Karnının aç olduğunu düşündü.  
 Sütü bir kaba döküp kedinin önüne koydu.  
 Ali, evinin önünde bir kedi gördü.  
 Evden bir şişe süt getirdi.

Yukarıdaki cümleleri olayların oluş sırasına göre numaralandırdığımızda doğru seçenek hangisi olur?

- A) ②      B) ①      C) ③  
④      ④      ④  
①      ③      ①  
③      ②      ②

12.

- Pazardan neler aldın?  
➤ Tatilde nereye gittin?  
➤ Ne zaman kalktın?

Aşağıdakilerden hangisi verilen soruların cevaplarından olamaz?

- A) Üzüm ve domates aldım.  
B) Ankara'ya gittim.  
C) Saatimi kurmayı unutmuşum.

13.

- ① Zaman      ② Kahraman      ③ Yer  
④ Ana fikri      ⑤ Hikayenin Adı

Yukarıdakilerden hangisi hikayeyi oluşturan unsurlardan değildir?

- A) 1      B) 3      C) 4

Türkçe (15), Hayat Bilgisi (15), Matematik (15) sorudan oluşmaktadır.

14. Aşağıdaki cümlelerin hangisinde yazım yanlış yapılmıştır?

- A) Aşşeler bugün bize gelecek.  
B) Sınıfımıza İzmirli bir kız geldi.  
C) Mehmet Türkçeyi çok güzel konuşuyor.

15.

kamb

gazte

tren

kirbit

gızartma

ekşi

Yukarıdaki sözcüklerden kaç tanesinin yazımı yanlıştır?

- A) 4 B) 5 C) 6

16.



★ Kısa boyludur.

■ Kıvrak saçlıdır.

● Şarkı söylemeyi sever.

Yukarıdaki özelliklerden hangileri fiziksel özelliktir?

- A) ★ B) ★ ■ C) ● ■

17. Parasını tutumlu kullanan Şura, aşağıdaki davranışlardan hangisini yapmaz?

- A) Harçlıklarının bir kısmını kumbarasında biriktirir.  
B) Alışverişte önce ihtiyaçlarını alır.  
C) Beslenme çantasında annesinin yaptığı kek varken kantinden farklı bir kek alır.

18.

★ Mahalle ismi

■ Binanın yapılış tarihi

● Binanın kaç katlı olduğu

Yukarıdaki bilgilerden hangileri ev adresimizde bulunur?

- A) ★ B) ★ ● C) ★ ■

19.



Yukarıda görseli verilen Murat'ın odasına bakarak ne söyleyebiliriz?

- A) Murat dağınık bir çocuktur.  
B) Murat düzenli bir çocuktur.  
C) Murat sorumluluklarını yerine getirir.

20.

- Mevsim değişikliğine göre vücudumuz farklı besinlere ihtiyaç duyar.  
 Mevsiminde tüketilen sebze ve meyvelerin besin değeri daha düşüktür.  
 Sebze ve meyveleri taze tüketmeliyiz.

Yukarıdaki ifadelerde doğru olanları "D" ve yanlış olanları "Y" şeklinde kodladığımızda hangi seçenek doğru olur?

- A)  D  D  Y  
 D  Y  D  
 Y  D  D

Türkçe (15), Hayat Bilgisi (15), Matematik (15) sorudan oluşmaktadır.

21. .... yetiştirilen meyve ve sebzeler  
..... tüketilenler kadar sağlıklı değildir.

Yukarıdaki cümlede boş bırakılan yerleri en uygun hangi sözcük ikilisiyle tamamlayabiliriz?

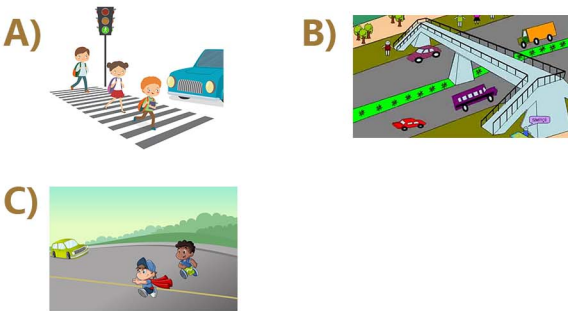
- A) Mevsiminde / Serada  
B) Bahçede / pazarda  
C) Serada / mevsiminde

22. ⚡ Toplu taşıma araçlarına sırayla binip inmeliyiz.  
⚡ Servis aracından kolumuzu dışarı sarkıtabiliriz.  
⚡ Sürücüyle sohbet edebiliriz.  
⚡ Taşıt hareket halindeyken ayakta durmamalıyız.

Yukarıdaki ifadelerden kaç tanesi doğrudur?

- A) 1 B) 2 C) 3

23. Aşağıdakilerden hangisi karşıdan karşıya geçilebilecek güvenli yerlerden biri değildir?



24. Aşağıdaki acil durum ve aranacak numara eşleştirmelerinden hangisi yanlış eşleştirilmiştir?

- A) Doğalgaz Patlama / 156  
B) Trafik Kazası / 112  
C) Yangın / 110

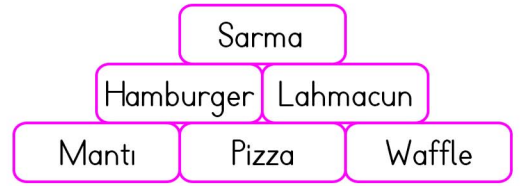
25.



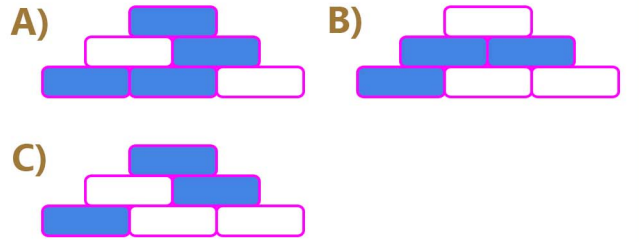
Başkentimiz üstteki haritaya göre kaç numaralı yerde bulunmaktadır?

- A) 1 B) 2 C) 3

26.



Yukarıdaki yemeklerden Türk kültürüne ait olanlar boyandığında hangi şekil oluşur?



27.

- ♥ İş Birliği  
♥ İnanırcılık  
♥ Kararlılık

Yukarıdakilerden hangileri Atatürk'ün lider olarak Milli Mücadele'de başarılı olmasını sağlamıştır?

- A) ♥ ♥ B) ♥ C) Hepsi

28.

Bitkilerin büyüüp gelişebilmesi için ..... ve ..... ihtiyaçları vardır.

Cümlede noktalı yerlere sırasıyla aşağıdakilerden hangileri gelmelidir?




- A) suya / havaya B) şeker / suya  
C) tuza / gübreye

Türkçe (15), Hayat Bilgisi (15), Matematik (15) sorudan oluşmaktadır.

29. Bazı meyve ve sebzeler soğuk hava şartlarına dayanıklı olduğu için ülkemizin pek çok yerinde yetişebilir.


Aşağıdaki meyvelerden hangisi bu gruba girmektedir?

- A) Muz B) Armut C) Portakal

30.  Yapılar dayanıklı inşa edilmelidir.  
 Evdeki ağır eşyalar duvara sabitlenmelidir.  
 Acil çıkış planı yapılmalıdır.

Yukarıda verilen hazırlıklar hangi doğal afete yönelik hazırlıklardır?

- A) Sel B) Yangın C) Deprem

31.  Cevizlerimin sayısı 4 onluk ile 5 onluk arasındadır. Birler basamağındaki rakam onlar basamağındaki rakamdan 2 eksiktir.

Ekrem'in verdiği bilgiye göre kaç cevizi vardır?

- A) 42 B) 24 C) 46

32. 

Yukarıdaki sayılar bir kurala göre dizilmiştir. Buna göre kurala uymayan sayının yerine hangi sayı yazılmalıdır?

- A) 69 B) 70 C) 72

33. 

Yukarıdaki sayılar en yakın olduğu onluklarla eşleştirilmiştir. Bu eşleştirmelerden kaç tanesi yanlıştır?

- A) 1 B) 2 C) 3

34. 8 birlik ve 4 onluktan oluşan sayıdan 1 düzine çıkarırsak sonuç kaç olur?

- A) 36 B) 38 C) 72

35. 256 sayısının birler ve onlar basamağındaki rakamların yerleri değiştirilerek oluşturulan yeni sayı ile eski sayının toplamı kaçtır?

- A) 782 B) 521 C) 512

36. 

Yukarıdaki çıkarma işlemine göre aşağıdaki bilgilerden hangisi doğrudur?

- A) Eksilen 25'tir.  
 B) Fark, çıkan sayıdan büyüktür.  
 C) Eksilen ile çıkan sayıyı topladığımızda 2 basamaklı bir sayı buluruz.

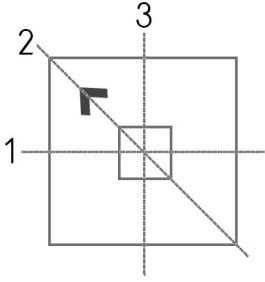
37. 

Aşağıdaki seçeneklerde bulunan hangi bilginin karşılığı sayı yukarıda yoktur?

- A) Üç basamaklı, rakamları farklı en küçük sayı  
 B) Üç basamaklı en büyük sayı  
 C) Üç basamaklı en küçük sayı

Türkçe (15), Hayat Bilgisi (15), Matematik (15) sorudan oluşmaktadır.

38.



Yandaki şekil kaç numaralı çizgiye göre simetriktir?

- A) 1      B) 2      C) 3

39.

$$\begin{aligned} \heartsuit \times 4 &= 20 \\ \heartsuit + \heartsuit &= 25 \end{aligned}$$

Yukarıdaki eşitliklere göre  $\heartsuit$  yerine yazılması gereken sayı kaçtır?

- A) 20      B) 5      C) 15

40.

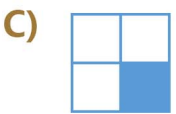
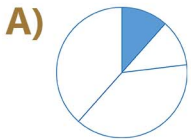
$$\begin{array}{r} AB \overline{) 5} \\ - 20 \overline{) 4} \\ \hline 00 \end{array}$$

Yandaki bölme işlemine göre A+B kaçtır?

- A) 2      B) 5      C) 9

41.

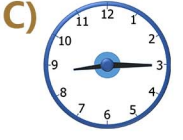

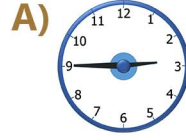
Aşağıdaki şekillerden hangisinin çeyreği boyalı değildir?



42.

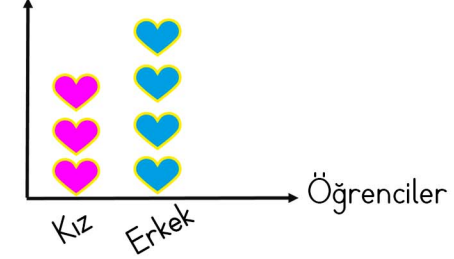
20:45

Yandaki dijital saatin analog gösterimi aşağıdakilerden hangisidir?



43.

Grafik: Sınıftaki Öğrenciler  
Öğrenci Sayısı



Sınıfta toplam 14 öğrenci olduğuna göre erkek öğrenci sayısı kaçtır?

- A) 6      B) 8      C) 10

44.

1 metrelik ipten her biri 5 cm olan 8 parça kesilirse geriye kaç cm ip kalır?

- A) 40cm      B) 60cm      C) 80cm

45.



Yukarıdaki meyvelerin bir örüntüye göre dizilmesi için hangi meyvelerin yerleri değiştirilmelidir?

