

Türkçe (15), Hayat Bilgisi (15), Matematik (15) sorudan oluşmaktadır.

1. kaplumbağa karpuz bez

Hangi renk kutuda alfabemizin ilk ve son harfi birlikte kullanılmıştır?

A) sarı B) mavi C) mor

2. spor-cu ar-a-ba il-ko-kul prog-ram

Yukarıdaki sözcüklerden kaç tanesi hecelerine doğru ayrılmıştır?

A) 1 B) 2 C) 3

3. Mide - Gazete - Marul

Yukarıdaki sözcükleri alfabetik sıralamaya göre dizdiğimizde 2.sıradaki sözcük hangisi olur?

A) Mide B) Gazete C) Marul

4. Tren ile Ankaraya gittik.

Yukarıdaki cümle ile seçeneklerdeki hangi cümlenin hece sayıları aynıdır?

- A) Arkadaşım ile ders çalıştık.
B) Kahvaltıda peynir yedim.
C) En sevdiğim meyve kirazdır.

5. 1 nem Hafif ıslaklık.

2 robot Programlanabilen cihazlardır.

3 yel Bir doğal afet türüdür.

Yukarıdaki sözcük ve anlamları eşleştirmelerinden hangisi yanlıştır?

A) 1 B) 2 C) 3

6. anı hatıra
süratli hızlı

Yukarıdaki karşılıklı sözcüklerde bulunan anlam ilişkisi aşağıdaki hangi sözcük grubunda da vardır?

A) masa örtü

B) muallim öğretmen

C) ıslak kuru

7. fakir
zengin yoksul dost

Hangi renk oku gösteren sözcük, fakir sözcüğünün zıt anlamlısıdır?

A) sarı B) mor C) yeşil

Türkçe (15), Hayat Bilgisi (15), Matematik (15) sorudan oluşmaktadır.

8. Yemekte ne yedin?
Sinirlendim.
Atatürk, yurdumuzu düşmanlardan

Yukarıdaki ifadelerden cümle olanları boyadığımızda hangi seçenek doğru olur?



9. akşam (A) gelecek (B) oyuncak (C)
misafir (D)

Yukarıdaki sözcüklerden anlamlı bir cümle yaptığımızda hangi sözcüğü kullanmayız?

- A) B B) C C) D

10. herkez ayle ahçı tren

Yukarıdaki sözcüklerin kaç tanesinde yazım yanlışı vardır?

- A) 2 B) 3 C) 4

11. "Ahmet okula koşarak gitti."

Yukarıdaki cümlede seçeneklerdeki hangi sorunun cevabı yoktur?

- A) Niçin? B) Nereye? C) Nasıl?

12. Birden yağmur yağmaya başladı.
 Yağmur durduğunda gezmeye devam ettik.
 Sığınacak bir yer bulduk.

Yukarıdaki cümleleri olayların oluş sırasına göre numaralandırdığımızda doğru seçenek hangisi olur?

- A) ① ③ ②
B) ② ③ ①
C) ③ ① ②

13. Atalarım gökten yere,
İndirmişler ay yıldızı.
Bir buluta sarmışlar ki,
Rengi şafaktan kırmızı.

Yukarıdaki şiirin ana duygusu hangisidir?

- A) Vatan sevgisi B) Bayrak sevgisi
C) Gökyüzü sevgisi

14. 1 Zaman 2 Kahraman 3 Yer
4 Sonuç 5 Hikayenin Adı

Yukarıdakilerden hangisi hikayeyi oluşturan unsurlardan değildir?

- A) 1 B) 3 C) 4

15. Aşağıdaki işaret ve anlamları eşleştirmelerinin hangisinde yanlışlık yapılmıştır?


- A)  Okul geçidi
B)  Hastane
C)  Durak

Türkçe (15), Hayat Bilgisi (15), Matematik (15) sorudan oluşmaktadır.

16.

Matematik defteri	Türkçe kitabı
Resim defteri	Kalem

Yukarıda verilenlerden matematik dersinde sıramızda olanları boyadığımızda hangi seçenek oluşur?



17.

- ★ Müdür → Okulu yönetir.
 ■ Öğretmen → Öğrencilere ders verir.
 ● Hizmetli → Öğrencilere rehberlik eder.

Yukarıdaki eşleştirmelerden hangileri doğrudur?

- A) ★ ■ B) ★ ●
 C) ★ ■ ●

18.


- ✓ Aile, anne, baba, dayı, hala ve çocuklardan oluşan topluluktur.
 ✓ Ailemizle birlikte dedemiz ve ninemiz de yaşayabilir.
 ✓ Komşumuz da ailemizin bir üyesidir.

Yukarıdaki bilgilerden kaç tanesi doğrudur?

- A) 1 B) 2 C) 3

19.

Aşağıdaki çocuklardan hangisi temel ihtiyacını karşılamıyor?



20.



Sağlıklı bir hayat için yukarıdakilerden hangileri yapılmalıdır?

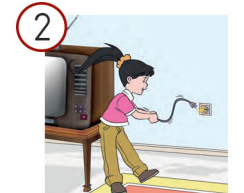

- A) 1 ve 2 B) 1, 2, 3 C) Yalnız 1

21.

Aşağıdaki ifadelerden hangisi yanlıştır?

- A) Uyku saatim geldiği halde ödevimi yapmadan yatmıyorum.
 B) Çok gerekli olmadıkça cep telefonu ile konuşmuyorum.
 C) Bilgisayarın başında uzun süre kalmıyorum.

22.



Yukarıdaki görsellerin hangilerinde güvenlik kurallarına dikkat edilmemektedir?

- A) 1 ve 3 B) Hepsi C) 2 ve 3

Türkçe (15), Hayat Bilgisi (15), Matematik (15) sorudan oluşmaktadır.

23. Aşağıdakilerden hangisinde tehlikeli bir yolculuk yapılmaktadır?



24. Yandaki görseldeki gibi bir olayla karşılaştığımızda önce hangi numarayı aramalıyız?



A) 155

B) 112

C) 110

25. ★ kasaba / köy / şehir
 ■ köy / kasaba / şehir
 ● köy / şehir / kasaba

Yukarıda verilen yerleşim yerleri, küçükten büyüğe hangi sembolde doğru sıralanmıştır?

A) ★

B) ■

C) ●

26. Hangi seçenekteki şehir - en çok yetiştirilen ürün eşleştirmesi yanlıştır?

A) Bursa - şeftali

B) Şanlıurfa - pamuk

C) Giresun - muz

27. Aşağıdakilerden hangisi dini bayramlarla ilgili değildir?

A) Komşular ve akrabalar ziyaret edilir.

B) Sınıflar süslenir.

C) Misafirlere ikram etmek için şeker, çikolata alınır.

28. Mustafa Kemal Atatürk doğdu.
 öldü.

Yukarıdaki cümlelerde boşlukları sırayla hangi sözcüklerle tamamlamalıyız?

A) Selanik'te / Dolmabahçe Sarayı'nda

B) Dolmabahçe Sarayı'nda / Anıtkabir'de

C) Selanik'te / Anıtkabir'de

29.



Yukarıdaki görsellerin kaç tanesinde çocukların bitki ve hayvanlara karşı doğru davranışı gösterilmiştir?

A) 1

B) 2

C) 3

30. Güneş Dünya'nın ısı ve ışık kaynağıdır.
 Güneş Dünya'dan küçüktür.
 Güneş, Dünya, Ay ve yıldızlar uzay adı verilen boşlukta yer alırlar.

Yukarıdaki bilgileri doğru(D) ve yanlış(Y) olarak işaretlediğimizde hangi seçenekteki görüntü oluşur?

A) D

B) D

C) D

D

Y

Y

D

Y

D

Türkçe (15), Hayat Bilgisi (15), Matematik (15) sorudan oluşmaktadır.

31. 16 □ □ □ 24

Yukarıdaki ileriye doğru ikişer ritmik saymada boş bırakılan kutulara hangi sayı yazılamaz?

- A) 18 B) 20 C) 21

32. 21 18 29 45 11 60

Yukarıdaki sayıları büyükten küçüğe sıraladığımızda 2.sıradaki sayı hangisi olur?

- A) 60 B) 45 C) 18

33. 5 birlik ve 4 onluktan oluşan sayının 5 fazlası kaçtır?

- A) 50 B) 59 C) 41




Emel kırtasiyeden 15 TL'ye hikaye kitabı almak istiyor. Kaç TL daha biriktirmesi gerekiyor?

- A) 2TL B) 5TL C) 7TL

35. Ersin 17 yaşındadır. Mehmet Ersin'den 8 yaş büyüktür. Ayşe de Mehmet'ten 6 yaş küçük olduğuna göre Ayşe kaç yaşındadır?

- A) 25 B) 31 C) 19



Yukarıdaki çeyrek elmalar kaç bütün elma eder?

- A) 2 B) 3 C) 4

EKİM						
Pt	Sa	Ça	Pe	Cu	Ct	Pa
				1	2	3
4	5	6	7	8	9	10
11	12	13	14	15	16	17
18	19	20	21	22	23	24
25	26	27	28	29	30	31

Aşağıdaki 3 soruyu yukarıdaki takvime göre cevaplayın.

37. 23 Ekim günü hangi güne denk gelmektedir?

- A) Cuma B) Cumartesi C) Pazar

38. Ekim ayının ilk ve son günleri hangi seçenekte doğru verilmiştir?


- A) Pazartesi / Pazar B) Cumartesi / Pazar
C) Cuma / Pazar

39. Ekim ayında kaç tane cuma günü vardır?

- A) 4 B) 5 C) 6

Türkçe (15), Hayat Bilgisi (15), Matematik (15) sorudan oluşmaktadır.


40.



Yandaki saatin 5 buçuğu göstermesi için akrep ve yelkovanı hangi rakam üzerine çizilmesi gerekir?

- A) Akrep 4 ve 5'in arasına
Yelkovan 6'nın üzerine
- B) Yelkovan 5 ve 6'nın arasına
Akrep 12'nin üzerine
- C) Akrep 5 ve 6'nın arasına
Yelkovan 6'nın üzerine

41.



Yukarıdaki geometrik şekillerden hangilerinin kenar sayıları aynıdır?

- A) B) C)

42.

Aşağıdakilerden hangisi bir örüntü oluşturmaz?

- A)
- B)
- C)

43.

Murat ve Ali, evleri ile garajın arasını adımlarıyla ölçüyorlar. Murat 23 adım, Ali 20 adım ölçüyor. Buna göre aşağıdaki hangi ifade doğrudur?

- A) Alinin adımı Murat'ın adımından daha uzundur.
- B) Murat'ın adımı Alinin adımından daha uzundur.
- C) İkisinin de adımları aynı uzunluktadır.

Tablo : En Sevilen Meyveler

Meyve Adı	Sayısı
Erik	7
Ayva	4
Çilek	9
Kiraz	16

Aşağıdaki 2 soruyu üstteki tabloya göre cevaplayınız.

44.

En çok sevilen meyve ve en az sevilen meyve sırasıyla hangi seçenekte verilmiştir?

- A) Ayva / Çilek B) Erik / Kiraz
- C) Kiraz / Ayva

45.

Kirazı sevenlerin sayısı erik sevenlerin sayısından kaç fazladır?

- A) 7 B) 9 C) 12