













Adı Soyadı :











Numarası :

Konu: Ritmik Saymalar Etkinliği 4

Aşağıda verilen sayıdan başlayarak altışar ritmik sayma yaparak kutulara yazınız.

 6	 ...	 ...	 ...	 ...
 ...	 ...	 ...	 ...	 ...

Aşağıda verilen sayıdan başlayarak yedişer ritmik sayma yaparak kutulara yazınız.

 7	 ...	 ...	 ...	 ...
 ...	 ...	 ...	 ...	 ...

Altışar ritmik sayarken aşağıda verilen sayılardan bir önce ve bir sonra söylediğimiz sayıları yazınız.

12	...	24
42	...	54
30	...	42

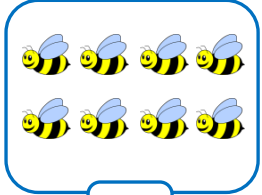









...	12	...
...	60	...
...	48	...

Yedişer ritmik sayarken aşağıda verilen sayılardan bir önce ve bir sonra söylediğimiz sayıları yazınız.











21	...	35
63	...	77
42	...	56

...	14	...
...	42	...
...	49	...

Aşağıda verilen sayıdan başlayarak sekizer ritmik sayma yaparak kutulara yazınız.

 8	 ...	 ...	 ...	 ...
 ...	 ...	 ...	 ...	 ...

Aşağıda verilen sayıdan başlayarak dokuzar ritmik sayma yaparak kutulara yazınız.

 9	 ...	 ...	 ...	 ...
 ...	 ...	 ...	 ...	 ...

Sekizer ritmik sayarken aşağıda verilen sayılardan bir önce ve bir sonra söylediğimiz sayıları yazınız.

16	...	32	...	16	...
72	...	88	...	64	...
40	...	54	...	88	...
32	...	48	...	54	...

Dokuzar ritmik sayarken aşağıda verilen sayılardan bir önce ve bir sonra söylediğimiz sayıları yazınız.

27	...	45	...	99	...
81	...	99	...	81	...
18	...	36	...	36	...
54	...	72	...	18	...

Aşağıdaki yüzlük tablolarda renkli gösterilen sayılardan başlayarak ritmik saymalar yapalım. Söylediğimiz sayıların kutularını boyayalım.

Altışar ritmik sayma

1	2	3	4	5	6	7	8	9	10
11	12	13	14	15	16	17	18	19	20
21	22	23	24	25	26	27	28	29	30
31	32	33	34	35	36	37	38	39	40
41	42	43	44	45	46	47	48	49	50
51	52	53	54	55	56	57	58	59	60
61	62	63	64	65	66	67	68	69	70
71	72	73	74	75	76	77	78	79	80
81	82	83	84	85	86	87	88	89	90
91	92	93	94	95	96	97	98	99	100

Yedişer ritmik sayma

1	2	3	4	5	6	7	8	9	10
11	12	13	14	15	16	17	18	19	20
21	22	23	24	25	26	27	28	29	30
31	32	33	34	35	36	37	38	39	40
41	42	43	44	45	46	47	48	49	50
51	52	53	54	55	56	57	58	59	60
61	62	63	64	65	66	67	68	69	70
71	72	73	74	75	76	77	78	79	80
81	82	83	84	85	86	87	88	89	90
91	92	93	94	95	96	97	98	99	100

Sekizer ritmik sayma

1	2	3	4	5	6	7	8	9	10
11	12	13	14	15	16	17	18	19	20
21	22	23	24	25	26	27	28	29	30
31	32	33	34	35	36	37	38	39	40
41	42	43	44	45	46	47	48	49	50
51	52	53	54	55	56	57	58	59	60
61	62	63	64	65	66	67	68	69	70
71	72	73	74	75	76	77	78	79	80
81	82	83	84	85	86	87	88	89	90
91	92	93	94	95	96	97	98	99	100

Dokuzar ritmik sayma

1	2	3	4	5	6	7	8	9	10
11	12	13	14	15	16	17	18	19	20
21	22	23	24	25	26	27	28	29	30
31	32	33	34	35	36	37	38	39	40
41	42	43	44	45	46	47	48	49	50
51	52	53	54	55	56	57	58	59	60
61	62	63	64	65	66	67	68	69	70
71	72	73	74	75	76	77	78	79	80
81	82	83	84	85	86	87	88	89	90
91	92	93	94	95	96	97	98	99	100

1)

on sekiz, yirmi dört, otuz, otuz
altı,

Yukarıdaki ritmik sayma sıra hangi sayıdadır?

- A) kırk iki
- B) kırk dört
- C) kırk sekiz

2) Aşağıdaki ritmik saymalardan hangisi
doğrudur?

- A) 11, 21, 31, 42, 52, 62
- B) 14, 24, 34, 44, 54, 64
- C) 15, 25, 35, 55, 65, 75

3)

24	32	40	48	56	★
36	45	54	63	▲	81

Yukarıdaki ritmik saymalarda "★" ve "▲"
yerine hangi sayılar gelmelidir?

★ ▲

- A) 62 72
- B) 60 73
- C) 64 72

4) 140'den başlayıp 300'e kadar onar ritmik
sayarken kaç sayı söyleriz? (140 ve 300 dahildir)

- A) 16
- B) 17
- C) 18

5)

21	28	35	42		56
----	----	----	----	--	----

Yukarıdaki ritmik saymada boş kutuya, hangi
sayı yazılmalıdır

- A) 49
- B) 54
- C) 63

6) Yüzer ritmik sayarken 425'ten bir önce ve bir
sonra söylenen sayılar hangileridir?

- A) 225 - 525
- B) 325 - 525
- C) 425 - 625

7) Aşağıda sayı örüntülerinden hangisi, ritmik
sayma yapılarak oluşturulmamıştır?

- A) 13, 20, 27, 34, 41, 48
- B) 34, 43, 52, 61, 70, 79
- C) 41, 49, 57, 64, 73, 81

8)

1.	2.	3.	4.	5.	6.

9'den başlayıp ileriye doğru 8'er ritmik sayma
yaparak kutuların içine yazılıyor. 3. ve 5.
kutulara yazılan sayıların toplamı kaçtır?

- A) 63
- B) 66
- C) 72