

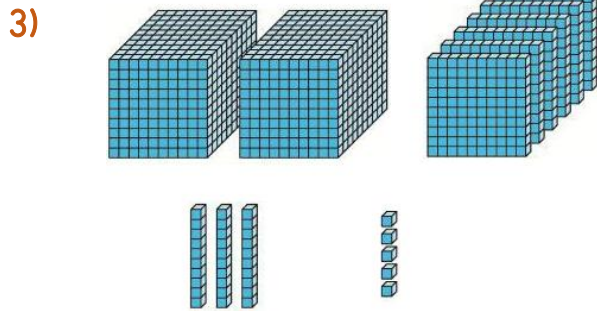
1) Okunuşu " Yetmiş sekiz bin üç yüz elli " olan sayı aşağıdakilerden hangisidir?

- A) 7 835 B) 70 853
C) 78 350 D) 708 305



74 378 sayısı abaküste modellenirken hangi basamaktaki toplar eksik çizilmiştir?

- A) Onlar Bas. B) Yüzler Bas.
C) Binler Bas. D) Onbinler Bas.



Taban bloklarıyla yukarıda modellenen sayı aşağıdakilerden hangisidir?

- A) 20 635 B) 2 635
C) 22 653 D) 5 362

4)

65 043	10 505	5 387
9 575	365 961	562 155

Yukarıdaki tabloda, binler basamağında 5 olan sayıları boyarsak ortaya nasıl bir şekil çıkar?

- A) B)
C) D)

5) Aşağıdaki sayılardan hangisinin okunuşu yanlış yazılmıştır?


- A) 86 054 → Seksen altı bin elli dört
B) 30 162 → Otuz bir bin altmış iki
C) 91 305 → Doksan bir bin üç yüz beş
D) 46 517 → Kırk altı bin beş yüz on yedi

6)

624 903

Yukarıdaki sayıyla ilgili aşağıdaki bilgilerden hangisi yanlıştır?

- A) Altı basamaklı bir sayıdır.
B) 4 rakamı binler basamağındadır.
C) 2 rakamı yüz binler basamağındadır.
D) 0 rakamı onlar basamağındadır.



Yukarıda Samsun'un bazı ilçeleri ve nüfus sayıları verilmiştir. Buna göre bu ilçelerden en kalabalık nüfus hangisindedir?

- A) Havza B) Terme
C) Ayvack D) Canik

8) Aşağıdaki sayılardan hangisi dört basamaklı bir doğal sayı değildir?

- A) Altmış bin seksen dört
B) Bin dört yüz elli üç
C) Dokuz bin sekiz yüz on
D) Üç bin beş yüz

9)





8.....62

Yukarıdaki sayının okunuşu " sekiz yüz elli dört bin yedi yüz altmış iki " olduğuna göre noktalı alanda aşağıdaki rakamlardan hangisi yoktur?

- A) 7 B) 4
C) 0 D) 5



Her biri bir meyve ile eşleştirilen sayılardan hangisinin okunuşu doğrudur?

- A)  B) 
C)  D) 

11) Kırk yedi bin iki yüz elli

Yukarıdaki noktalı alana aşağıdaki sayılardan hangisi gelebilir?

- A) Otuz B) Beş yüz
C) Sekiz bin D) Altı

12) Aşağıda abaküslerde modellenen sayılardan hangisi en küçüktür?

