




Adı Soyadı : .....

Numarası : .....


Konu: Tahmin Edelim Etkinliği

Aşağıda verilen nesnelerin sayısını tahmin ediniz. Tahmininizi sayarak kontrol ediniz.




Tahminim : .....

Gerçek sonuç : .....




Tahminim : .....

Gerçek sonuç : .....




Tahminim : .....

Gerçek sonuç : .....




Tahminim : .....

Gerçek sonuç : .....




Tahminim : .....

Gerçek sonuç : .....




Tahminim : .....

Gerçek sonuç : .....




Tahminim : .....

Gerçek sonuç : .....



Tahminim : .....

Gerçek sonuç : .....



Tahminim : .....

Gerçek sonuç : .....

1) Ağaçtaki elmaların sayısını tahmin ediniz. Tahmininizi sayarak kontrol ediniz.



Tahminim : .....

Tahminim : .....

Tahminim : .....

Gerçek sonuç : .....

Gerçek sonuç : .....

Gerçek sonuç : .....

2) Sınıftaki öğrencilerin sayısını tahmin ediniz. Tahmininizi sayarak kontrol ediniz.



Tahminim : .....

Tahminim : .....

Tahminim : .....

Gerçek sonuç : .....

Gerçek sonuç : .....

Gerçek sonuç : .....

3) Kalemlerin sayısını tahmin ediniz. Tahmininizi sayarak kontrol ediniz.



Tahminim : .....

Tahminim : .....

Tahminim : .....

Gerçek sonuç : .....

Gerçek sonuç : .....

Gerçek sonuç : .....