

3 onluk ve 8 birlikten oluşan sayı aşağıdakilerden hangisidir?

Ece'nin sorusunun cevabı aşağıdakilerden hangisidir?

- A) 28 B) 38 C) 83

2) 4 onluk 8 birlikten oluşan sayıdan bir önce ve bir sonra gelen sayılar hangi seçenekte doğru verilmiştir?

- A) 47-49 B) 47-50 C) 46-49

3) Aşağıdaki öğrencilerden hangisi sayının onluk ve birliklerini yanlış söylemiştir?




- A)  77 sayısında 7 onluk, 7 birlik vardır.
- B)  55 sayısında 5 onluk, 5 birlik vardır.
- C)  20 sayısında 2 onluk, 2 birlik vardır.






Yukarıdaki çiçeklerin sayısının 1 onluk olabilmesi için kaç tane daha çiçek gereklidir?

- A) 2 B) 1 C) 3

5)

2 onluk 9 birlik = 
 7 onluk 7 birlik = 
 5 onluk 5 birlik = 

Yukarıdaki eşleştirmelerden hangisi doğrudur?

- A)  20 B)  77 C)  50

6) Aşağıdaki sporculardan hangisinin forma numarası 2 onluktan oluşmaktadır?



7)

3	4
.....

Noktalı bölüme aşağıdakilerden hangileri yazılmalıdır?

- A)

3	4
3 birlik	4 birlik
- B)

3	4
3 onluk	4 birlik
- C)

3	4
4 onluk	3 birlik

8)



Aslı

81 sayısında 7 onluk,7 birlik vardır.



Sedat

67 sayısında 6 onluk,7 birlik vardır.



Cemal

74 sayısında 7 onluk,4 birlik vardır.

Yukarıdaki öğrencilerden hangisinin söylediği yanlıştır?

- A) Aslı B) Cemal C) Sedat

9)

Onluk	Birlik
.....	5
otuzbeş	


Noktalı bölüme aşağıdakilerden hangisi yazılmalıdır?

- A) 35 B) 30 C) 3

10) Aşağıdaki sayılardan hangisinin onluk sayısı diğerlerinden fazladır?

- A) 35 B) 55 C) 45

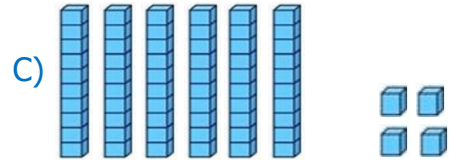

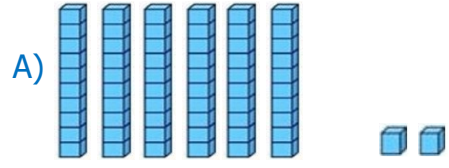
11)



Kutuların içerisindeki yumurta sayısı aşağıdakilerden hangisidir?

- A) 21 B) 20 C) 22

12) "Altmış dört" sayısı hangi seçenekte taban blokları ile modellenmiştir?



13)

67	6 onluk 7 birlik
12	2 onluk 1 birlik
62	6 onluk 2 birlik

Hangi renk kutudaki sayıların onluk ve birlikleri yanlış eşleştirilmiştir?

- A) B) C)

14) Üç onluk ve beş birlikten oluşan sayı aşağıdakilerden hangisidir?

- A) B) C)

15) Aşağıdaki sayılardan hangisinin okunuşu yanlış verilmiştir?

- A)

21
Yirmi bir

 B)

22
Yirmi iki

 C)

21
Yirmi üç