

Adı Soyadı : .....

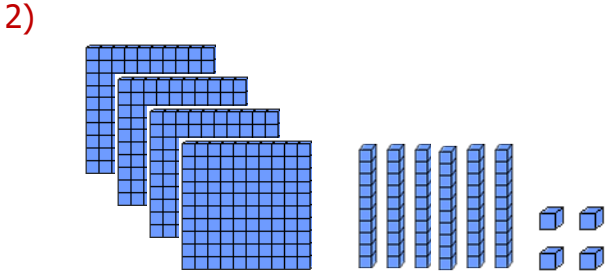
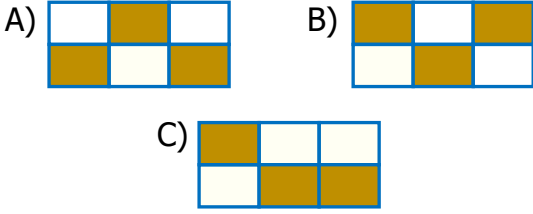
Numarası : .....

Konu: En Yakın Onluğa ve Yüzlüğe Yuvarlama

1)

247	236	234
244	245	241

Tabloda en yakın onluğa yuvarlandığında 240 olan sayıların bulunduğu kutucuklar boyanırsa hangi şekil oluşur?



Taban bloklarıyla gösterilen sayının en yakın yüzlüğe yuvarlanmış hali hangisidir?

A) 400 B) 500 C) 600

3)


264 → 260  
442 → 440  
375 → 370

Sayıardan kaç tanesi en yakın onluğa yuvarlanmıştır?

A) 1 B) 2 C) 3

4) 6, 1, 4 rakamlarını kullanarak oluşabilecek en büyük üç basamaklı sayının, en yakın yüzlüğe yuvarlandığında aşağıdaki sayılardan hangisini elde ederiz?

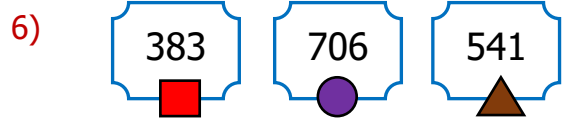
A) 600 B) 700 C) 400



Arı, en Yakın onluğun olduğu çiçeğe konmak istiyor.




Bu çiçek aşağıdakilerden hangisidir?

A)  B)  C) 



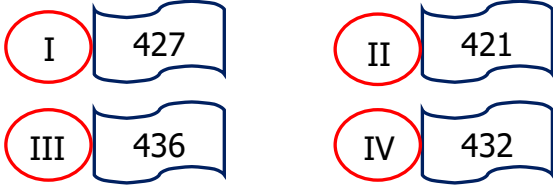
Yukarıdaki sayılar en yakın onluğa yuvarlandığında şekilleri oluşuyor.

Buna göre , , , sayıları hangi seçenekte doğru verilmiştir?

A)  380     710     550  
B) 370    710    540  
C) 380    710    540

7) Birler basamağı 2, onlar basamağı 6, yüzler basamağı 3 olan sayının yüzlüğe yuvarlanmış hali hangisidir?

- A) 300  
B) 400  
C) 600

8) 

Yukarıdaki sayılardan hangilerinin en yakın onluğa aynı sayıdır?

- A) I ve IV      B) I ve III      C) I ve II

9)

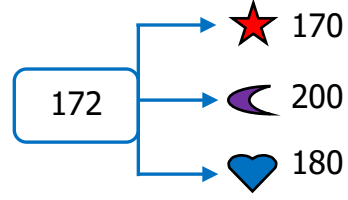


Esmâ'nın satın aldığı bisikletin fiyatı en yakın onluğa yuvarlandığında 860 TL oluyor.

Esmâ, bisikleti için en çok kaç TL ödemiştir?

- A) 853  
B) 854  
C) 855

10)



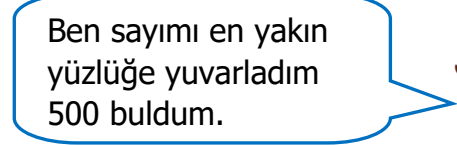
172 sayısının en yakın onluğa hangi sembolle ifade edilmiştir?

- A) ★      B) ☾      C) ♥

11)



Ben sayımı en yakın onluğa yuvarladım 470 buldum.



Ben sayımı en yakın yüzlüğe yuvarladım 500 buldum.

Ela ve Kemal aşağıdaki sayılardan hangisi ile işlem yapmış olamaz?

- A) 466      B) 465      C) 464

12)



Arda

İki yüz on üç



Veli

İkiz yüz on sekiz

İkiz yüz yirmi beş



Ecrin

Yukarıdaki öğrencilerden hangisinin söylediği sayının en yakın onluğa 220'dir ?

- A) Arda      B) Ecrin      C) Veli