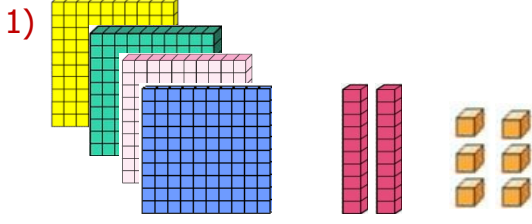


Konu: Basamak Adları ve Basamak Değeri

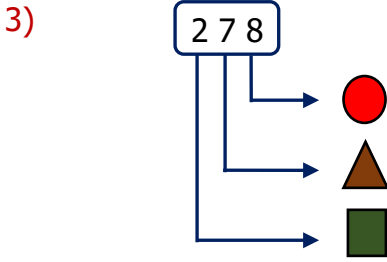


Yukarıda modellenen sayının yüzler basamağındaki rakam kaçtır?

- A) 4 B) 2 C) 6

2) Aşağıdaki doğal sayıların hangisinde "7" rakamının basamak değeri 70'tir?

- A) 267 B) 476 C) 703



Yukarıdaki tabloya göre yüzler basamağını gösteren şekil aşağıdakilerden hangisidir?

- A) B) C)

4) Yandaki basamak değerleri verilen sayı aşağıdakilerden hangisidir?

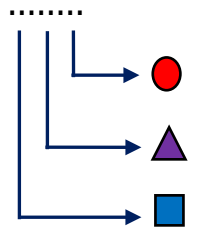
2	500	70
---	-----	----

- A) 572 B) 527 C) 257

5) 7 yüzlük ve 7 onluktan oluşan sayı aşağıdakilerden hangisidir?

- A) 707 B) 770 C) 777

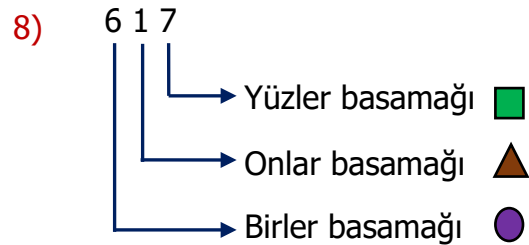
6) Ece'nin basamak değerlerini yazmak istediği sayının okunuşu "361"dir. Buna göre yerine aşağıdakilerden hangisini yazmalıdır?



- A) 60 B) 30 C) 1

7) 826 sayısının yüzler basamağını 3 azaltıp birler basamağını 2 artırdığımızda elde edilen sayı aşağıdakilerden hangisi olur?

- A) 559 B) 528 C) 853



Yukarıdaki basamak tablosunun doğru olabilmesi için hangi sembollere ait bilgiler yer değiştirmelidir?

- A) - B) - C) -

9)

384

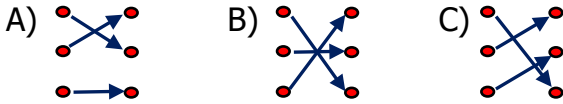
Yukarıdaki sayı için verilen bilgilerden hangisi doğrudur?

- A) 3 onluğu vardır.
- B) 8 yüzlüğü vardır.
- C) 4 birliği vardır.

10)

3 yüzlük 5 onluk	•	•	270
6 yüzlük 4 birlik	•	•	604
2 yüzlük 7 onluk	•	•	350

Yukarıdaki eşleştirildiğinde doğru yapıldığında oklar nasıl görünür?










- 11) → Yüzler basamağındaki rakam 3'ten küçüktür.
- Birler basamağında 8 rakamı vardır.
- Onlar basamağındaki rakam 4'ten büyüktür.







Yukarıda verilen bilgiler aşağıdaki sayılardan hangisine aittir?



- A) 258
- B) 176
- C) 238


12) 561 ve 159 sayılarındaki "5" rakamının basamak değerleri toplamı kaçtır?

- A) 550
- B) 500
- C) 505

13)    üç basamaklı bir doğal sayıdır.  ve  yerine yazılması gereken rakamların basamak değerleri toplamı 308 ise  ve  yerine yazılması gereken rakamlar aşağıdakilerden hangisidir?

- A)  = 8  = 3
- B)  = 3  = 8
- C)  = 300  = 8

14) " 4 

" üç basamaklı doğal sayısının rakamları toplamı 18'dir. Yüzler ve birler basamağındaki rakamlar aynı olduğuna göre,  yerine aşağıdakilerden hangisi yazılmalıdır?

- A) 5
- B) 6
- C) 7

15)



Tablet fiyatının altı çizili olan rakamının basamak değeri aşağıdakilerden hangisidir?

- A) 900
- B) 90
- C) 9