



Adı Soyadı : .....

Numarası : .....

## Konu: En yakın Onluğa ve Yüzlüğe Yuvarlama Etkinliği

Aşağıdaki sayıları örnekteki gibi en yakın onluğa yuvarlayalım.

Sayı	Sembol ( $<$ , $>$ , $=$ )	En Yakın Onluğa
57	$7 > 5$	60
42		
65		
81		
98		
126		
135		
282		
496		

Aşağıdaki sayıların en yakın onluğa yuvarlanmış halini işaretleyelim.

Bulunduğu onluğa	Sayı	Sonraki Onluğa
20	23	30
50	58	60
70	75	80
80	82	90
120	123	130
180	188	190
200	204	210
350	358	360
470	475	480




Aşağıdaki sayıları örnekteki gibi en yakın yüzlüğe yuvarlayalım.


Sayı	Sembol (<, >, =)	En Yakın Yüzlüğe
142	$42 < 50$	100
166		
224		
285		
311		
398		
406		
582		
629		
750		

Aşağıdaki sayıların en yakın yüzlüğe yuvarlanmış halini işaretleyelim.

Bulunduğu Yüzlüğe	Sayı	Sonraki Yüzlüğe
100	156	200
200	250	300
300	348	400
400	463	500
400	427	500
500	550	600
600	699	700
700	733	800
700	780	800
800	815	900

1) hangi öğrenci verilen doğal sayının en yakın onluğunu yanlış söylemiştir?

- A)  elli 
- B)  yetmiş 
- C)  seksen 



Yukarıdaki panoya en yakın yüzlüğe yuvarlandığında 400 olan bir sayı yazılacaktır. Panoya yazılacak sayı aşağıdakilerden hangisi olamaz?

- A) 367      B) 452      C) 437




3)  $48\blacktriangle$  sayısının en yakın onluğu 480'dir. Buna göre  $\blacktriangle$  ile gösterilen rakam, aşağıdakilerden hangisi olamaz?

- A) 2      B) 5      C) 4

4) 624 sayısından bir sonra gelen sayının en yakın onluğu ve yüzlüğü hangi seçenekte birlikte verilmiştir?

- A) 620  $\rightarrow$  600  
B) 630  $\rightarrow$  700  
C) 630  $\rightarrow$  600

5) Yukarıdaki öğrencilerden hangisinin söylediği sayının en yakın onluğu 730'dur?

- A)  
- B)  
- C)  

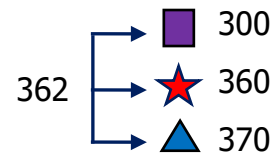
6) Aşağıdaki hangi iki sayı 500 sayısına yuvarlanmış en küçük ve en büyük doğal sayılardır?

- A) 450 - 549  
B) 451 - 550  
C) 450 - 550

7) Hangi doğal sayıyı en yakın yüzlüğe yuvarladığımızda 700 sayısını buluruz?

- A)       B)       C)

8)



362 sayısının en yakın onluğu hangi sembole ifade edilmiştir?

- A)   $\blacksquare$       B)   $\star$       C)   $\blacktriangle$