

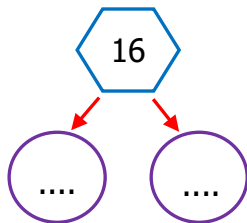
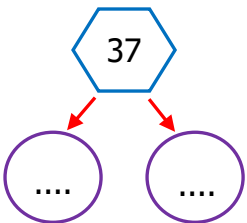
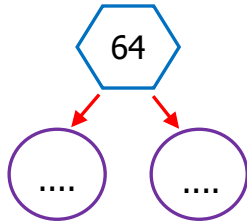
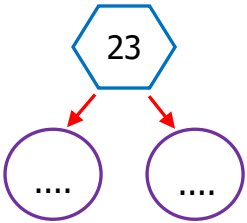
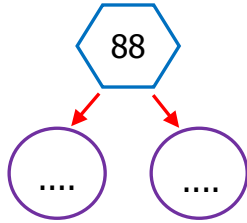
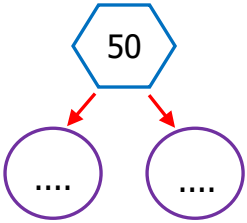
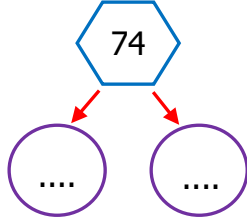
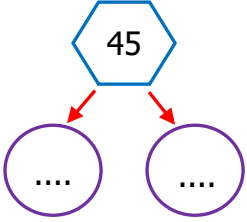
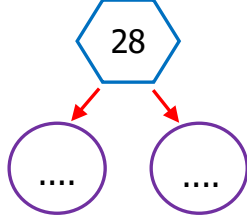
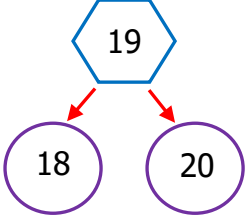


Adı Soyadı :

Numarası :

Konu: Doğal Sayıları Karşılaştırma ve Sıralayalım

Aşağıda verilen sayılardan 1 önce ve 1 sonra gelen sayıları örnekteki gibi yazalım.



Aşağıdaki noktalı yerlere "küçüktür, büyüktür ve eşittir" sözcüklerinden uygun olanını ve yandaki kutularada örnekteki gibi sembollerini yazınız.

36 büyüktür 27'den →

36 > 27

51 32'den →

51 32

23 23'e →

23 23

68 71'den →

68 71

35 39'dan →

35 39

81 75'ten →

81 75

98 89'dan →

98 89

41 41'e →

41 41

40 55'ten →

40 55

63 28'den →

63 28

Aşağıda verilen sayılardan en küçük olanı kareye, en büyük olanı daireye yazınız.

56	29
64	48

...	...
-----	-----

30	41
73	88

...	...
-----	-----

25	76
38	52

...	...
-----	-----

19	24
32	13

...	...
-----	-----

36	40
57	29

...	...
-----	-----

86	41
95	58

...	...
-----	-----

70	82
46	24

...	...
-----	-----

29	49
59	39

...	...
-----	-----

62	38
44	51

...	...
-----	-----

86	77
67	39

...	...
-----	-----

Aşağıda verilen sayıları küçükten büyüğe doğru sembol kullanarak noktalı yerlere sıralayınız.

45, 34, 72, 56
----------------	-------

31, 53, 60, 26
----------------	-------

50, 47, 72, 16
----------------	-------

21, 42, 36, 54
----------------	-------

91, 89, 79, 90
----------------	-------

Aşağıda verilen sayıları büyükten küçüğe doğru sembol kullanarak noktalı yerlere sıralayınız.

37, 22, 41, 35
----------------	-------

53, 46, 77, 47
----------------	-------

15, 28, 32, 19
----------------	-------

88, 97, 69, 80
----------------	-------

64, 34, 43, 71
----------------	-------

33, 40, 61, 43
----------------	-------