



Adı Soyadı : .....

Numarası : .....

Konu: İleriye ve Geriye Ritmik Sayalım Etkinliği

Verilen sayılardan sonra birer ritmik sayma sayalım yazalım.

|       |       |       |       |       |       |       |       |       |       |
|-------|-------|-------|-------|-------|-------|-------|-------|-------|-------|
| 1     | 11    | ..... | ..... | ..... | 51    | ..... | ..... | ..... | ..... |
| ..... | ..... | 22    | ..... | ..... | ..... | 62    | ..... | ..... | ..... |
| ..... | ..... | ..... | ..... | ..... | ..... | ..... | 73    | ..... | ..... |
| ..... | ..... | ..... | 34    | ..... | ..... | ..... | ..... | 84    | ..... |
| ..... | 15    | ..... | ..... | ..... | ..... | ..... | ..... | ..... | ..... |
| ..... | ..... | ..... | ..... | 46    | ..... | ..... | ..... | ..... | ..... |
| ..... | ..... | ..... | ..... | ..... | ..... | ..... | ..... | ..... | ..... |
| ..... | ..... | ..... | ..... | ..... | 58    | ..... | ..... | ..... | ..... |
| ..... | ..... | 29    | ..... | ..... | ..... | ..... | ..... | ..... | 99    |
| 10    | ..... | ..... | 40    | ..... | ..... | ..... | ..... | 90    | ..... |

Verilen sayılardan başlayarak geriye doğru birer birer ritmik sayma yazalım.

8 → (.....) → (.....) → (.....) → (.....) → (.....) → (.....) → (.....) → (.....)

15 → (.....) → (.....) → (.....) → (.....) → (.....) → (.....) → (.....) → (.....)

20 → (.....) → (.....) → (.....) → (.....) → (.....) → (.....) → (.....) → (.....)

Tabaktaki elmaları ikişer ileriye doğru ritmik sayma ile sayalım. Altındaki boş bırakılan kutuları dolduralım.



2



.....



.....



.....



.....



.....



.....



.....



.....



.....

Aşağıda verilen sayıdan başlayarak ikişer ikişer geriye doğru sayıp yazınız.



20

.....

.....

.....

.....


.....

.....

.....

.....

.....



Tabaktaki çilekleri üçerli ileriye doğru ritmik sayma ile sayalım. Altındaki noktalı yerlere yazalım.



3



.....



.....



.....



.....



.....



.....



.....





.....

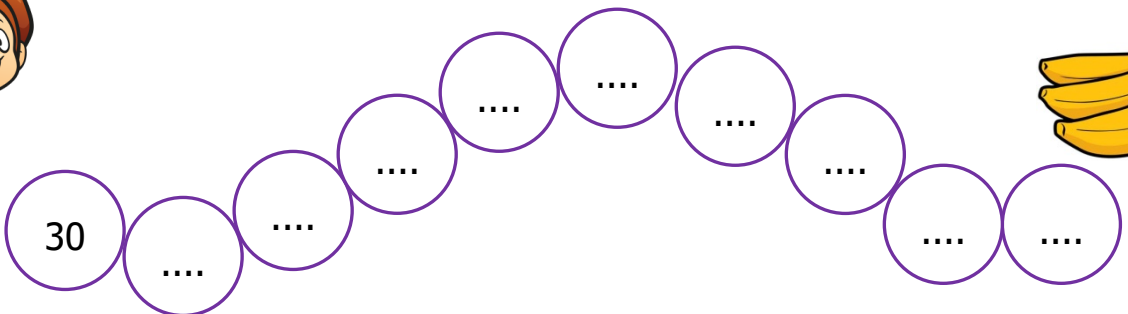



.....


Verilen sayılardan başlayarak ileriye doğru üçer ritmik sayma yazalım.



Aşağıda verilen sayıdan başlayarak geriye doğru üçer ritmik sayıp yazınız.



Kalemleri dörderli ileriye doğru ritmik sayma ile sayalım. Altındaki noktalı yerlere yazalım.



3




.....




.....



.....



.....



.....




.....



.....



.....

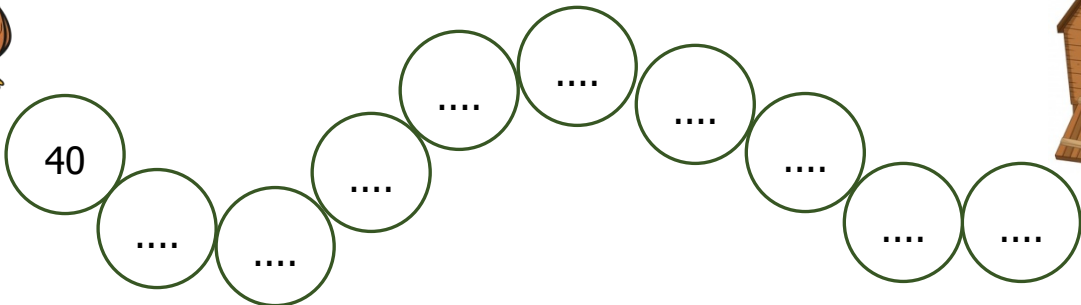


.....

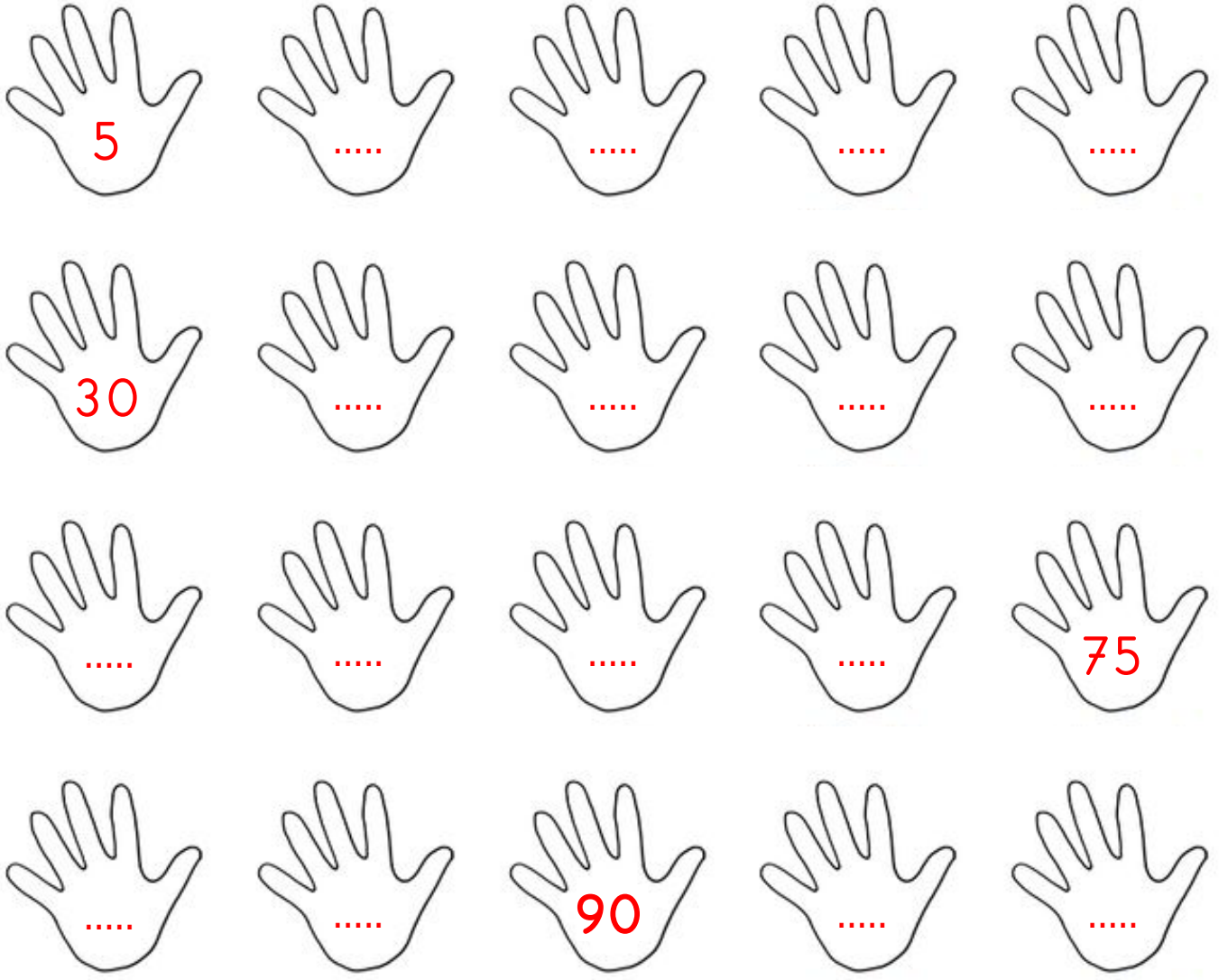
Verilen sayılardan başlayarak ileriye doğru dörder ritmik sayma yazalım.



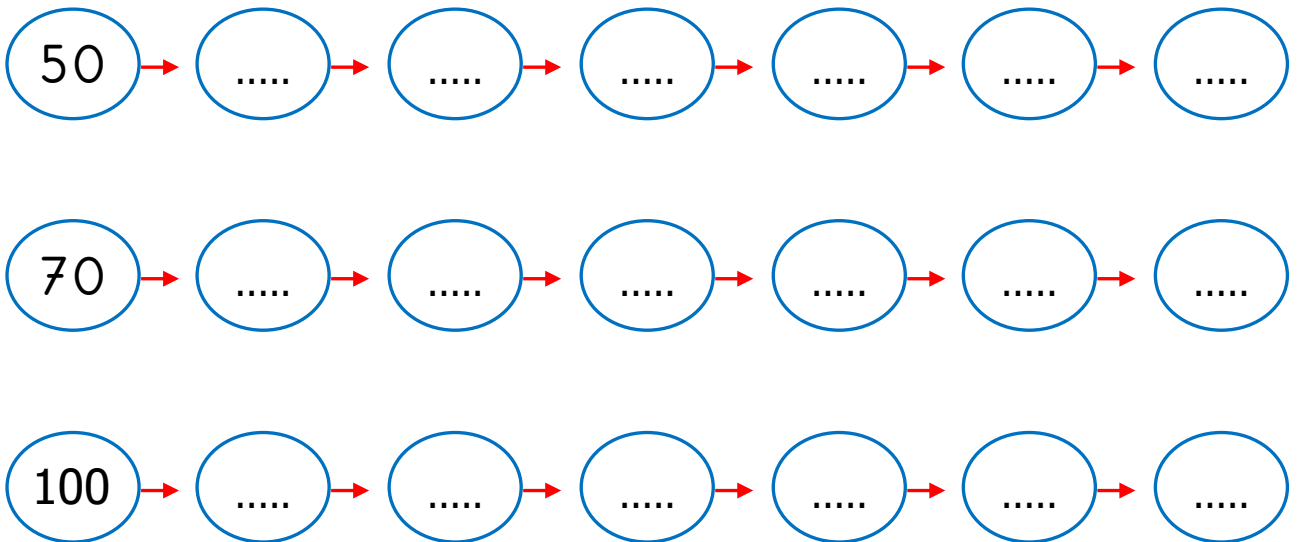
Aşağıda verilen sayıdan başlayarak geriye doğru dörder ritmik sayıp yazınız.




Parmakları 1 00'e kadar beşer ritmik sayalım. Noktalı yerlere yazalım.



Verilen sayılardan başlayarak geriye doğru beşer beşer ritmik sayma yazalım.



Elmaları 1 00'e kadar onar ritmik sayalım. Noktalı yerlere yazalım.




10

.....

.....

.....

.....



.....




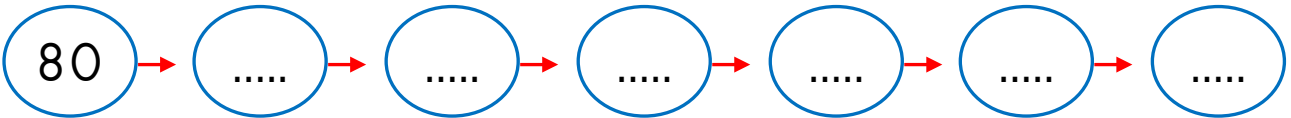
.....

.....

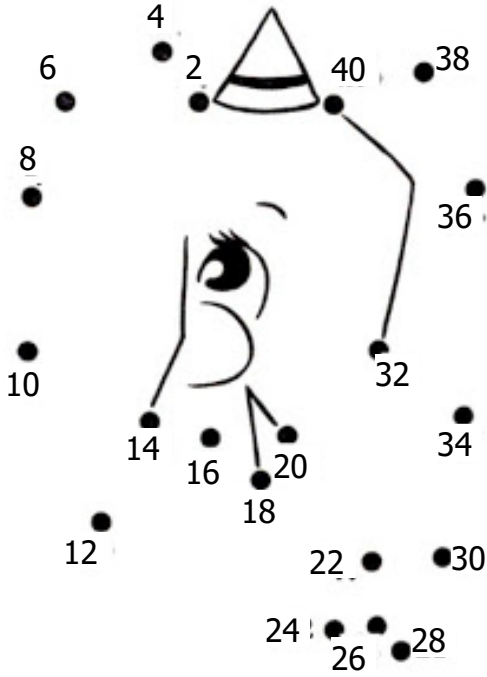
.....

.....

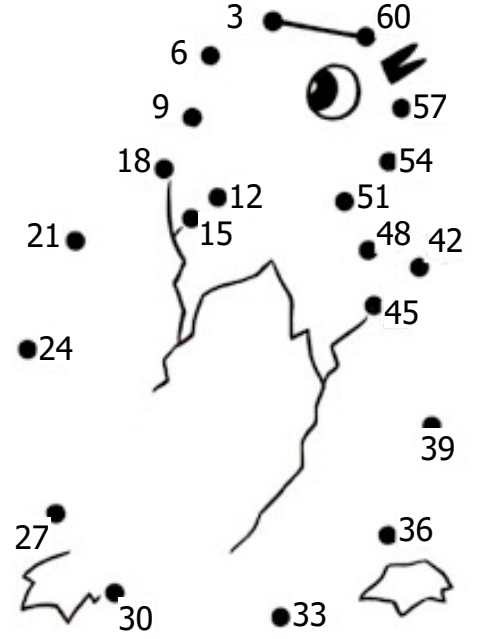
Verilen sayılardan başlayarak geriye doğru onar onar ritmik sayma yazalım.



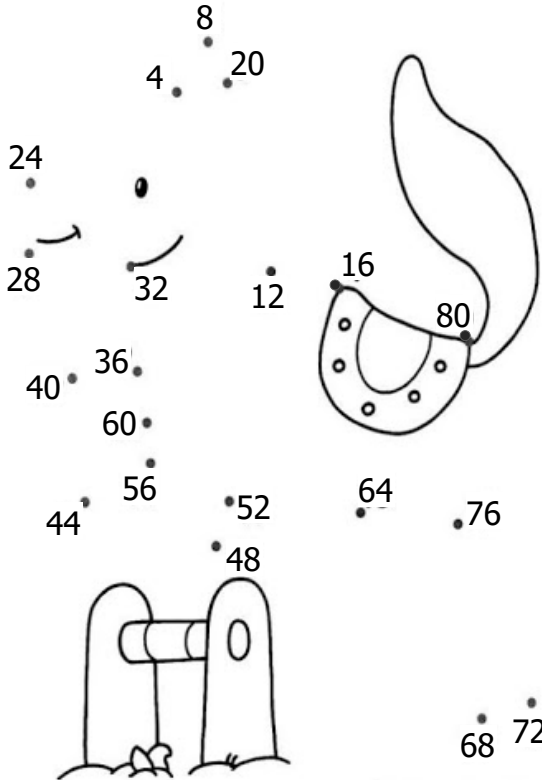
Aşağıdaki görseli 2'den başlayıp ikişer ritmik sayarak noktaları birleştiriniz.



Aşağıdaki görseli 3'den başlayıp üçer ritmik sayarak noktaları birleştiriniz.



Aşağıdaki görseli 4'ten başlayıp dörder ritmik sayarak noktaları birleştiriniz.



Aşağıdaki görseli 5'ten başlayıp beşer ritmik sayarak noktaları birleştiriniz.

