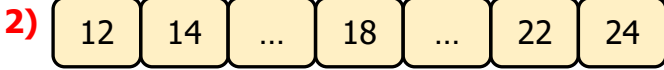




Sekizden başlayarak dörder ritmik beş sayma yapalım.

İpek (8 dahil) sayarken en son saymada hangi sayıyı söylemiştir?

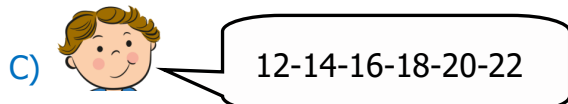
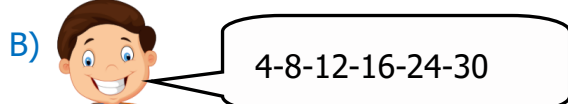
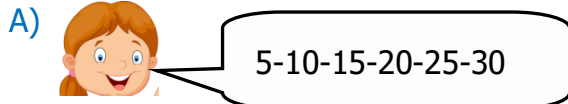
- A) 24 B) 20 C) 22



Yukarıdaki ritmik saymada boş bırakılan yerlere hangi sayılar yazılmalıdır?

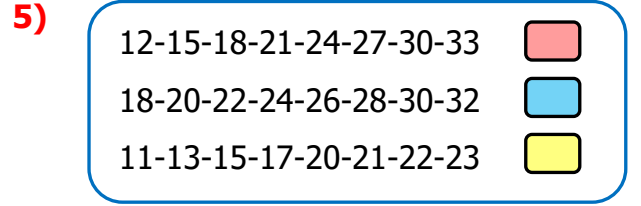
- A) 20-22 B) 14-16 C) 16-20

3) Aşağıdaki öğrencilerden hangisi ritmik sayma yaparken yanlışlık yapmıştır?



Yukarıdaki ritmik saymada verilmeyen sayılar aşağıdakilerden hangileridir?

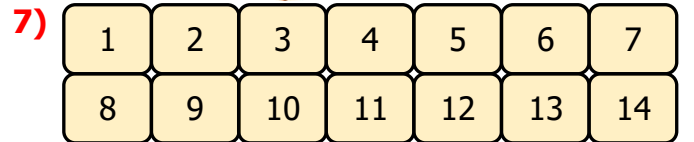
- A) 9-15 B) 9-18 C) 6-9



Yukarıdaki ritmik saymalardan hangisinde hata yapılmıştır?

- A) B) C)

6) 12 den başlayarak (12 dahil) 3 er ritmik sayma yaparken sekizinci saymada hangi sayı söylenir?



Sincap, bulunduğu kutudan başlayarak üçer üçer zıplıyor. Sincap, hangi sayıların olduğu kutulardan geçer.

- A) 3-6-9-12
B) 2-4-6-8-10
C) 1-3-5-7-9

8)



Aslı

16' dan başlayıp dörder sayma yapacağım.



Sedat

21'den başlayıp üçer sayma yapacağım.



Cemal

28'den başlayıp ikişer sayma yapacağım.

Yukarıdaki öğrencilerden hangisi yapacağı saymada 33 sayısını söyler?

- A) Aslı B) Cemal C) Sedat

9)



Yukarıdaki ritmik saymayı yaparken boş bırakılan yere aşağıdaki sayılardan hangisi yazılamaz?

- A) 35 B) 30 C) 32

10) Geriye doğru ikişer ritmik sayma yaparken 70'ten önce hangi sayı söylenir?

- A) 68 B) 72 C) 74

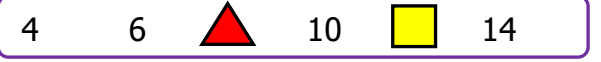
11) 20'den geriye doğru ikişer ritmik sayarken hangi sayı söylenmez?



- A) 10 B) 12 C) 13

12) 10'dan 30'a kadar ikişer ve beşer ritmik sayarken ortak söylenen sayı aşağıdakilerden hangisidir?

- A) 22 B) 15 C) 20

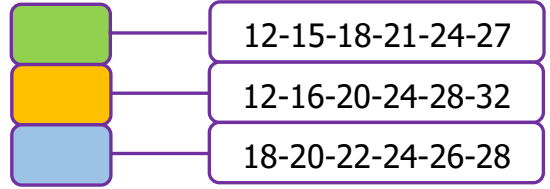
13)



 ve  yerine yazılacak sayılar hangileridir?

- A) 8-12 B) 12-16 C) 10-12


14)



Hangi seçenekte dörder ritmik sayma yapılmıştır?

- A)  B)  C) 

15) 20'den başlayarak üçerli ritmik sayma yaparken aşağıdaki rakamlardan hangisini söylemeyiz?



- A) 30 B) 32 C) 35

16) Geriye doğru ikişer ritmik sayma yaparken 20 'den önce hangi sayı söylenir?

- A) 18 B) 22 C) 24