




Ece'nin oluşturduğu renk örüntüsü nasıl devam etmelidir?




- A) 
- B) 
- C) 

2) Aşağıdaki örüntülerden hangisi yanlıştır?

- A) 
- B) 
- C) 

3) 




Yukarıdaki örüntüde beyaz şekillerin rengi nasıl devam etmelidir?

- A) 
- B) 
- C) 

4) Aşağıda verilenlerden hangisi bir örüntü olamaz?

- A) 1212121212
- B) 2323232323
- C) 1123123111

5)

2-4-6-8-10-12-14-16	
4-8-10-12-14-16-18	
4-8-12-16-20-22-25	

Yukarıdakilerden hangisi bir örüntü olamaz?

- A)  B)  C) 

6)

3	5	7	9	11
---	---	---	---	----

Yukarıdaki örüntünün kuralı aşağıdakilerden hangisidir?

- A) Rakamlar üçer artmaktadır.
- B) Rakamlar ikiser artmaktadır.
- C) Rakamlar dörder artmaktadır.

7)

2	4	8
4	8	16
8	16	?

Soru işareti yerine hangi sayı yazılmalıdır?

- A) 24 B) 20 C) 36

8)

1	2	3
2	3	4
3	4	?

Soru işareti yerine hangi sayı yazılmalıdır?

- A) 4 B) 3 C) 5

9)

20-40-60-80-100
10-20-30-40-50
5-10-15-25-35
5-15-25-35-45

Yukarıdaki örüntülerden kaç tanesi doğrudur?

- A) 3      B) 4      C) 2

10)

5	8	11		
---	---	----	--	--

Boş bırakılan kutulara hangi sayılar yazılmalıdır?

- A) 14-17      B) 12-13      C) 13-14

11)

		20	25	30
--	--	----	----	----

Boş bırakılan kutulara hangi sayılar yazılmalıdır?

- A) 10-20      B) 5-10      C) 10-15

12)

8	18	28	48	58
---	----	----	----	----

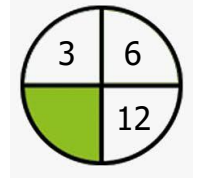
Kuralı bozan sayı hangisidir?

- A) 48      B) 58      C) 28

13) Aşağıdaki örüntülerden hangisine sırasıyla 10 ve 20 sayıları yazılmalıdır?

A)	4		12		20
B)	5		15		25
C)	2		6		10

14) Yeşil alana aşağıdaki sayılardan hangisi yazılmalıdır?



- A) 7      B) 8      C) 9

15)

İkiserli	3-6-9-12-15-18-21
Beşerli	5-10-15-20-25-30
İkişerli	2-4-6-8-10-12-14

Hangi renk kutudaki sayı örüntüsü yanlış eşleştirilmiştir?

- A)       B)       C) 

16) Aşağıdaki forma numaraları verilen çocukların sıralanması nasıl olmalıdır?



- A) 5-15-25-10-20  
B) 10-20-30-40-50  
C) 5-10-15-20-25