


1)  $368... \rightarrow 3680$

Yukarıdaki onluğa yuvarlamada, noktalı yere aşağıdaki rakamlardan hangisi gelemez?

- A) 2                      B) 3  
C) 4                      D) 5



Serhat **2355** sayısına en yakın **onluğun** ve en yakın **yüzlüğün** yazılı olduğu meyveleri yiyecektir.

Buna göre Serhat **hangi** meyveleri yiyecek?

- A) Karpuz - Muz      B) Elma – Çilek  
C) Elma – Muz        D) Karpuz – Çilek

3) **Altı bin yedi yüz otuz dört**

Yukarıda okunuşu verilen sayının en yakın **onluğa** yuvarlanmış hali aşağıdakilerden hangisidir?

- A) 6740                      B) 6700  
C) 6730                      D) 6800

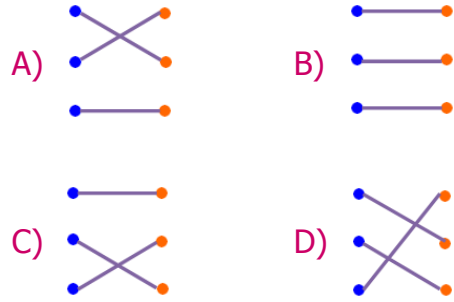
4) Aşağıdaki sayılardan hangisi en yakın **yüzlüğe** yuvarlanınca farklı bir sayı oluşur?

- A) 9876                      B) 9847  
C) 9885                      D) 9852

5)

$2554$	•	•	$2560$
$2558$	•	•	$2550$
$2565$	•	•	$2570$

Yukarıdaki sayılarla en yakın **onluğa** yuvarlanmış halleri eşleştirildiğinde ortaya nasıl bir şekil çıkar?



6) **4287** sayısının en yakın onluğa yuvarlanmış hali aşağıdakilerden hangisidir?

- A) Dört bin üç yüz doksan  
B) Dört bin iki yüz seksen  
C) Dört bin iki yüz doksan  
D) Dört bin üç yüz seksen

7)

❖	$5261 \Rightarrow 5200$
❖	$1374 \Rightarrow 1400$
❖	$2222 \Rightarrow 2300$
❖	$6019 \Rightarrow 6100$

Yukarıdaki en yakın **yüzlüğe** yuvarlamalardan kaç tanesi doğrudur?

- A) 1                              B) 2  
C) 3                              D) 4

8) 2, 8, 5 ve 6 rakamlarını birer kez kullanarak oluşturulabilecek en büyük dört basamaklı sayı, en yakın **yüzlüğe** yuvarlanırsa hangi sayı elde edilir?

- A) 2900 B) 5700  
C) 8600 D) 8700

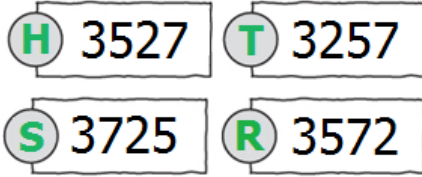
9)



Aşağıdaki sayılardan hangisinin en yakın yüzlüğü bulut içindeki sayı değildir?

- A) 5351 B) 5453  
C) 5380 D) 5439

10)



Yukarıda her biri bir harf ile eşleştirilen sayıların büyükten küçüğe doğru dizilişi aşağıdakilerden hangisidir?

- A) R – H – T – S B) H – R – T – S  
C) S – R – H – T D) T – H – S – R

11)

3571 < ..... < 3605

Aşağıdaki sayılardan hangisi noktalı yere yazılamaz?

- A) 3578 B) 3582  
C) 3599 D) 3566

12)



Yukarıdaki ürünlerin ücretlerine göre, sayıların küçükten büyüğe doğru sıralanışı aşağıdakilerden hangisidir?

- A) Bilgisayar-Televizyon-Buzdolabı-Telefon  
B) Telefon-Buzdolabı-Televizyon-Bilgisayar  
C) Televizyon-Bilgisayar-Telefon-Buzdolabı  
D) Buzdolabı-Televizyon-Telefon-Bilgisayar

13) Aşağıdaki sıralamalardan hangisi yanlıştır?

- A) 1692 < 1810 < 2020 < 2135  
B) 3330 < 3586 < 4213 < 5094  
C) 4009 > 3987 > 3899 > 2791  
D) 6537 > 5781 > 5900 > 4862

- 14) • Ayhan, Serdar'dan daha fazla yol yürümüştür.  
• Serdar, Merve'den daha fazla yol yürümüştür.  
• Serdar 6985 m yol yürümüştür.

Yukarıdaki **ipuçlarına** göre, aşağıdakilerden hangisi Ayhan ve Merve'nin yürüdükleri mesafeler olamaz?

Ayhan	Merve
A) 6899 m	- 7000 m
B) 7250 m	- 6582 m
C) 6989 m	- 6984 m
D) 6990 m	- 6789 m

## CEVAP ANAHTARI

1) D

2) B

3) C

4) B

5) A

6) C

7) A

8) D

9) B

10) C

11) D

12) B

13) D

14) A