

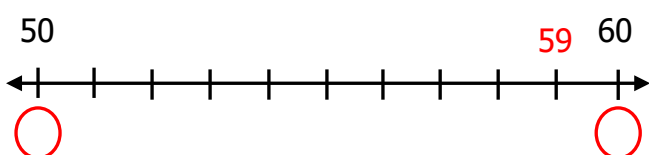
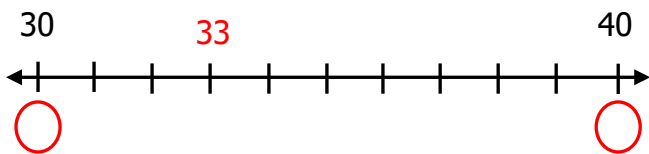
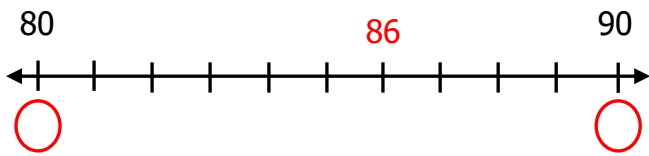
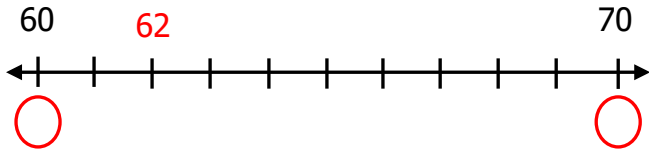
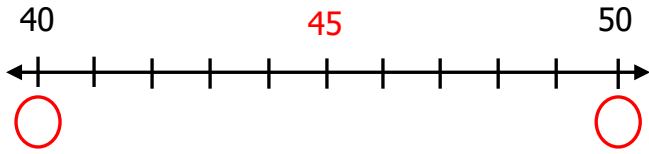
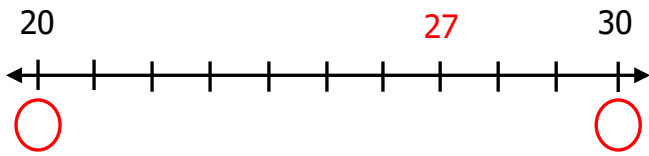
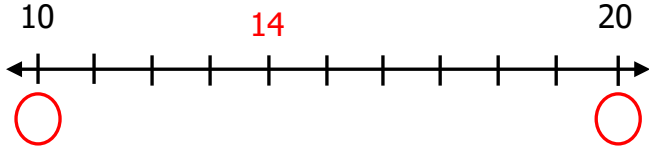


Adı Soyadı : .....

Numarası : .....

## Konu: En Yakın Onluğa Yuvarlama Etkinliği 3

Aşağıda sayı doğrularında verilen sayıların yakın oldukları onlukları işaretleyiniz.



Verilen onluğa en yakın olan sayıyı (✓) ile örnekteki gibi işaretleyelim.

30

23

28

36

20

19

26

32

50

56

44

49

40

47

44

56

80

84

88

73

70

68

76

79

60

68

54

64

90

96

88

83

30

34

24

38

40

49

38

46

Aşağıda verilen sayılardan önce ve sonra gelen onlukları yanlarına yazalım. Yakın onlukları örnekteki gibi daire içine alalım.

..10.. 17 20

..... 22 .....

..... 34 .....

..... 55 .....

..... 48 .....

..... 66 .....

..... 71 .....

..... 89 .....

..... 12 .....

..... 78 .....

Aşağıda verilen sayıları en yakın onluğa yuvarlayınız.

26 → .....  
41 → .....  
54 → .....  
65 → .....  
71 → .....  
88 → .....  
93 → .....  
19 → .....

37 → .....  
58 → .....  
62 → .....  
84 → .....  
15 → .....  
43 → .....  
26 → .....  
72 → .....

Aşağıda verilen onluklara yuvarlanan sayıları örnekteki gibi yazınız.

15, 16, 17, 18, 19 20 21, 22, 23, 24

..... 30 .....

..... 40 .....

..... 50 .....

..... 60 .....

..... 70 .....

..... 80 .....

..... 90 .....

Aşağıdaki sayıların en yakın onluğunu işaretleyiniz

21 49 75  
20 30 40 50 70 80

32 67 83  
30 40 60 70 80 90

87 36 44  
80 90 30 40 40 50