

1) 40' a en yakın sayı aşağıdakilerden hangisidir?

26

A)

36

B)

22

C)

2) Aşağıda verilen eşleştirmelerden hangisi yanlıştır?

	Sayı	En Yakın Onluk
A)	23	30
B)	28	30
C)	27	30

3) Aşağıdaki sayılar en yakın onluklarıyla eşleştirildiğinde hangisi boşta kalır?

27

A)

28

B)

22

C)

4) İsmail, kumbarasında biriktirdiği paraları saydığına 70 ₺ye yaklaştığını görür.

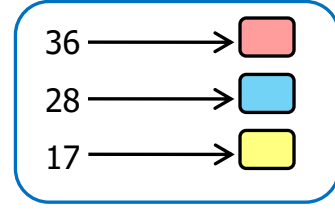
Buna göre aşağıdakilerden hangisi İsmail'in parası olamaz?

A) 63 ₺


B) 68 ₺

C) 67 ₺

5)



Yukarıdaki sayılardan hangisinin en yakın onluğu 40'tır?

A) B) C) 

6) Yandaki görselde bulunan çantanın fiyatı yaklaşık 80 ₺ dir.



Buna göre çantanın gerçek fiyatı aşağıdakilerden hangisi olabilir?

A) 70 ₺

B) 85 ₺

C) 78 ₺

7)

51	24	57
42	58	56


Yandaki sayılardan kaç tanesinin en yakın onluğu 60 'tır?

A) 3

B) 4

C) 5

8)



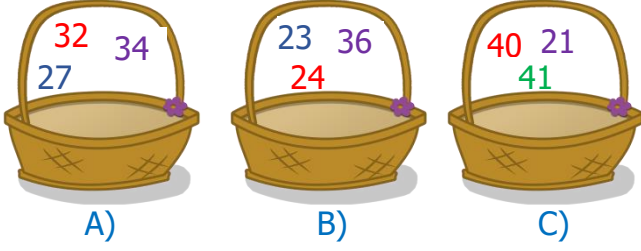
Yukarıdaki kalemin boyu yaklaşık kaç santimetredir?

A) 5

B) 3

C) 4

9) 30'a en yakın sayılar hangi sepette bulunmaktadır?



10) Aşağıdaki öğrencilerin hangisinin kilosu 40'a daha yakındır?

- A)  Ben otuz üç kiloyum.
- B)  Ben kırk yedi kiloyum.
- C)  Benim kilom kırk dört.

11) 

8	18	28	48	58
---	----	----	----	----

Yukarıdaki sayılardan hangisi 50'ye daha yakındır?

- A) 48      B) 58      C) 28

12) Zeynep, bir günde 75 sayfadan fazla, 92 sayfadan az kitap okumuştur?

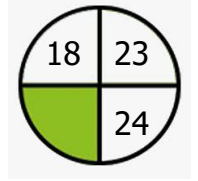
Zeynep kaç sayfa kitap okumuş olabilir?

- A) 74      B) 69      C) 89

13) Aşağıdakilerden hangisinde 50'ye daha yakın olan sayılar bir arada verilmiştir?

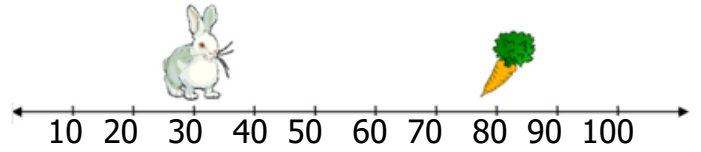
A)	55	56	60	61	62
B)	53	54	49	47	48
C)	57	58	45	60	63

14) 20'ye en yakın sayılar yanda verilmiştir. Buna göre yeşil alana hangisi yazılamaz?






- A) 19      B) 21      C) 26

15) Tavşanın havucu yemesi için hangi onluğa zıplaması gerekir?



- A) 80      B) 70      C) 90

	<u>Sayı</u>	<u>En Yakın Onluk</u>
	38	40
	24	20
	34	40

Yukarıda bazı sayıların en yakın onluğa yuvarlanması ile ilgili eşleştirme yapılmıştır.

Buna göre hangi eşleştirme yanlıştır?

- A)       B)       C) 