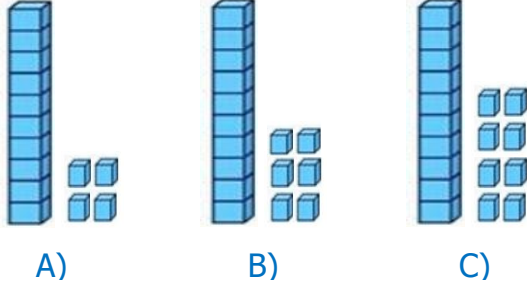


1) Aşağıdaki modellenen sayılardan hangisi diğerlerinden daha büyüktür?



2) 25 28 16 34

Yukarıda verilen sayıların küçükten büyüğe doğru sıralanışı nasıl olmalıdır?

A)	16	28	25	34
B)	16	25	28	34
C)	16	34	25	28

3) 33 kalem 16 kalemden..... Hasan

Hasan'ın cümlesi aşağıdakilerden hangisi ile tamamlanmalıdır?

A) fazladır B) küçüktür C) azdır

4) ★ yerine hangi sayı yazılmalıdır? ★ sayısı 99'dan küçüktür.

A) 100 B) 99 C) 98

5) Kazak 59 ₺ Pantolon 80 ₺ Gömlek 45 ₺

Yukarıda verilenlerden hangisi daha pahalıdır?

A) B) C)

6) Aşağıdaki öğrencilerden hangisinin söylediği yanlıştır?

- A) Otuz üç, kırk altıdan küçüktür.
 B) Elli beş, altmıştan küçüktür.
 C) Yetmiş, kırk üçten küçüktür.

7) 15 13 26 89 12 66
5 7 98 60 54 14 10

Sincap en büyük ve en küçük sayıların altına yerleştirilen yemleri bulmak istiyor. Yemler hangi sayıların altına gizlenmiştir?

A) 98-5 B) 98-7 C) 66-89

8) Aşağıdaki sayılardan en küçüğü hangisidir?

A) 88 B) 89 C) 87

- 9) Aydın 33 ° Muş 26 ° Sivas 22 °

Yukarıdaki tabloda bazı illere ait hava sıcaklıkları verilmiştir.
Buna göre en sıcak il hangisidir?

- A) Aydın B) Ankara C) Afyon

K	E	K	E	K	E
14	12	20	13	14	18
3/A sınıfı	3/B sınıfı	3/C sınıfı			

- 10) Yukarıdaki tabloda bazı sınıflardaki kız ve erkek öğrenci sayıları verilmiştir.

Buna göre en fazla kız ve en az erkek öğrencisi olan sınıflar hangileridir?

- A) 3/A-3/B B) 3/B-3/C C) 3/B-3/A

- 11) Hangi sınıfın mevcudu daha fazladır?

- A) 3/B B) 3/A C) 3/C

- 12)



Ecrin'in elinde yukarıdaki çantalarından en ucuzunu alacak kadar parası vardır.


Buna göre Ecrin hangi çantayı almalıdır?

- A) 65 ₺ B) 55 ₺ C) 85 ₺

- 13) 53-68-20-46-11-22-38

Yukarıdaki sayıların büyükten küçüğe doğru sıralanışı aşağıdakilerden hangisidir?




- A) 68-53-46-38-22-20-11
B) 68-53-20-46-11-22-38
C) 11-22-20-38-46-53-68

- 14)  86-15-18-21-24-99
12-90-20-24-28-32
18-20-22-24-26-28

Hangi seçenekteki sayılar küçükten büyüğe doğru sıralanmıştır?

- A)  B)  C) 

- 15) Aşağıdaki öğrencilerden hangisi en fazla sayıda kitap okumuştur?

- A)  Bugün 43 sayfa kitap okudum.
B)  Akşam 61 sayfa kitap okudum.
C)  Sabah 13 sayfa kitap okudum.

- 16) Aşağıdaki sayılardan en büyüğü hangisidir?

- A) 77 B) 70 C) 60