

1) Aşağıdaki bilgilerden hangisi doğrudur?

- A) Okulumuzun yerini tarif ederken yön belirten ifadeler kullanamayız.
- B) Okula gidip gelirken çevresindekileri bilmek önemli değildir.
- C) Çevremizi tanımak yaşamımızda kolaylık sağlar.

2) Aşağıdakilerden hangisi yakın çevremizi tanımamızın bize sağladığı yararlılardan değildir?

- A) Yakın çevremizi tanımak için çok zaman harcamış oluruz.
- B) Yakın çevremizde bulunan önemli yerleri öğrenmiş oluruz.
- C) Yaşadığımız yerin bilinmeyen özelliklerini öğrenmiş oluruz.

3) Bir yeri tarif ederken aslında oranın .....söylemiş oluruz.

Osman





Osman'ın kurduğu cümle aşağıdakilerden hangisi ile tamamlanmalıdır?

- A) uzaklığını
- B) adresini
- C) rengini

4) Okulumuzun yerini bilmek aşağıdakilerden hangisinde bize fayda sağlamaz?

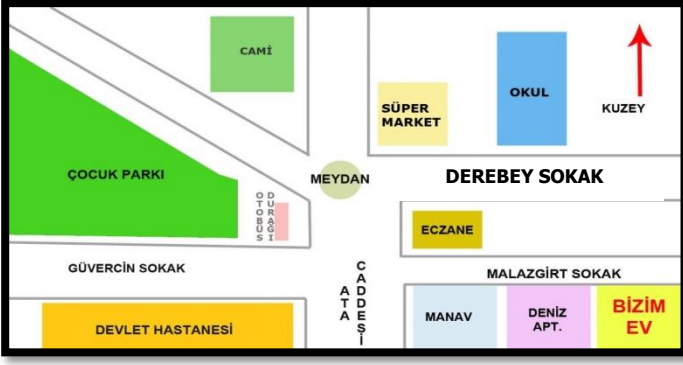
- A) Derslerde başarılı olmamızda
- B) Okulu birisine tarif etmemizde
- C) Okula kolayca gidip gelmemizde

5) Aşağıdaki öğrencilerden hangisinin söylediği yanlıştır?

- A)  Okulumuzun yakın çevresini çok iyi tanıyoruz.
- B)  Bildiğimiz adresleri kolayca tarif edebiliriz.
- C)  Yaşadığımız yerdeki tüm adresleri bilmeliyiz.

6) Aşağıdaki ifadelerden hangisini okulumuzu tarif ederken kullanmamalıyız?

- A) Cumhuriyet İlkokulu, Ata Caddesi, Gül Sokak, Numara 20,
- B) Cumhuriyet İlkokulu, hastaneden 100 metre ileride sağdaki okul,
- C) Ahmet'ın evinin arkasındaki bina,



7.8.9.10.11.Soruları görsele göre göre cevaplayınız.

7) Okulun batısında aşağıdakilerden hangisi bulunmaktadır?

- A) Manav B) Eczane C) Cami

8) Çocuk parkı eczaneye göre hangi yöndedir?

- A) Doğu B) Batı C) Güney

9) Okul ile eczane arasında hangi sokak vardır?

- A) Derebey Sokak  
B) Güvercin Sokak  
C) Deniz Sokak

10) Devlet Hastanesinden çocuk parkına gitmek isteyen birisi hangi sokaktan geçmelidir?

- A) Malazgirt Sokak  
B) Güvercin Sokak  
C) Ata Caddesi

11) Bizim evden okula gitmek için kullanılan yol güzergahı hangisidir?

- A) Malazgirt Sokak-Ata Caddesi-Meydan – Derebey Sokak  
B) Malazgirt Sokak-Ata Caddesi-Güvercin Sokak  
C) Malazgirt Sokak-Güvercin Sokak

12)



Ömer

Günlük .....geçtiği yerler bizim yakın çevremizdir.

Ömer' in kurduğu cümledeki noktalı bölüme aşağıdakilerden hangisi yazılmalıdır?

- A) yaşantımızın B) adresimizin  
C) düşüncelerimizin

13) Aşağıdakilerden hangisi adresini bilmemiz gereken önemli yerlerden birisi değildir?

- A) Okulumuz B) Evimiz  
C) Arkadaşımızın okuduğu okul

14) Okulumuzun yerini öğrenmek için aşağıdakilerden hangisini bilmemize gerek yoktur?

- A) Okulumuzun bulunduğu mahalleyi  
B) Okulumuzda kaç öğrenci olduğunu  
C) Okulumuzun bulunduğu caddeyi