

- 1)  Selin 3 birlik  
2 onluk 4 birlik  
3 onluk  İrem

Selin ve İrem' in söylediği sayıların toplamı hangi seçenekte verilmiştir?

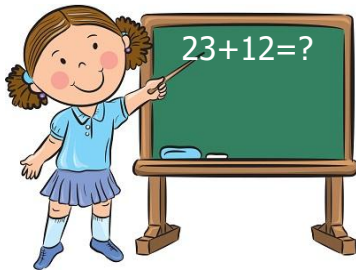
- A) 57      B) 75      C) 66

- 2) Aşağıda sayılar ve toplamları eşleştirilmiştir. verilen eşleştirmelerden hangisi yanlıştır?

	Sayılar	Toplam
A)	11+12	23
B)	12+16	28
C)	13+13	27

- 3) Yanda verilen işlemin sonucu hangisidir?

- A) 53  
B) 35  
C) 33



- 4)  12 ₺  10 ₺  1 ₺

Yukarıdaki ürünlerin toplamı kaç ₺ dir?

- A) 23 ₺      B) 20 ₺      C) 32 ₺

- 5)  10 yaş  36 yaş  38 yaş

Baba ile kızının yaşlarının toplamı kaçtır?

- A) 38      B) 36      C) 48

- 6) Hangi renk balonların toplamı 40 eder?

- A) yeşil-kırmızı  
B) kırmızı-mor  
C) mor-mavi



- 7) 

1	2	3
4	5	6

 Yandaki sayıların hepsinin toplamı kaçtır?

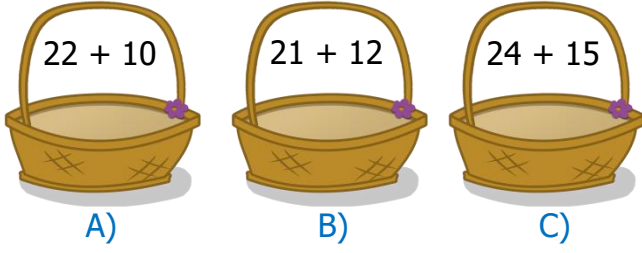
- A) 19      B) 20      C) 21

- 8) 20 14 10 16 23 25


Yukarıdaki sayılardan en büyükü ve en küçüğünü topladığımızda sonuç kaç olur?

- A) 35      B) 33      C) 34

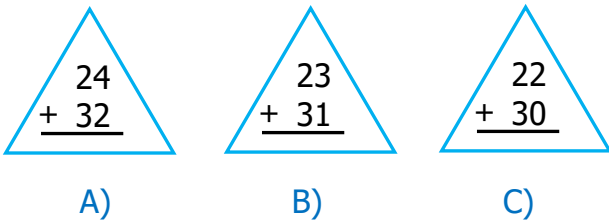
9) Hangi sepetteki yumurtaların sayısı diğerlerinden daha fazladır?



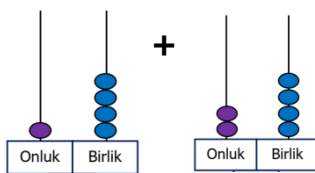
10) Aşağıdaki öğrencilerinden hangisinin yapmış olduğu toplama işlemi yanlıştır?



11) Aşağıdaki işlemlerden hangisinin sonucu en büyüktür?



12) Yanda verilen sayıların toplamı kaçtır?



A) 14 B) 24 C) 38

13) Aşağıdaki tabloda üç arkadaşın bir oyunda aldıkları puanlar verilmiştir?

Oyuncu	1.Oyun	1.Oyun	Toplam
Hasan	5	10	
Ahmet	10	15	
Recep	10	10	

Buna göre en yüksek puanı hangisi almıştır?

A) Ahmet B) Hasan C) Recep

14)

K	E	K	E	K	E
14	12	20	13	14	18
3/A sınıfı		3/B sınıfı		3/C sınıfı	

Yukarıdaki tabloya göre hangi sınıftaki öğrenciler daha fazladır?

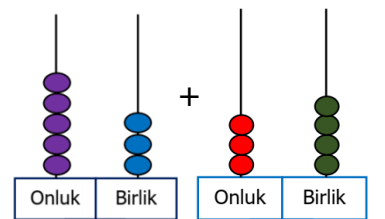
A) 3/C B) 3/B C) 3/A

15) Aşağıdaki toplama işlemlerinden hangisinin sonucu 35'tir?

$$\begin{array}{r} 14 \\ + 21 \\ \hline \end{array} \quad \begin{array}{r} 14 \\ + 20 \\ \hline \end{array} \quad \begin{array}{r} 14 \\ + 11 \\ \hline \end{array}$$

A) B) C)

16) Yanda verilen sayıların toplamı kaçtır?



A) 68 B) 87 C) 78