

- 1)  Selin  $3 \text{ birlik}$   $2 \text{ onluk}$   İrem  $4 \text{ birlik}$   $3 \text{ onluk}$

İrem' in söylediği sayıdan Selin'in söylediği sayıyı çıkarırsak sonuç kaç olur?

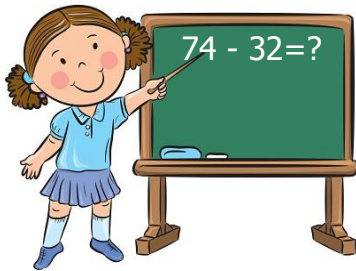
- A) 10 B) 11 C) 12

- 2) Aşağıda yapılan çıkarma işlemleri hangi seçenekte doğru verilmiştir?

	Sayılar	Toplam
A)	$26 - 14$	20
B)	$55 - 22$	22
C)	$54 - 33$	21

- 3) Yanda verilen işlemin sonucu hangisidir?

- A) 42  
B) 43  
C) 23



- 4)   $12 \text{ ₺}$    $10 \text{ ₺}$    $1 \text{ ₺}$

Boya kalemi maskeden kaç ₺ fazladır?

- A) 9 ₺ B) 10 ₺ C) 11 ₺

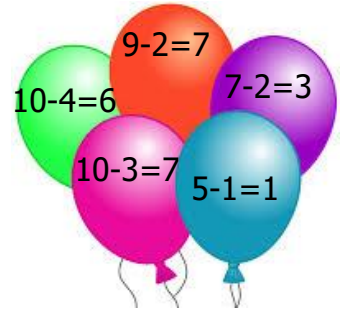
- 5)   $10 \text{ yaş}$    $36 \text{ yaş}$    $38 \text{ yaş}$

Annesi kızından kaç yaş büyüktür?

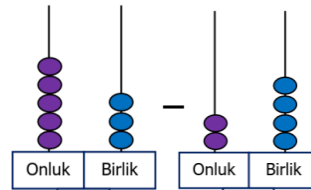
- A) 26 B) 28 C) 24

- 6) Hangi renk balonlardaki işlem yanlış yapılmıştır?

- A) yeşil-kırmızı  
B) kırmızı-mor  
C) mor-mavi



7



Yandaki işlemin sonucu hangisidir?

- A) 29 B) 20 C) 19

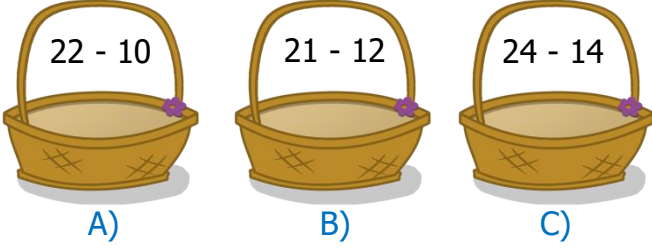
8)

$24 - 14 =$	$30 - 24 =$
$20 - 14 =$	$10 - 4 =$

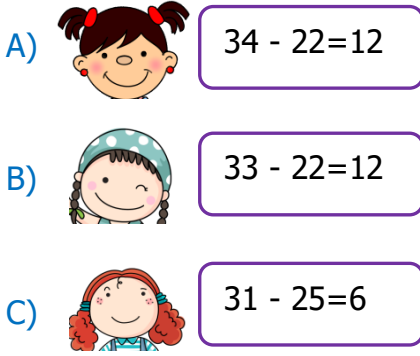
Yukarıdaki işlemlerden kaç tanesinin sonucu aynıdır?

- A) 2 B) 4 C) 3

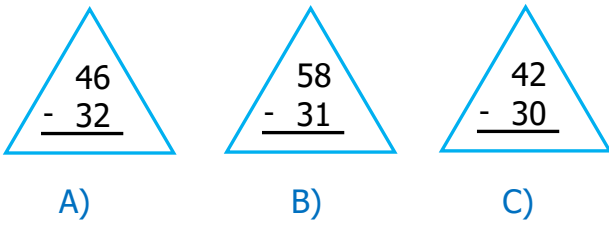
9) Aşağıdaki işlemlerden hangisinin sonucu en fazladır?




10) Aşağıdaki öğrencilerinden hangisinin yapmış olduğu çıkarma işlemi yanlıştır?




11) Aşağıdaki işlemlerden hangisinin sonucu en küçüktür?




12) Yusuf'un 75 ₺'si vardır.  35 ₺ 45 ₺ Yusuf'un yukarıdaki ürünleri alabilmesi için kaç ₺'ye ihtiyacı vardır?

A) 5 ₺ B) 10 ₺ C) 3 ₺

13) Elif, kitaplığında bulunan 48 kitaptan 24 tanesini okudu. kitaplıkta okunmayan kaç kitap kalmıştır?



A) 30 B) 48 C) 24

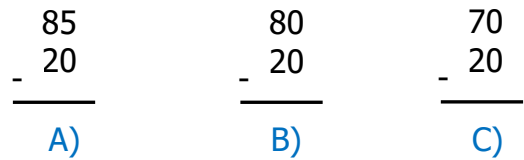
14)  Sinemada bulunan 36 koltuktan 23 tanesi dolmuştur. Sinemada kaç tane boş koltuk kalmıştır?

A) 13 B) 23 C) 26

15) Aşağıdaki çıkarma işlemlerinden hangisinin sonucu 21'dir?

A)  $60 - 20 =$  B)  $41 - 20 =$  C)  $45 - 20 =$

16) Aşağıdaki çıkarma işlemlerinden hangisinin sonucu 50' dir?



17) Yanda verilen işlemin sonucu kaçtır?



A) 28 B) 19 C) 18