

Çıkarma İşlemi

- 1) Yansa verilen çıkarma işlemi, sayılar en yakın onluğa yuvarlanarak yapılmıştır. Buna göre bu işlem, aşağıdakilerden hangisi olabilir?

$$\begin{array}{r} A \rightarrow 380 \\ - B \rightarrow - 160 \\ \hline 220 \end{array}$$

A) 376	B) 376	C) 368
$\begin{array}{r} - 165 \\ \hline \dots \end{array}$	$\begin{array}{r} - 158 \\ \hline \dots \end{array}$	$\begin{array}{r} - 164 \\ \hline \dots \end{array}$

- 2) a. 400 - 170
b. 600 - 320
c. 800 - 430

Yukarıda verilenlerden farkı en büyük olan işlem hangisidir?

A) a	B) b	C) c
------	------	------

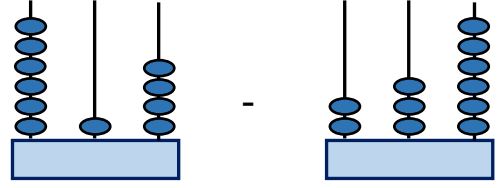
- 3) Aşağıdaki çıkarma işlemlerinden hangisi yanlıştır?

A) 431	B) 572	C) 404
$\begin{array}{r} - 165 \\ \hline 266 \end{array}$	$\begin{array}{r} - 263 \\ \hline 319 \end{array}$	$\begin{array}{r} - 272 \\ \hline 132 \end{array}$

- 4) "627 - 381" işlemini sonucu aşağıdakilerden hangisidir?

A) 251	B) 246	C) 196
--------	--------	--------

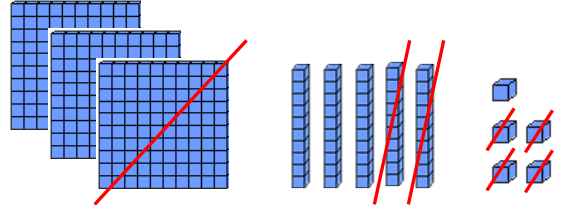
- 5)



Yukarıdaki çıkarma işleminin sonucu kaçtır ?

A) 378	B) 372	C) 368
--------	--------	--------

- 6)



Yukarıda modellenen çıkarma işlemi hangi seçenekte doğru olarak verilmiştir?

A) 355	B) 356	C) 355
$\begin{array}{r} - 144 \\ \hline 211 \end{array}$	$\begin{array}{r} - 145 \\ \hline 211 \end{array}$	$\begin{array}{r} - 124 \\ \hline 231 \end{array}$

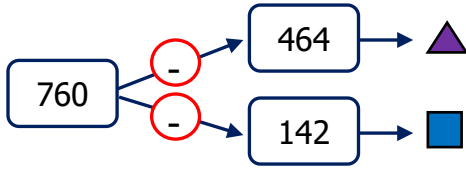
- 7) Yüzler basamağında 7 rakamı olan üç basamaklı en küçük tek doğal sayı ile 2 basamaklı en büyük doğal sayının farkı kaçtır?

A) 602	B) 612	C) 622
--------	--------	--------

- 8) $500 - 160 > \heartsuit$ karşılaşmasın da \heartsuit yerine gelecek en büyük doğal sayı aşağıdakilerden hangisidir?

A) 341	B) 340	C) 339
--------	--------	--------

9)



Şemaya göre ▲ ve ■ sayıları ile ilgili ifadelerden hangisi yanlıştır?

- A) ▲ sayısı, onlar basamağı tek sayıdır.
 B) ■ yüzler basamağı çift sayıdır.
 C) ▲ + ■ toplamı 915 sayısından büyüktür.

10)

Yukarıdaki işlemlere göre ♥ aşağıdakilerden hangisidir?

- A) 296 B) 294 C) 290

11)



3 yüzlük 1 onluk 5 birlik

Arif Öğretmen, aşağıdaki işlemlerden hangisinin cevabını söylemiştir?

- A) 530 - 215
 B) 600 - 235
 C) 480 - 140

12) Yanda verilen rakamları birer kez kullanarak yazılabilecek en büyük sayı ile en küçük sayının farkı kaçtır?

6 9
2

- A) 793 B) 693 C) 593

13) Yandaki işleme göre aşağıdakilerden hangisi doğrudur?

	▲	■	★
A)	Eksilen	Fark	Çıkan
B)	Çıkan	Eksilen	Fark
C)	Eksilen	Çıkan	Fark

14) 700 - 160 işlem sonucunun en yakın yüzler basamağına yuvarlanması aşağıdakilerden hangisidir?

- A) 500 B) 400 C) 300

15) 64 - 30 işleminin sonucu

97 - 30 işlemini sonucundan ne kadar azdır?

- A) 32 B) 33 C) 34