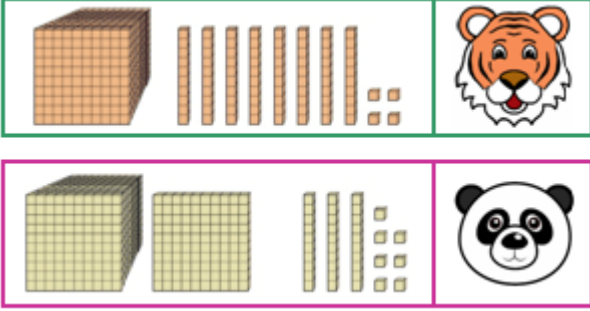


1)



Basamak **blokları** verilen ve her biri bir hayvan ile eşleştirilen sayıların toplamı kaçtır?

- A) 2221                      B) 3041  
C) 3211                      D) 2341

2)



Temel ihtiyaçları için **ocak** ayında **1385** lira harcayan bir aile, **şubat** ayında ise **ocak** ayında harcadığından **100** lira fazla harcamıştır. Buna göre bu aile 2 ayda temel ihtiyaçları için kaç lira harcamışlardır?

- A) 1485 ₺                      B) 2780 ₺  
C) 2870 ₺                      D) 3250 ₺

3)




Serhat'ın aklındaki sayının en yakın onluğa yuvarlanmış hali ile en yakın yüzlüğe yuvarlanmış halinin **toplamı** kaçtır?

- A) 4000                      B) 5160  
C) 5070                      D) 5130

4) Babam **1957** yılında doğdu. Babam benden **35** yaş büyüktür. Ben ise kardeşimden **7** yaş büyüğüm. Buna göre **kardeşim** kaç yılında doğmuştur?

- A) 1982                      B) 1989  
C) 1992                      D) 1999

5)



Yukarıdaki **rakamlarla** oluşturulabilecek, rakamları farklı, **dört** basamaklı en büyük ve en küçük sayıların **toplamı** kaçtır?

- A) 6521                      B) 5302  
C) 6877                      D) 7777

6)



5785 ₺



3295 ₺

Yukarıda, **Merve'nin** almak istediği ürünler ve fiyatları bulunmaktadır. Buna göre Merve'nin ne kadar paraya **ihtiyacı** vardır?

- A) 5785 ₺      B) 6970 ₺  
C) 8990 ₺      D) 9080 ₺

7)

$$\begin{array}{r} 2059 \\ + 1643 \\ \hline A \end{array} \quad \begin{array}{r} 1756 \\ + \quad \quad \\ \hline B \end{array}$$

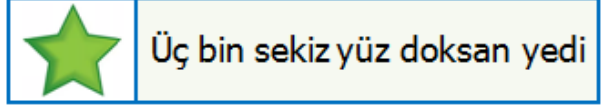
Yukarıdaki tahtada verilen **toplama** işlemlerine göre **A + B** kaçtır?

- A) 3702      B) 5458  
C) 9160      D) 9380

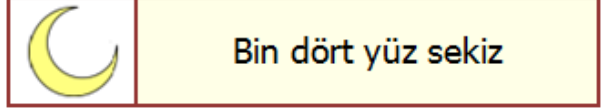
8) Bir çiftçi tarlasından **2876** kg mısır ve mısırlardan **258** kg fazla fasulye elde etmiştir. Buna göre bu çiftçi tarlasından **toplam** kaç kg ürün elde etmiştir?

- A) 3134      B) 6010  
C) 7254      D) 8104

9)



Üç bin sekiz yüz doksan yedi



Bin dört yüz sekiz

Yukarıdaki tabloya göre  $\star + \text{☾}$  kaçtır?

- A) 5305      B) 3495  
C) 4575      D) 4965

10)

$$\mathbf{S} \rightarrow 3956 + 1357$$

$$\mathbf{R} \rightarrow 2804 + 2039$$

$$\mathbf{H} \rightarrow 3126 + 1077$$

$$\mathbf{T} \rightarrow 4306 + 562$$

Yukarıda her biri bir **harf** ile eşleştirilen işlemlerden hangisinin sonucu diğerlerine göre daha küçüktür?

- A) **T**      B) **H**  
C) **R**      D) **S**

11)

$$\begin{array}{r} 573 \quad \bullet \\ + \quad \blacksquare 844 \quad \bullet \\ \hline 9 \blacktriangle 82 \quad \blacktriangle \end{array} \quad \begin{array}{l} \blacksquare = \dots \\ \bullet = \dots \\ \blacktriangle = \dots \end{array}$$

Yukarıdaki işleme göre  $\bullet + \blacktriangle$  kaçtır?

- A) 8      B) 10  
C) 13      D) 16

# CEVAP ANAHTARI

- 1) A
- 2) C
- 3) B
- 4) D
- 5) D
- 6) D
- 7) C
- 8) B
- 9) A
- 10) B
- 11) C