


Hoca yolda yürürken, adamın biri, ensesine sağlam bir tokat atar. Hoca şikâyetçi olur ve kadıya giderler. Kadı, "Tokat atan iki akçe para ödeyecek" diye ceza keser. Adam, "Param yok, alıp geleyim" der. Hoca kadının huzurunda bekler de bekler. Adam gelmeyince hoca çok sinirlenir. En sonunda sığınip yaradana, indirir tokadı kadının suratına. Kadıya, "Sen de paranı o adamdan alırsın" der.

➤ İlk iki soruyu metne göre cevaplayınız.

- 1) Metnin **konusu** hangi seçenekte doğru verilmiştir?
- A) Hoca'nın maddi durumu  
B) Dikkatli olmak  
C) Hoca'nın başına gelenler  
D) Kadı olmanın gereklilikleri
- 2) Metinde verilmek istenen mesaj (**ana fikir**) aşağıdakilerden hangisidir?
- A) Güvenmediğimiz insanlarla hiçbir zaman arkadaşlık kurmamalıyız.  
B) Doğru ve adil verilmeyen bir kararın istenmeyen sonuçları olabilir.  
C) Bilgili insanın kendisine, ailesine ve çevresine birçok yararı vardır.  
D) Ne kadar zorluk yaşarsak yaşayalım, her zaman olumlu düşünmeliyiz.
- 3) Bu savaş bizi elli yıl geriye götürdü.
- Yukarıdaki cümlede **altı çizili** sözcüğün yerine hangisi yazılırsa anlam değişmez?
- A) Barış  
B) Dostluk  
C) Kötü  
D) Harp

4)



Üzüntü, sevinç, heyecan, şaşkınlık, korku gibi ani duyguları belirten cümlelerin sonuna **ünlem işareti** konur.

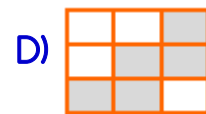
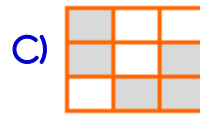
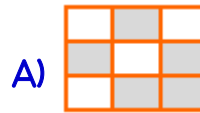
Yukarıdaki bilgiye göre, aşağıdaki cümlelerin hangisinde **ünlem** işareti yanlış kullanılmıştır?





- A) Komşumuzun mutlu bir hali var!  
B) Dikkat, ev yıkılıyor!  
C) Eyvah, ocağı kapatmayı unuttum!  
D) Sakın bir daha buraya gelme!

5)

Bir-tak-ım	Sar-ım-sak	May-da-noz
Yal-nı-z	Mes-lek-taş	As-fal-t
Ser-best	Pal-ya-ço	Ras-tlan-tı

Yukarıdaki tabloda yanlış hecelenen kelimelerin kutusunu boyarsak ortaya nasıl bir **şekil** çıkar?



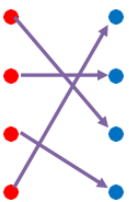
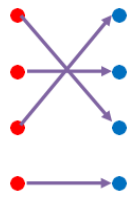
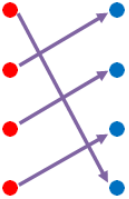
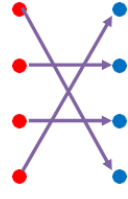
- 6) - Film hangi kanalda bilmiyorum   
 - Ayla bu gece bizde mi kalacak   
 - Bu iş yerinde kaç kişi çalışıyor   
 - Ne yaptığının farkında mısın 

Cümlelerin sonunda bulunan şekillerden hangisinin yerine **soru işareti** konulamaz?

- A)  B)   
 C)  D) 

- 7) Seyrek  Sulh   
 Üvey  Öz   
 Medeni  Sık   
 Harp  İlkel 

Yukarıdaki kelimeler **zıt anlamlılarıyla** eşleştirilirse ortaya nasıl bir şekil çıkar?

- A)   
 B)   
 C)   
 D) 

- 8) Birçok hayvanın belgeselini izledim ( )  
 Aslanları ( ) kaplanları ( ) çitaları ( )

Cümlelerde **parantez** içlerine sırasıyla hangi **noktalama** işaretleri gelmelidir?

- A) (,) (,) (,) (.) B) (!) (,) (,) (...)  
 C) (!) (,) (,) (.) D) (.) (,) (,) (...)

- 9)   
 -mı, -mi, -mu, -mü  
 soru ekleri kendilerinden sonra gelen eklerle bitişik yazılır.

Aşağıdaki cümlelerin hangisinde yukarıdaki **kurala** uyulmamıştır?

- A) Ayağa kalkar mısın?  
 B) Geceleri kitap okuyormu sun?  
 C) Bizimle gelecek misin?  
 D) Ona yardım eder misin?

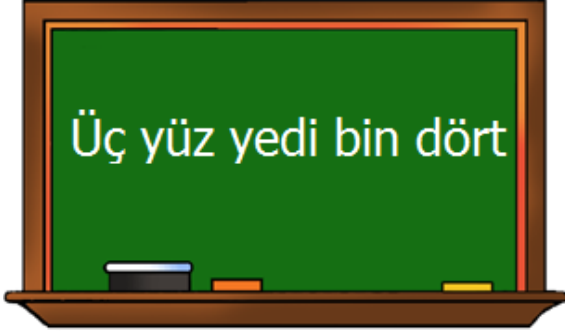
- 10) Seni boydan boya sevmişim,  
 Ta Kars'a kadar Edirne'den.  
 Toprağını, taşını, dağlarını  
 Fırsat buldukça övmüşüm.

**Turgut UYAR**

Yukarıdaki şiirin **ana duygusu** nedir?

- A) Baba Özlemi B) Doğa Sevgisi  
 C) Vatan Sevgisi D) Aile Sevgisi

11)



Yukarıdaki tahtada okunuşu verilen sayının doğru yazılışı aşağıdakilerden hangisidir?

- A) 37 004                      B) 30 704  
C) 307 400                    D) 307 004

12)



Her sene **100** ağaç dikilen hatıra ormanında **2010** yılında, o yıl dikilen ağaçlarla birlikte toplam **3680** ağaç olduğuna göre bu hatıra ormanı ile ilgili aşağıdaki bilgilerden hangisi doğrudur?

- A) 2017 yılında toplam 4280 ağaç olur.  
B) 2015 yılında toplam 4180 ağaç olur.  
C) 2013 yılında toplam 4080 ağaç olur.  
D) 2014 yılında toplam 3980 ağaç olur.

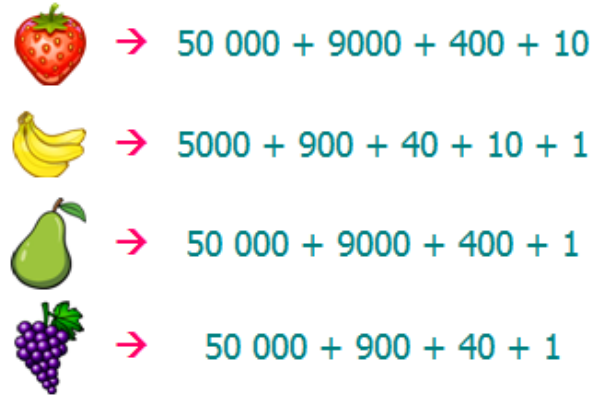
13)



Yukarıda, Ali'nin gösterdiği sayıyı **birler bölüğüne**, Ayşe'nin gösterdiği sayıyı **binler bölüğüne** yazarsak ortaya hangi sayı çıkar?

- A) 8 249                      B) 4 982  
C) 49 082                    D) 82 490

14)





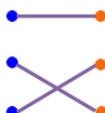

Yukarıdaki her çözümlenme bir **meyve** ile eşleştirilmiştir. Meyvelerden hangisi 59 401 sayısına eşittir?

- A)                       B)   
C)                       D) 

- 15) 

8966	•	8950	•
8961	•	8970	•
8954	•	8960	•

Yukarıdaki sayılarla en yakın **onluğa** yuvarlanmış halleri eşleştirildiğinde ortaya nasıl bir şekil çıkar?

- A)  B) 
- C)  D) 

- 16) 

★ 3794 ⇒ 3800
★ 1545 ⇒ 1600
★ 4444 ⇒ 4400
★ 7051 ⇒ 7000

Tablodaki en yakın **yüzlüğe** yuvarlamalardan kaç tanesi doğrudur?

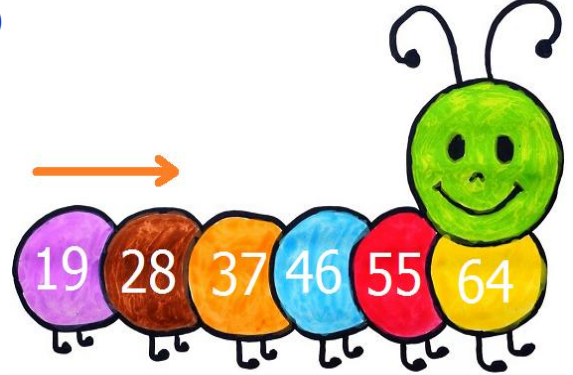
- A) 4 B) 1  
C) 3 D) 2

- 17) 

 H	 S	 T	 R
--	--	--	--

Yukarıda her biri bir **harfe** bağlı olan sayıların büyükten küçüğe doğru dizilişi aşağıdakilerden hangisidir?

- A) S – R – H – T B) R – H – S – T  
C) R – H – T – S D) S – R – T – H

- 18) 

Aşağıdaki sayı örüntülerinden hangisinin **kuralı** tırtıldaki örüntü ile aynıdır?

- A) 10 – 17 – 24 – 31 – 38 – 45  
B) 25 – 35 – 45 – 55 – 65 – 75  
C) 33 – 42 – 51 – 60 – 69 – 78  
D) 46 – 52 – 58 – 64 – 70 – 76

- 19) 

4835 + 1762 ----- <b>İMZA</b>
--

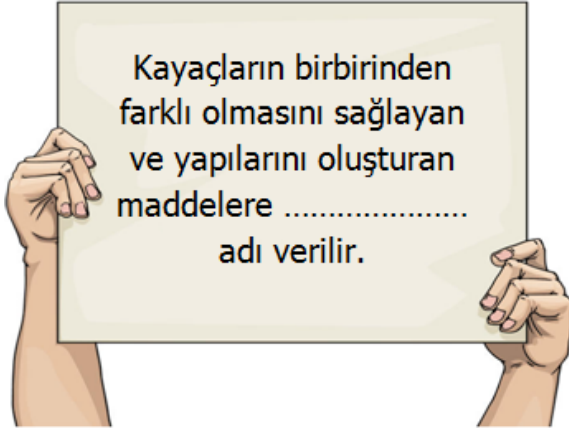
Yukarıda verilen toplama işlemine göre **AZİM** kelimesi aşağıdakilerden hangisidir?

- A) 6597 B) 7965  
C) 5679 D) 9765

- 20) Rakamları farklı dört basamaklı en büyük sayıdan **6524** çıkarırsak sonuç kaç olur?

- A) 3475 B) 4256  
C) 2345 D) 3352

21)



Yukarıdaki açıklamada **noktalı** yere aşağıdaki kelimelerden hangisi gelmelidir?

- A) Çakıl                      B) Maden  
C) Mineral                    D) Fosil

22) ★ Ülkemizde en çok bulunan madenlerden biridir.

★ Uzay teknolojisinde, askeri sanayide, tıpta, elektrik sektöründe ve sanayi camlarının üretiminde kullanılmaktadır.

★ Ayrıca bilgisayar teknolojisinde, inşaat sektöründe ve yalıtım amaçlı kullanılan ürünlerin üretiminde kullanılmaktadır.

★ Bu madenin dünya rezervlerinin yüzde 72'si ülkemizde bulunmaktadır.

Yukarıda özellikleri verilen **maden** aşağıdakilerden hangisidir?

- A) Bor                              B) Altın  
C) Gümüş                        D) Demir

23)

Canlı bir varlıktan fosile dönüşmek çok kısa sürede olur.



Fosillerin çoğu ya ağaçlara ya da ormanda yaşayan hayvanlara aittir.



Fosillerin neredeyse tamamı üst üste birikimlerle oluşan kayaçların içinde bulunur.



Yukarıdaki cümlelerden doğru olana **D**, yanlış olana **Y** yazarsak nasıl bir görüntü oluşur?

- A) 

D
D
D

    B) 

Y
D
D

    C) 

Y
Y
D

    D) 

Y
Y
Y

24)

Kulak Parçası	Diş	Et
Boynuz	Göz	Kemik

Bir canlının, fosil oluşmayan organlarını boyarsak ortaya nasıl bir **şekil** çıkar?

- A) 

	■	
■		■



    B) 

■		■
	■	
- C) 

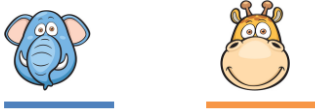
	■	■
	■	

    D) 

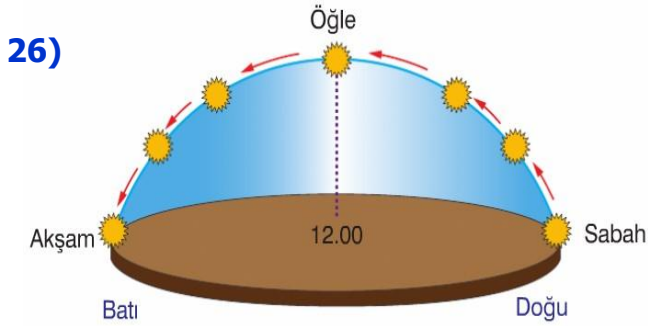
■	■	■

- 25) Dünya'nın kendi eksenini etrafındaki hareketi → 
- Dünya'nın Güneş etrafındaki hareketi → 

Yukarıdaki her cümle bir **hayvan** ile eşleştirilmiştir. Buna göre aşağıdakilerden hangisi doğrudur?



- A) Dönme - Dönme  
B) Dolanma - Dolanma  
C) Dönme - Dolanma  
D) Dolanma - Dönme

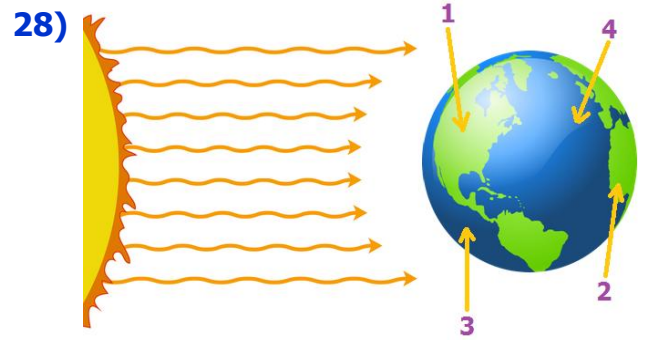


Yukarıdaki fotoğrafa göre Güneş'in gün içinde **farklı** saatlerde, **farklı** yerlerde olmasının sebebi nedir?

- A) Güneş'in kendi etrafında dönmesi  
B) Dünya'nın Güneş etrafında dolanması  
C) Güneş'in Dünya'nın etrafında dolanması  
D) Dünya'nın kendi etrafında dönmesi

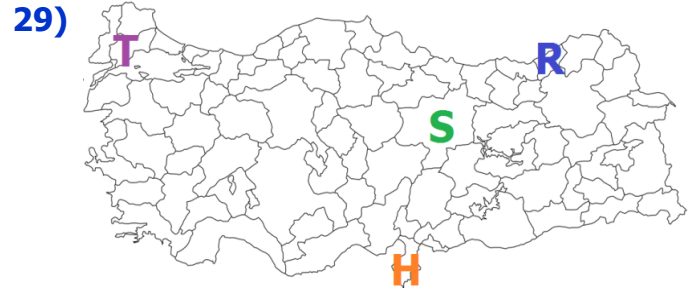
27) Dünya, kendi eksenini etrafında **3 tam dönüşünü** ne kadar sürede tamamlar?

- A) 3 gün  
B) 3 yıl  
C) 1 yıl  
D) 1 gün



Yukarıdaki durumda hangi bölgelerde **gündüz** yaşanmaz?

- A) 1 - 3  
B) 2 - 4  
C) 2 - 3  
D) 1 - 4











Yukarıda baş harfleri verilen şehirlerden hangisinde güneş daha **geç** doğar?

- A) Sivas  
B) Hatay  
C) Tekirdağ  
D) Rize

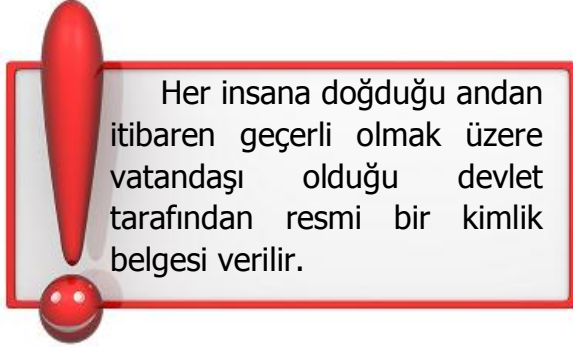


Şekillerle eşleştirilen **zaman** birimlerinden hangileri Dünya'nın Güneş etrafında 1 tam tur atmasıyla oluşur?

- A)  ve   
B)  ve   
C)  ve   
D)  ve 



31)



Aşağıdaki sorulardan hangisinin cevabını **kimlik** kartlarına bakarak bulamayız?

- A) Bu kişinin cinsiyeti nedir?
- B) Bu kişinin ilgi alanları nelerdir?
- C) Bu kişi hangi tarihte doğmuştur?
- D) Bu kişinin annesinin adı nedir?

32)



Bebekleri dünyaya gelen Ersoy ailesi, **kimlik kartı** için nereye müracaat etmelidir?

- A) İlçe Emniyet Müdürlüğü
- B) Nüfus ve Vatandaşlık İşleri Müdürlüğü
- C) Tapu ve Kadastro Müdürlüğü
- D) İlçe Milli Eğitim Müdürlüğü

33)

	2008'de öğretmenliğe başladı
	2013 yılında evlendi.
	1986 yılında doğdu.
	2015 yılında baba oldu.

Yukarıda **Ayhan'ın** hayatıyla alakalı bazı bilgiler verilmiştir.

Her biri bir okul eşyası ile eşleştirilen bilgilerin **kronolojik** sıralaması aşağıdakilerden hangisidir?

1.      2.      3.      4.
- A)
  - B)
  - C)
  - D)

34)

Boyumuz	Ten Rengimiz
Kilomuz	?

Fiziksel özelliklere örnekler veren **Ali**, soru işareti bulunan kutuya hangisini yazabilir?

- A) İlgi Alanlarımız
- B) Yeteneklerimiz
- C) Yüz Şeklimiz
- D) Duygularımız

- 35) I. Herkes basketbolu sever.  
II. Büyüdükçe duygularımız değişir.  
III. Engelli insanlar spor yapamaz.  
IV. İlgi ve ihtiyaçlarımız farklı olabilir.

Yukarıdaki bilgilerden hangileri yanlıştır?

- A) I ve III  
B) I, II, III ve IV  
C) II ve IV  
D) I, II ve III

36)



Resimdeki **Seda** ve **Fatih** için aşağıdaki ifadelerden hangisini söyleyebiliriz?

- A) Cinsiyetleri aynıdır.  
B) Fiziksel özellikleri aynıdır.  
C) Her ikisi de müziğe ilgi duyar.  
D) Her ikisi de resim yapmayı sever.

37)

Kendi görüşümüze ve çoğunluğun görüş biçimine aykırı düşen görüşlere sabırla, hem de yan tutmadan katlanma demektir.

Yukarıda **sözlük** anlamı verilen kelime aşağıdakilerden hangisidir?

- A) Empati  
B) Doğruluk  
C) Dayanışma  
D) Hoşgörü

38)



Otobüste ayakta kalan yaşlı bir bireyi gören **Levent**, hemen o kişiye yer vermiştir.

Buna göre **Levent** ile ilgili aşağıdakilerden hangisini söyleyebiliriz?

- A) Yardımsever ve saygılı bir çocuktur.  
B) Yaşlılardan çok korkmaktadır.  
C) Sorumluluk sahibi değildir.  
D) Yaptığı iyiliklere karşılık bekler.

39) Aşağıdaki cümlelerden hangisi empati kavramına **zıt** bir ifadedir?

- A) Engelli bir bireye yardımcı olmak  
B) Gözlük takan biriyle konuşmamak  
C) Farklı fikirleri olan kişilere saygılı olmak  
D) Fiziksel özelliklerle dalga geçmemek

40) İnsanlara karşı **saygılı** ve **nazik** olan bir kişi aşağıdaki ifadelerden hangisini kullanmaz?

- A) Teşekkür ederim  
B) Özür dilerim  
C) Beni ilgilendirmesin  
D) Kusura bakmayın



# CEVAP ANAHTARI

TÜRKÇE	MATEMATİK	FEN BİL.	SOSYAL BİL.
1) C	11) D	21) C	31) B
2) B	12) B	22) A	32) B
3) D	13) C	23) C	33) D
4) A	14) B	24) B	34) C
5) B	15) A	25) D	35) A
6) C	16) D	26) D	36) C
7) A	17) A	27) A	37) D
8) D	18) C	28) B	38) A
9) B	19) B	29) C	39) B
10) C	20) D	30) D	40) C