













- 1) Bir gün Nasrettin Hoca'nın eşeği çalınmış. Can sıkıntısı içinde durumu komşularına anlatınca her kafadan bir ses çıkmaya başlamış. Birisi:  
- "Hocam niye ahırın kapısına iyi bir kilit takmadın sanki?" demiş.  
Bir başkası:  
- "Evine hırsız giriyor da senin nasıl haberin olmuyor?" diye konuşmuş.  
Bir diğeri de:  
- "Hocam, kusura bakma ama eşeğin çalınmasına en büyük sebep yine sensin. Çünkü doğru dürüst bir ahırın bile yok. Nerden baksan dökülüyor."  
Hoca kızmış:  
"- Yahu iyi, güzel de kabahatin hepsi benim mi? Hırsızın hiç mi suçu yok?"

Aşağıdakilerden hangisi metnin **başlığı** olabilir?

- A) Hoca'nın Cimriliği  
B) Yardımsever Komşular  
C) Ön Yargılı İnsanlar

- 2)
- |   |       |   |       |
|---|-------|---|-------|
|  | Kasap |  | Karış |
|  | Kayıp |  | Kadın |




Yukarıda her biri bir **şekil** ile eşleştirilen kelimelerin **alfabetik** sıraya göre **doğru** dizilişi aşağıdakilerden hangisidir?

- A)  -  -  -   
B)  -  -  -   
C)  -  -  - 

- 3)
- |   |  |
|---|--|
|  Ça-na-kka-le |  me-rdi-ven |
|  zi-ra-at     |  ka-lem-lik |
|  oy-un-cak    |  Tür-ki-ye  |

Yukarıdaki **kelimelerden** kaç tanesi hecelerine **yanlış** ayrılmıştır?

- A) 2      B) 3      C) 4

- 4)  dayım Samsun'a gitmiş.  
 Benim ülkem türkiyedir.  
 Köpeğimin adını Karabaş koydum.

Her biri bir **varlık** ile eşleştirilen cümlelerden hangisinde **büyük harf** kullanımında hata **yapılmamıştır**?


- A)       B)       C) 

5)



Ünlü	o-u	a-a-o	a-o-o
Ünsüz	k-l-d-k	p-l-y-n-ç	p-n-t-l-n

Yukarıdaki tabloda verilen varlıkların hangisinin isminin **ünlü** ve **ünsüzlerinde** hata yapılmamıştır?



6)

Bahar geldi mi çiçekler açar ( )  
Ağaçlar ( ) hayvanlar ve böcekler  
neşe saçarlar ( ) Bahar olunca  
insanlar ne hissederler ( )

Cümlelerde **parantez** içlerine sırasıyla hangi **noktalama** işaretleri gelmelidir?

- A) ( ? ) ( , ) ( , ) ( . )  
B) ( ? ) ( , ) ( , ) ( ? )  
C) ( . ) ( , ) ( . ) ( ? )

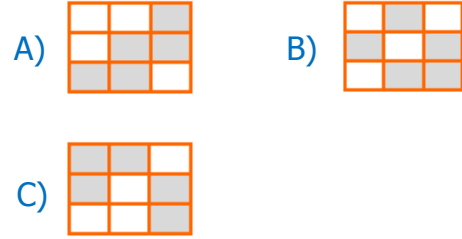
7) Aşağıda verilen cümlelerin hangisinde, **noktalama işaretlerinin** kullanımında hata vardır?

- A) Ali eve gitti mi bilmiyorum.  
B) Eyvah. kapının anahtarı içeride kaldı!  
C) Beni iş yerinden alamaz mısın?

8)

laylon	kiprik	sarımsak
şöför	sürpriz	yalnız
yanlış	film	çenber

Tablodaki kelimelerden **doğru** yazılanları boyarsak ortaya nasıl bir şekil çıkar?



9)



Yazı içerisinde geçen konuşmalarda, konuşanın değiştiğini belirtmek için satır başlarında kullanılmaktadır.

Yukarıdaki açıklamada belirtilen noktalama işareti aşağıdakilerden hangisidir?

- A) Ünlem İşareti  
B) Konuşma Çizgisi  
C) Tırnak İşareti

10)

Yalnız senin gölgede,  
Rahat uyuyacağım.  
Sevgini içtenlikle,  
Kalbime kazıyacağım.  
Benim şanlı bayrağım!

**Şiirle** ilgili hangisi doğrudur?

- A) 5 kıta – 5 dizeden oluşmaktadır.  
B) 5 kıta – 1 dizeden oluşmaktadır.  
C) 1 kıta – 5 dizeden oluşmaktadır.


11)



Aşağıdaki sayılardan hangisi, **hayvanların** gösterdiği sayılardan biri değildir?

- A) Altı yüz kırk dört
- B) Altı yüz yirmi dört
- C) Altı yüz dört

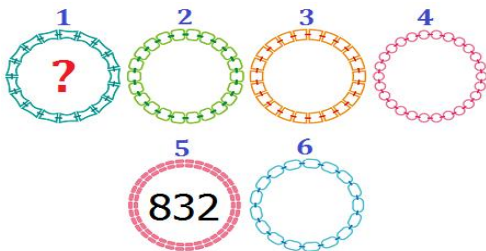
12)



Merve 1. balondaki 368 sayısından başlayıp **10ar ritmik** saymak istiyor. Buna göre aşağıdaki bilgilerden hangisi yanlıştır?

- A) 3 numaralı balona 388 yazacaktır.
- B) 5 numaralı balona 418 yazacaktır.
- C) 2 numaralı balona 378 yazacaktır.

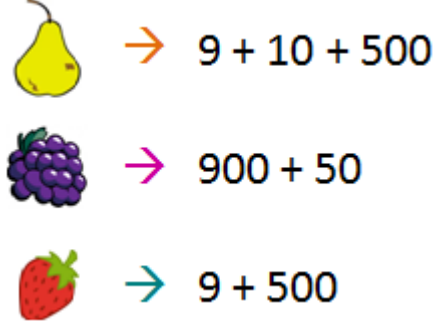
13)



**İleri** doğru yüzer ritmik sayarken 5. sayı 832 olduğuna göre ilk (1.) sayı kaçtır?

- A) 872
- B) 552
- C) 432

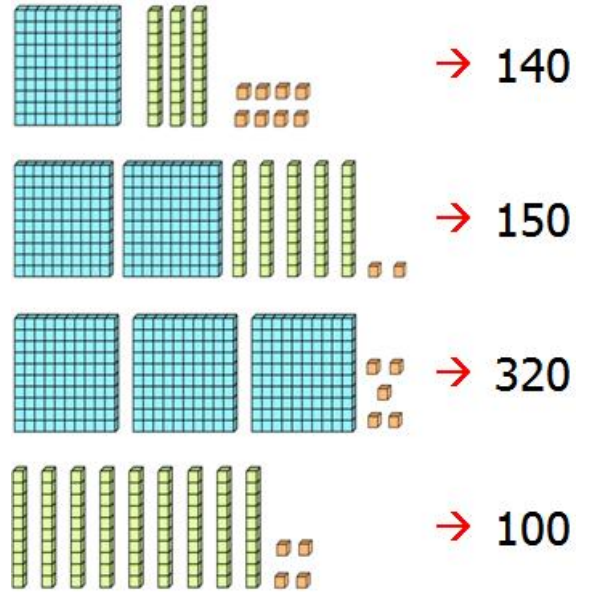
14)



Yukarıdaki her çözümleme bir **meyve** ile eşleştirilmiştir. Meyvelerden hangisi **509** sayısına eşittir?

- A)
- B)
- C)

15)



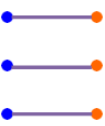


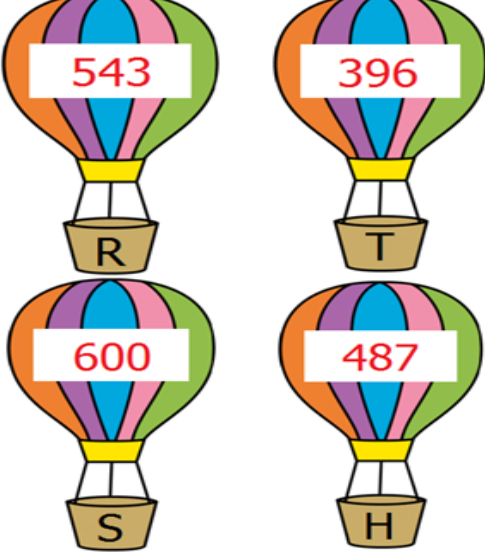
Yukarıda yüzlük, onluk ve birlik blokları verilen sayılar en yakın **onluklarına** yuvarlanmıştır. Bu yuvarlamalardan kaç tanesi hatalıdır?

- A) 1
- B) 2
- C) 3

- 16) Beş yüz seksen bir • 500  
 Yedi yüz on dört • 600  
 Dört yüz elli bir • 700

Yukarıda okunuşu verilen sayılarla, en yakın **yüzlüğe** yuvarlanmış halleri eşleştirildiğinde ortaya nasıl bir şekil çıkar?

- A)  B)   
 C) 

- 17) 

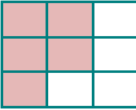
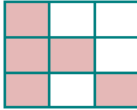
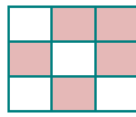
Sıcak hava balonlarında, her biri bir **harfle** eşleştirilen sayıların büyükten küçüğe doğru dizilişi aşağıdakilerden hangisidir?

- A) S – R – H – T B) R – S – H – T  
 C) T – H – R – S

18)

29	50	112
77	91	36
285	574	803

Tablodaki sayılardan **tek sayı** olanların kutularını boyarsak ortaya nasıl bir şekil çıkar?

- A)  B)   
 C) 

- 19) 

Yukarıda **Aslı** ve **Serhat** yaşlarını söylemişlerdir. Buna göre her ikisinin yaşlarının Romen rakamıyla yazılışı aşağıdakilerden hangisidir?

- SERHAT      ASLI  
 A) VIII - XVI  
 B) XV - XI  
 C) IX - XV

- 20) Üç basamaklı en büyük çift sayı ile üç basamaklı en küçük tek sayının toplamı kaçtır?

- A) 897 B) 998 C) 1099

21)

Samsun'dan kalkan bir uçak sürekli aynı yöne doğru gittiğinde tekrar Samsun'a ulaşır.

Açıklamada verilen **durum**, aşağıdakilerden hangisini ispatlar?

- A) Dünya'nın sularla kaplı olduğunu
- B) Dünya'nın şeklinin küreye benzediğini
- C) Dünya'nın düz bir levhaya benzediğini

22)



Bize göre Dünya, etrafını bir nehrin çevrelediği düz tepsi biçiminde bir kara parçasıdır.

Yukarıda Dünya'nın **şekli** ile ilgili görüş öne süren kişi hangi uygarlığı temsil etmektedir?

- A) Eski Hintliler
- B) Eski Mısırlılar
- C) Eski Yunan Düşünürler

23) Aşağıdakilerden hangisi **Dünya'nın** katmanlarından biri değildir?

- A) İç Çekirdek
- B) Palto
- C) Yer Kabuğu

24)



**Dünya** ile ilgili aşağıda verilen bilgilerden hangisi doğrudur?

- A) Dünya'yı saran hava tabakası yaşam için gerekli oksijeni bulundurur.
- B) Dünya üzerindeki kara alanları, su alanlarından fazladır
- C) Hava katmanı, kara ve su katmanlarıyla temas halinde değildir.

25)

Dünyanın etrafını ince bir battaniye gibi sarar

Dünya üzerinde mavi renkte görünen katmandır.

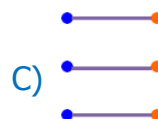
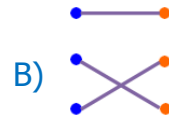
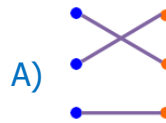
Dünya üzerinde yeşil, sarı ve kahverengi görünen katmandır

Hava

Su

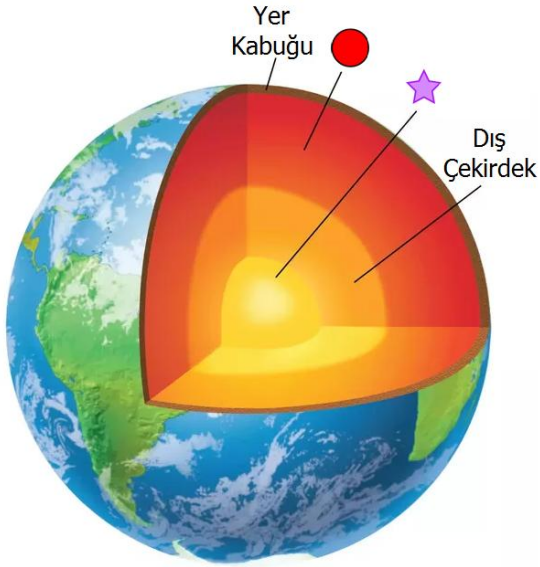
Kara

Yukarıdaki açıklamalar ile katmanların doğru eşleştirilmesi nasıl olmalıdır?





26)



Yukarıda şekillerle eşleştirilen **katmanlar** hangileridir?



- A) İç Çekirdek - Manto  
B) Manto - İç Çekirdek  
C) Taş Küre - Ateş Küre

27)



Elinin bir sivrisinek tarafından ısırıldığını hisseden Merve sivrisineği gördü fakat yakalayamadı. Buna göre Merve sırasıyla hangi **duyu organlarını** kullanmıştır?

- A) Deri – Göz  
B) Burun – Deri  
C) Göz – Kulak

28)



Yukarıdaki resimlerde hangi **duyuya** yer verilmemiştir?

- A) Hissetme  
B) Koklama  
C) Tat Alma

29)



Kulaklıkla çok yüksek sesle müzik dinleyen Gülşah aşağıdaki **sorunlardan** hangisini yaşar?

- A) Müzik dinlemekten sıkılmaya başlar.  
B) Kulaklık bir süre sonra bozulur.  
C) Bir süre sonra kulak zarı zarar görür.

30) Aşağıdaki bilgilerden hangisi yanlıştır?

- A) Güneşe çıplak gözle bakmamalıyız.  
B) Burun temizliğine dikkat etmemeliyiz.  
C) Kulak sert cisimle karıştırılmamalıdır.

31)



**Seda** boş zamanlarında keman çalmayı severken, **Akif** ise boş zamanlarında resim yapmaktan hoşlanmaktadır. Buna göre aşağıdaki ifadelerden hangisi yanlıştır?

- A) İnsanların ilgileri farklı olabilir.
- B) Kişilerin seçimlerine saygı duymalıyız.
- C) Güçlü ve güçsüz yönlerimiz aynıdır.

32)



Yukarıdaki **dağınık** odada kalan biri için aşağıdakilerden hangisi söylenbilir?

- A) Düzensiz ve plansızlık onun hayatını olumsuz etkileyebilir.
- B) Bazı insanlar için temiz ve düzenli olmak gerekli değildir.
- C) Odamız dağınık olsa da birileri bizim yerimize dağınıklığı toplamalıdır.

33)



**Fatih**, kendisinden zayıf olduğu için arkadaşı **Ali** ile dalga geçmektedir. Buna göre Fatih'in bu davranışını **önlemek** için aşağıdakilerden hangisini yapmalıyız?

- A) Farklılıklara saygı duyulması gerektiğini anlatmalıyız.
- B) Ali'ye çok yemek yemesi gerektiğini söylemeliyiz.
- C) Fatih'in de dalga geçilecek bir özelliğini bulmalıyız.

34)


**Arkadaşlıkla** alakalı ifadelerden hangisi doğrudur?

- A) Arkadaşlarımızın kötü alışkanlıklarını görmezden gelmeliyiz.
- B) Arkadaşlarımızın iyi gününde olduğu gibi kötü günlerinde de yanlarında olmalıyız.
- C) Arkadaşlık bağımızın artması için hoşgörü ve saygıya gerek yoktur.

35)

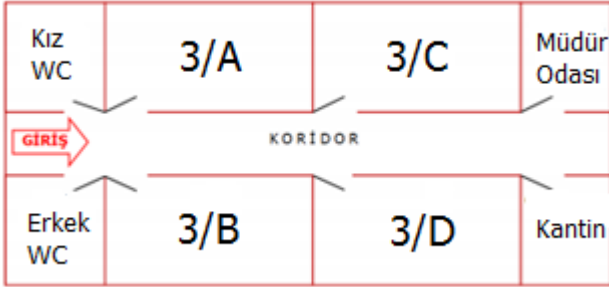
Gamze'nin kendisi kadar güzel resim yapamayan arkadaşına hangi **cümleyi** kullanması uygun olmaz?

- A) Çok çalışarak güzel resimler yapabilirsin.
- B) Resimde başarılı olacağına inanıyorum.
- C) Bence zamanını boşa harcıyorsun.

- 36)  Birbirimize her zaman kibar davranmamız gerekmez.
-  Birbirimizin sorunlarına karşı duyarlılık göstermemeliyiz.
-  Arkadaşlarımızla dayanışma ve yardımlaşma içinde olmalıyız.

Hangi öğrencinin önerisi arkadaşlık ilişkilerinin **güçlenmesini** sağlar?

- A) Meta B) Sude C) Eda



37. ve 38. soruları krokiye göre cevaplayınız.

- 37) Aşağıdakilerden hangisi **krokisi** verilen alanda bulunmamaktadır?

- A) Müdür Odası  
B) 3/C Sınıfı  
C) Öğretmenler Odası

- 38) Girişten müdür odasına doğru ilerleyen birinin solunda 3/A sınıfı varken **sağında** ne vardır?

- A) 3/B Sınıfı vardır.  
B) Kantin vardır.  
C) 3/D Sınıfı vardır.



Öğretmenlerinden **ağaçların** faydalarını öğrenen öğrenciler, gruplar halinde okulun çevresini ağaçlandırmaya karar verdiler.

Buna göre aşağıdakilerden hangisi bu öğrencilerin özelliklerindedir?

- A) Kuşkucu, sorunlu ve çıkarıcı  
B) Sorumlu, yardımsever ve duygusal  
C) İnatçı, seçici ve güvenilmez



Okul çapında başlatılan yardım kampanyasına öncülük eden **Mert** ve **Ali**, yürüme engelli arkadaşlarına tekerlekli sandalyesini teslim etmişlerdir.

Yardım kampanyası ile ilgili aşağıdakilerden hangisi söylenemez?

- A) Sosyal yardımlaşma ve dayanışma içerir.  
B) Okulun ihtiyaçlarını temin eder.  
C) Çocukların empati duygularını besler.



# CEVAP ANAHTARI

TÜRKÇE	MATEMATİK	FEN BİL.	HAYAT BİL.
1) C	11) A	21) B	31) C
2) B	12) B	22) C	32) A
3) B	13) C	23) B	33) A
4) A	14) B	24) A	34) B
5) A	15) C	25) C	35) C
6) C	16) A	26) A	36) B
7) B	17) A	27) A	37) C
8) A	18) B	28) B	38) A
9) B	19) C	29) C	39) B
10) C	20) C	30) B	40) B