

Soru işareti yerine hangi sayı yazılmalıdır?

- A) 30 B) 10 C) 20

2) Aşağıda verilen işlemlerden hangisi doğrudur?

- A) $60-40 = 20$
 B) $90-80 = 20$
 C) $70-30 = 20$

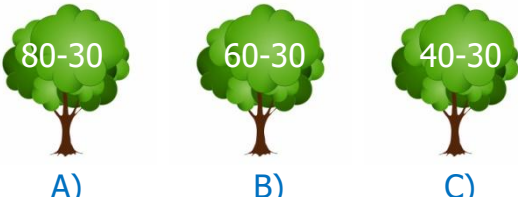


Aslanlar ile kaplanların yapmış olduğu basketbol maçının sonucu yukarıda verilmiştir.

Kaplanlar maçı kaç sayı farkla kazanmıştır?

- A) 40 B) 20 C) 30

4) Hangi işlemin sonucu en fazladır?



5) $\begin{array}{r} 8 \text{ onluk } 0 \text{ birlik} \\ - 6 \text{ onluk } 0 \text{ birlik} \\ \hline \end{array}$


Yanda verilen işlemin yan yana yazılışı hangi seçenekte doğru verilmiştir?

- A) 68-60 B) 86-60 C) 80-60

6) Çantanın fiyatı toptan kaç ₺ fazladır?



- A) 20 ₺
 B) 30 ₺
 C) 40 ₺



Bir bakkal, elindeki 40 yumurtanın önce 20 tanesini, sonra da 10 tanesini sattı.

Geriye kaç yumurta kalır?

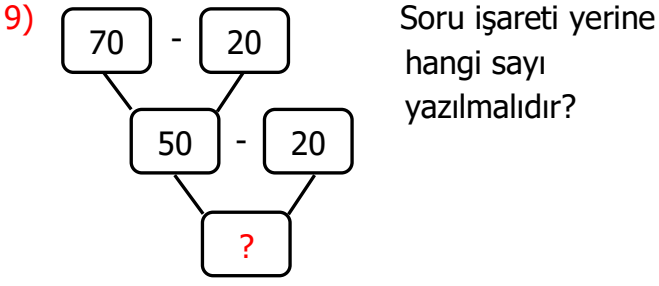
- A) 30 B) 20 C) 10

8) Bir kümeste 50 tavuk ve tavuklardan 10 eksik civciv vardır.



Civcivlerin sayısı kaçtır?

- A) 40 B) 10 C) 50



- A) 20 B) 50 C) 30

10) Aşağıdaki öğrencilerin hangisinin yapmış olduğu işlemin sonucu yanlıştır?

- A) $80 - 30 = 20$
- B) $80 - 40 = 40$
- C) $80 - 50 = 30$

11) 80 sayfalık defterin 30 sayfasını yazdım. Geriye kaç sayfa kalmıştır?



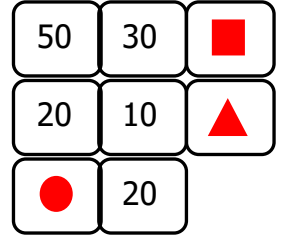
- A) 30 B) 40 C) 50

12) Bir otobüste 60 tane koltuk vardır.

Bu koltuklardan 40 tanesi dolu olduğuna göre otobüste kaç tane boş koltuk kalmıştır?

- A) 60 B) 20 C) 40

13) Yandaki şekilde zihinden çıkarma işlemi yaptığımızda \blacksquare , \blacktriangle , \bullet yerine hangi sayılar yazılmalıdır?



- | | | |
|----------------|------------------|-----------|
| \blacksquare | \blacktriangle | \bullet |
| A) 20 | 10 | 30 |
| B) 30 | 20 | 30 |
| C) 10 | 20 | 30 |

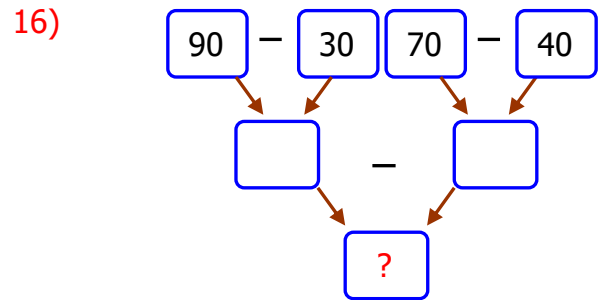
14) Bir baloncu elindeki 70 balondan 50 tanesini satmıştır. Baloncunun elinde kaç balonu kalmıştır?



- A) 70 B) 50 C) 20

15) Aşağıdaki işlemlerden hangisinin sonucu en küçüktür?

- A) $90 - 10 = ?$
- B) $90 - 30 = ?$
- C) $90 - 20 = ?$



- A) 30 B) 20 C) 40