


Varlıkların Hareket Özellikleri

1) Aşağıdaki varlıklardan hangisi kendiliğinden hareket edemez?



2) 1.Durağa yaklaşan minibüs
2.Kalkışa geçen uçak

Yukarıdaki varlıkların yaptığı hareket türleri aşağıdakilerden hangisinde doğru verilmiştir?

1.

2.

- | | |
|--------------|-----------|
| A) Hızlanma | Yavaşlama |
| B) Hızlanma | Hızlanma |
| C) Yavaşlama | Hızlanma |

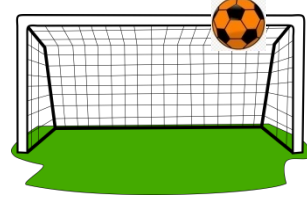
3)



Yukarıdaki görselde verilen hareketi türleri ile aşağıdakiler eşleştirildiğinde hangisi dışarda kalır?

- A) Sallanma
B) Hızlanma
C) Dönme

4)




Kale direğine çarpıp geri dönen topun yaptığı hareket aşağıdakilerden hangisidir?

- A) Sallanma
B) Yön değiştirme
C) Dönme


5) Aşağıdakilerden hangisi yanlıştır?

- A) Top oynayan çocuklar → Hareketli
B) Saatin yelkovanı → Hareketli
C) Otoparktaki otomobil → Hareketli

6)



I.



II.



III.

Yukarıdaki görsellerin hangisinde dönme hareketi vardır?

- A) I. B) II. C) III.

7)



Görsele göre otomobilin hareketi ile ilgili aşağıdaki yorumlardan hangisi yapılabilir?

- A) Yön değiştirme hareketi yapabilir.
- B) Yavaşlama hareketi yapabilir.
- C) Sallanma hareketi yapabilir

8) Havaalanından kalkışa geçen uçağın hareketi için aşağıdakilerden hangisi söylenebilir?

- A) Dönme
- B) Hızlanma
- C) Yön değiştirme


9)



Yukarıdaki varlıklardan hangileri dışarıdan bir etki olmadıkça hareket etmez?

- A) ★ ▲
- B) ▲ ■
- C) ★ ▲ ■

10) Aşağıdakilerden hangisinin hareketi farklıdır?



11) Yandaki saatin sarkacının yaptığı hareket hangi seçenekte verilmiştir?



- A) Yön değiştirme
- B) Hızlanma
- C) Sallanma

12)

- Mutfak mikserinin hareketi
- ★ Saatin yelkovanının hareketi
- ▲ Limandan uzaklaşan gemini hareketi

Yukarıda verilen hareketlerin hangisinde dönme hareketi vardır?

- A) ■ ★
- B) ■ ▲
- C) ▲ ★

13) Aşağıdakilerden hangisi yön değiştirme hareketi yapar?

- A) Musluktan akan su
- B) Tenis raketine çarpıp dönen top
- C) Yukarı atılan top

14) Kızakla yokuş aşağı kayan Ali'ni yaptığı hareket aşağıdakilerden hangisidir?

- A) Yön değiştirme
- B) Hızlanma
- C) Yavaşlama



CEVAP ANAHTARI

1) B

2) C

3) C

4) B

5) C

6) A

7) A

8) B

9) C

10) A

11) C

12) A

13) B

14) B

15)

16)

17)

18)

19)

20)