

1)

Hoca akşamleyin eve doğru yürürken, baklava seven bir köylüyle karşılaşır.

- Hoca, kısa bir süre önce bir adam büyük bir tepsi baklava götürüyordu.
- Beni ilgilendirmez!
- Fakat adam tepsiyi sizin eve götürüyordu.
- O zaman seni ilgilendirmez!













Yukarıdaki metne göre **Hoca** kiminle konuşmaktadır?

- A) Resmi seven bir öğrenci
- B) Baklava seven bir köylü
- C) Parayı seven bir cimri

2)






Yukarıda her biri bir **şekil** ile eşleştirilen kelimelerin **alfabetik** sıraya göre doğru dizilişi aşağıdakilerden hangisidir?

- A)  -  -  - 
- B)  -  -  - 
- C)  -  -  - 

3)



Yukarıdaki **kilitleri**, sadece **eş anlamını** içeren anahtar açmaktadır. Buna göre hangi kilit açılmaz?

- A)  çaba
- B)  rüya
- C)  hatıra

4)



Yukarıdaki çocuklardan hangisi, **güzel** ve **korkak** kelimelerinin **zıt** anlamlarını doğru söylemiştir?

- A) Selim
- B) Gülşah
- C) Merve



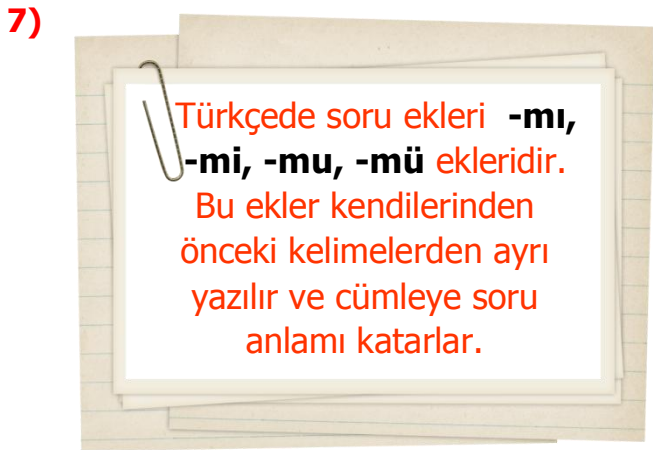
Yukarıda her biri bir **harf** ile eşleştirilen kelimelerden anlamalı bir cümle kurmak istersek harfler nasıl sıralanır?

- A) T – H – S – R B) H – S – R – T
C) S – R – H – T

6) Zeynep () Gökhan ve Veli okula gelmedi () Neden okula gelmediklerini bilmiyorum ()

Cümlelerde **parantez** içlerine sırasıyla hangi **noktalama** işaretleri gelmelidir?

- A) (.) (.) (?) B) (,) (.) (!)
C) (,) (.) (.)



Aşağıdaki cümlelerden hangisinde, yukarıda verilen açıklamaya uyulmamıştır?

- A) Okul kurallarına uyuyormu sun?
B) Yarışmaya sen de katıldın mı?
C) Halam düğüne gelmemiş miydi?



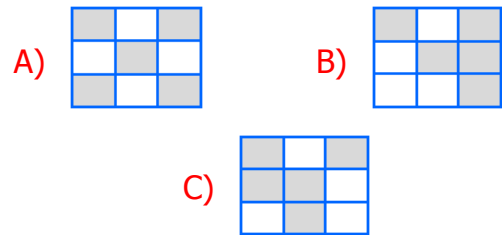
Yukarıdaki kişilerin söyledikleri kelimelerden kaç tanesinin yazımı yanlıştır?

- A) 3 B) 4 C) 5

9)

Serhat	Meyve	Ankara
Mont	Yasemin	Telefon
Minnoş	Halı	Türkçe

Tablodaki kelimelerden **özel isim** olanları boyarsak ortaya nasıl bir **şekil** çıkar?



10) Aşağıdaki noktalama işaretlerinden hangisi cümlenin sonuna getirilmez?

- A) Virgül B) Soru İşareti
C) Ünlem İşareti


11) 2



3



1



Her biri **numaralandırılan** tablolardan hangisinde nesne sayısı diğerlerinden daha azdır?

- A) 1 B) 2 C) 3

12)

2 onluk + 8 birlik



28

7 birlik + 3 onluk



73

6 onluk



6

5 birlik + 9 onluk

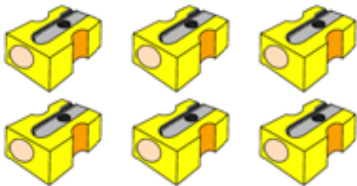


59

Yukarıda verilen **eşleştirilmelerden** kaç tanesinde hata yapılmıştır?

- A) 1 B) 2 C) 3

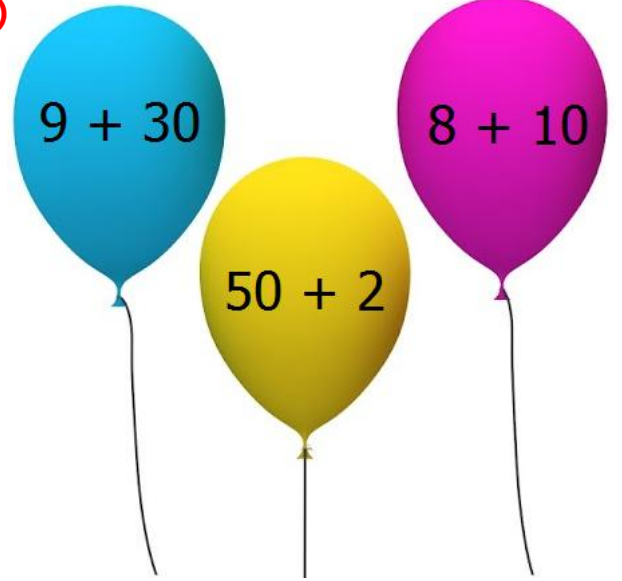
13)



Yukarıdaki açacaklara aynı özellikte kaç açacak daha eklersek **1 deste** açacak olur?

- A) 2 B) 4 C) 6

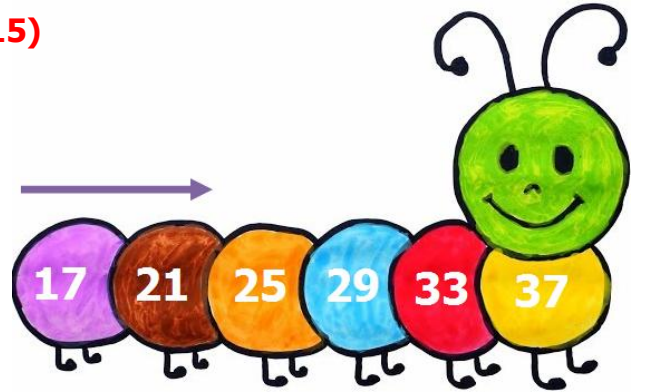
14)



Aşağıdaki sayılardan hangisinin **basamak değerleri** yukarıdaki balonlardan herhangi birinde yoktur?


- A) Seksen bir B) Elli iki
C) Otuz dokuz

15)



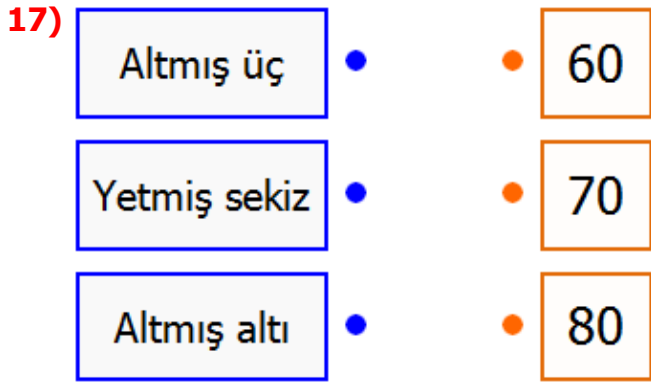
Aşağıdaki sayı örüntülerinden hangisinin **kuralı** tırtıldaki örüntü ile aynıdır?

- A) 10 – 15 – 20 – 25 – 30 – 35
B) 38 – 42 – 46 – 50 – 54 – 58
C) 27 – 30 – 33 – 36 – 39 – 42

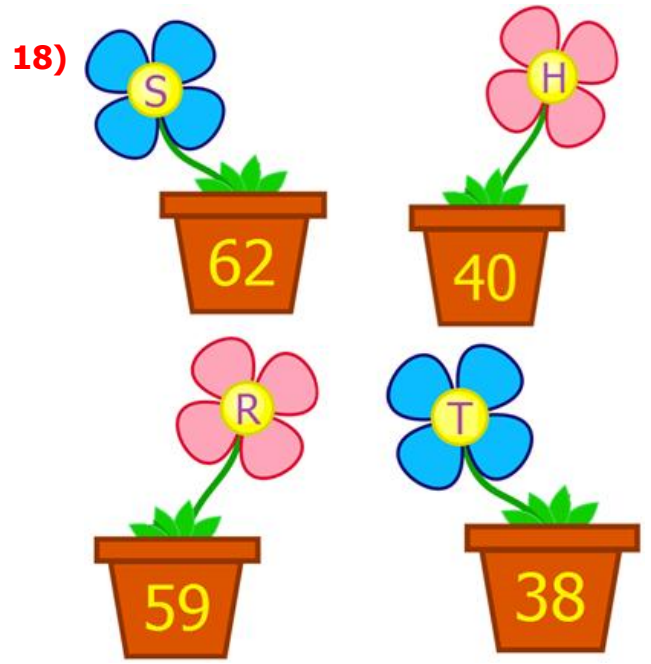
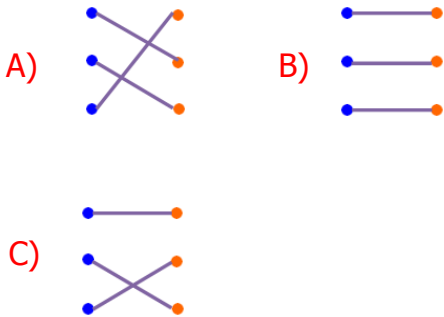


İleri doğru beşer ritmik sayarken **5.** sayı 85 olduğuna göre ilk (**1.**) sayı kaçtır?

- A) 65 B) 70 C) 75



Yukarıda okunuşu verilen sayılarla, en yakın **onluğa** yuvarlanmış halleri eşleştirildiğinde ortaya nasıl bir şekil çıkar?



Çiçekleri bir **harfle** eşleştirilen vazoların, üstündeki sayıların büyükten küçüğe doğru dizilişi aşağıdakilerden hangisidir?

- A) R – S – H – T B) S – R – H – T
C) T – H – R – S

19) 5 **onluk** ve 3 **birlikten** oluşan sayı ile 2 **birlik** ve 4 **onluktan** oluşan sayıyı toplarsak sonuç kaç olur?

- A) 77 B) 95 C) 99



Çanta ve **top** alan bir kişi kaç lira para ödemelidir?

- A) 82₺ B) 85₺ C) 92₺

21)



Öğretmenin " Fiziksel özelliklerimize kim örnek verebilir? " sorusuna cevap veren **Ayşe**, başka hangi örneği verebilir?

- A) Yüz şeklimiz B) İlgilerimiz
C) Duygularımız

22)




Samet ve Can, gözlük taktığı için Hasan ile alay etmektedirler.

Samet ve Can'ı nasıl uyarmalıyız?

- A) Gözlük takan birini oyuna almak çok tehlikelidir.
B) Arkadaşlarımızı dış görünüşlerine bakarak seçmeliyiz.
C) Fiziksel özelliklere ve farklılıklara saygılı olmalıyız.

23)



Yukarıda **Berat'a** ait iki fotoğraf arasındaki fark bize neyi anlatmaktadır?

- A) Bebekler de büyük çocuklar gibi kendi başlarına yemek yiyebilir.
B) Büyüdükçe fiziksel özelliklerimizin yanında yeteneklerimiz de gelişir.
C) Biz büyüdükçe artık annelerimiz bize yemek yedirmek isteyebilir.

24) Aşağıdaki davranışlardan hangisi **kişisel bakımına** özen gösteren bir kişinin davranışlarına örnek gösterilebilir?

- A) Gece yatmadan önce kitap okumak
B) Verilen emanete gözü gibi bakmak
C) Günde üç defa dişleri fırçalamak

25) **Çarşamba** günü ders programında Hayat Bilgisi, Matematik, Türkçe, Görsel Sanatlar ve Beden Eğitimi dersleri olan **Serhat**, çantasına aşağıdakilerden hangisini koymamalıdır?

- A) Müzik Defteri B) Pastel Boya
C) Türkçe Sözlük

26)



2/A sınıfında sınıf başkanlığı için seçim yapılmaktadır.

Buna göre **bu sınıfla** ilgili aşağıdaki ifadelerden hangisi yanlıştır?

- A) Sınıf ile ilgili karar alma süreçlerine tüm öğrenciler katılmaktadır.
- B) İstedikleri aday seçilmeyen öğrenciler, seçilen başkanla konuşmayacaktır.
- C) Öğrenciler birbirlerinin seçimlerine ve fikirlerine saygı duyarlar.

27)



Cumhuriyet Bayramı ile ilgili etkinlik üretmeleri istenen öğrenciler, aşağıdaki davranışlardan hangisini yaparlarsa sorun çıkar?

- A) Farklı fikirleri saygı ile dinlemek
- B) Hep bir kişinin isteğini yapmak
- C) Görev dağılımı ve plan yapmak



28 ve 29. soruları yukarıdaki şekle göre cevaplayınız.

28) Evimin yakın çevresinde aşağıdakilerden hangisi yoktur?

- A) Manav
- B) Okul
- C) Kütüphane

29) Görsele göre aşağıdakilerden hangisi **okulun** sağında ya da solunda değildir?

- A) Market
- B) Evim
- C) Fırın

30)



Aşağıdakilerden hangisi **öğretmenin** açıklamasına zıt bir ifadedir?

- A) Okul eşyalarını temiz ve düzenli kullanmalıyız.
- B) Lamba ve muslukları gereksiz yere kullanmamalıyız.
- C) Her sene okul yenilediği için dikkatli olmamıza gerek yoktur.

CEVAP ANAHTARI

TÜRKÇE

- 1) B
- 2) C
- 3) A
- 4) B
- 5) C
- 6) C
- 7) A
- 8) B
- 9) A
- 10) A

MATEMATİK

- 11) C
- 12) C
- 13) B
- 14) A
- 15) B
- 16) A
- 17) C
- 18) B
- 19) B
- 20) A

HAYAT BİL.

- 21) A
- 22) C
- 23) B
- 24) C
- 25) A
- 26) B
- 27) B
- 28) C
- 29) A
- 30) C