



Adı Soyadı :

Numarası :

Konu: Ritmik Saymalar Etkinliği 4

Verilen sayılardan sonra birer ritmik sayma sayalım yazalım.

1	11	51
.....	22	62
.....	73
.....	34	84
.....	15
.....	46
.....	58
.....	29	99
10	40	90

Verilen sayılardan başlayarak geriye doğru birer birer ritmik sayma yazalım.

8
15
20

Tabaktaki elmaları ikişer ileriye doğru ritmik sayma ile sayalım. Altındaki boş bırakılan kutuları dolduralım.



2



.....



.....




.....



.....



.....



.....



.....



.....



.....

Aşağıda verilen sayıdan başlayarak ikişer ikişer geriye doğru sayıp yazınız.



20

.....

.....

.....

.....


.....

.....


.....

.....

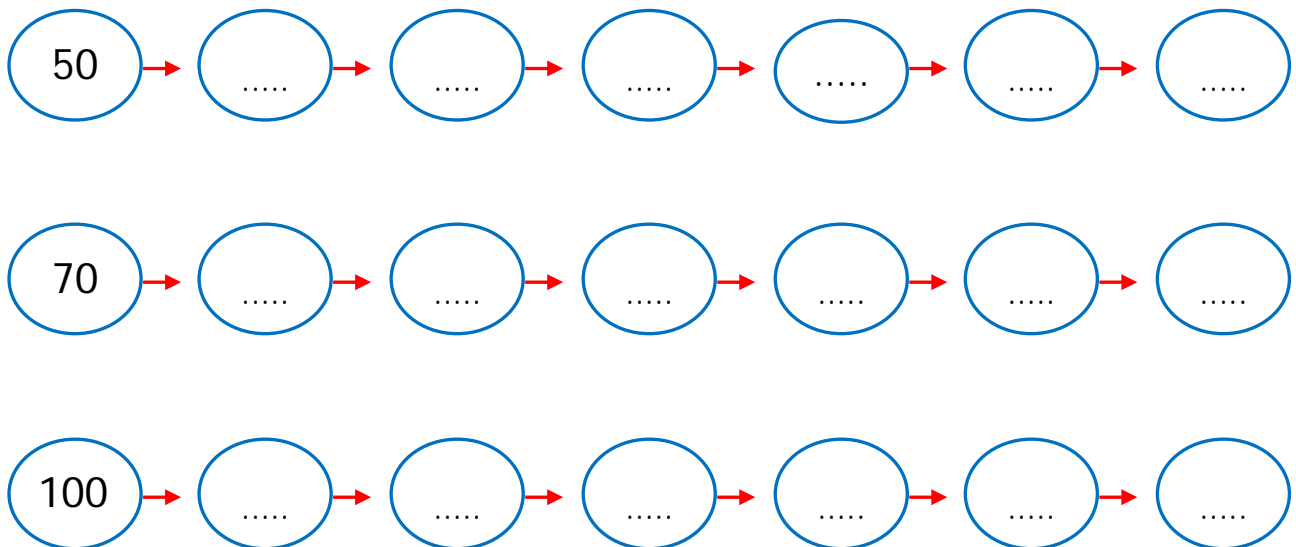
.....




Parmakları 100'e kadar beşer ritmik sayalım. Noktalı yerlere yazalım.



Verilen sayılardan başlayarak geriye doğru beşer beşer ritmik sayma yazalım.



Elmaları 100'e kadar onar ritmik sayalım. Noktalı yerlere yazalım.




10

.....

.....

.....

.....



.....

.....

.....

.....

.....

Verilen sayılardan başlayarak geriye doğru onar onar ritmik sayma yazalım.

