

Soru işareti yerine hangi sayı yazılmalıdır?

- A) 80      B) 60      C) 70

2) Aşağıda verilen işlemlerden hangisi doğrudur?

- A)  $40+20 = 70$   
 B)  $80+10 = 70$   
 C)  $30+40 = 70$

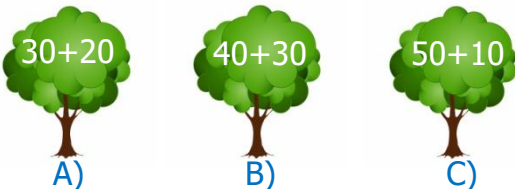


Aslanlar ile kaplanların yapmış olduğu futbol maçının sonucu yukarıda verilmiştir.

Maçta toplam kaç gol atılmıştır?

- A) 40      B) 20      C) 30

4) Hangi işlemin sonucu en fazladır?



5) 
$$\begin{array}{r} 7 \text{ onluk } 0 \text{ birlik} \\ + 2 \text{ onluk } 0 \text{ birlik} \\ \hline \end{array}$$

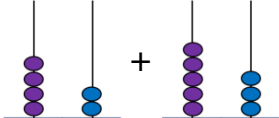
Yanda verilen işlemin yan yana yazılışı hangi seçenekte doğru verilmiştir?

- A)  $72+20$       B)  $27+70$       C)  $70+20$

6) Çanta ve topun fiyatı toplam kaç ₺ dir?

- A) 60 ₺  
 B) 50 ₺  
 C) 40 ₺



7)  Yanda verilen toplama işleminin sonucu kaçtır?

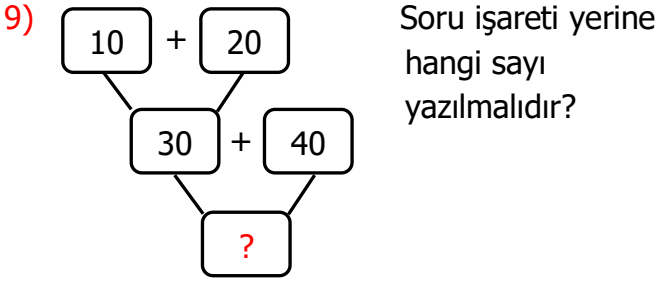
- A) 42      B) 53      C) 95

8) Bir kümeste 20 tavuk ve tavuklardan 10 eksik civciv vardır.

Kümeste toplam kaç tane tavuk ve civciv vardır?



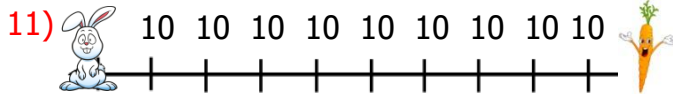
- A) 20      B) 30      C) 40



- A) 30      B) 50      C) 70

10) Aşağıdaki öğrencilerin hangisinin yapmış olduğu işlemin sonucu yanlıştır?

- A)  $30+30 = 30$   
 B)  $40+40 = 80$   
 C)  $20+20 = 40$



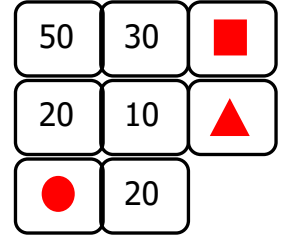
- A) 70      B) 80      C) 90

12) Yandaki işlemin sonucu kaçtır?

- A) 60  
B) 50  
C) 40



13) Yandaki şekilde zihinden toplama işlemi yaptığımızda  $\blacksquare, \blacktriangle, \bullet$  yerine hangi sayılar yazılmalıdır?



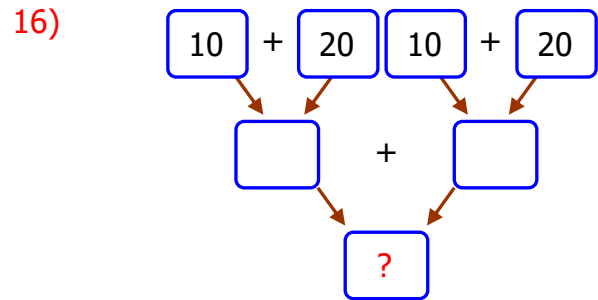
- $\blacksquare \quad \blacktriangle \quad \bullet$   
 A) 80    30    70  
 B) 70    80    30  
 C) 80    30    30

14) Aşağıdaki toplama işlemlerinden hangisinin sonucunun onlar basamağı 6'dır?

- $\begin{array}{r} 15 \\ + 34 \\ \hline \end{array}$        $\begin{array}{r} 30 \\ + 46 \\ \hline \end{array}$        $\begin{array}{r} 14 \\ + 55 \\ \hline \end{array}$   
 A)                      B)                      C)

15) Aşağıdaki işlemlerden hangisinin sonucu en küçüktür?

- A)  $20 + 40 = ?$   
 B)  $40 + 40 = ?$   
 C)  $50 + 40 = ?$



- A) 10      B) 40      C) 60